

Математика

3 класс


Презентация разработана

учителем начальных классов:

Актанбаевой Гульбайзан Зарлыкановной

Цели урока:

- ▶ углублять и расширять знания таблицы умножения и практические навыки уч-ся;
- ▶ повторить табличные случаи сложения и вычитания;
- ▶ развивать логическое мышление, смекалку, математическую зоркость;
- ▶ вырабатывать интерес к математике;
- ▶ укреплять дисциплину, воспитывать настойчивость, коллективизм.



"Решай, считай, отгадывай!"

**ДВЕ САРДЕЛЬКИ ВАРЯТСЯ 6 МИНУТ.
СКОЛЬКО ВРЕМЕНИ ВАРЯТСЯ
8 ТАКИХ САРДЕЛЕК?**

ОТВЕТ



**ШЛА ДЕВОЧКА В МОСКВУ И ПОВСТРЕЧАЛА
ТРЕХ МАЛЬЧИКОВ. КАЖДЫЙ ИЗ НИХ НЁС
ПО МЕШКУ, В КАЖДОМ МЕШКЕ ПО КОТУ.
СКОЛЬКО СУЩЕСТВ НАПРАВЛЯЛОСЬ В
МОСКВУ?**

Д

ОТВЕТ

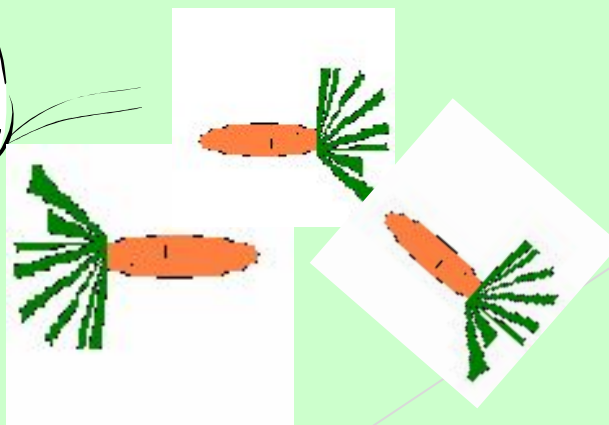


**ПЯТЬ ЛАМПОЧЕК ТУСКЛО ГОРЕЛИ В
ЛЮСТРЕ.
ХЛОПНУЛИ ДВЕРИ, ДВЕ ПЕРЕГОРЕЛИ.
СДЕЛАТЬ НУЖНО ВАМ МАЛОСТЬ –
СКАЗАТЬ, СКОЛЬКО ЛАМП ОСТАЛОСЬ?**

ОТВЕТ



**К ДВУМ ЗАЙЧАТАМ В ЧАС ОБЕДА
ПРИСКАКАЛИ ТРИ СОСЕДА
В ОГОРОДЕ ЗАЙЦЫ СЕЛИ
И ПО СЕМЬ МОРКОВОК СЪЕЛИ.
КТО СЧИТАТЬ, РЕБЯТА, ЛОВОК?
СКОЛЬКО СЪЕДЕНО МОРКОВОК?**



ОТВЕТ

МОРКОВОК

Ребусы

$$\textcircled{7} \times 6 = \textcircled{17} + 3$$

ПРЕ 100 Л

ОТВЕТ

100 ЛИЦА

ОТВЕТ

КИС .

ОТВЕТ

АК 3 СА

ОТВЕТ

ПА 3 ОТ

ОТВЕТ

100 ЛБ

ОТВЕТ

Игра "Весёлый счет"

4	13	20	7
14	22	1	18
8	6	11	15
16	3	21	10
2	19	9	23
12	17	24	5

Самостоятельная работа

Продолжи числовой ряд:

10, 30, 50, 70 ...

14, 34, 54, 74 ...

Найдите значение выражений:

6000х1 72000х1 823006х1

3000х0 5806х0 328006х0

**ПЕРВОЕ- ПРЕДЛОГ, ВТОРОЕ- ЛЕТНИЙ
ДОМ,
А ЦЕЛОЕ- РЕШАЕТСЯ С ТРУДОМ.**

ОТВЕТ



ЗАПИСЬ ЧИСЛА 100 СОСТОИТ ИЗ БУКВ И ТРЁХ ЦИФР. НАЙДИТЕ ЕЩЁ ЧИСЛО, В ЗАПИСИ КОТОРОГО КОЛИЧЕСТВО БУКВ РАВНО КОЛИЧЕСТВУ ЦИФР.

1 000 0 **ОТВЕТ** миллион



**ВОЗЬМИ ЧИСЛО ИЗ ПЕРВОГО ДЕСЯТКА,
МЕСТОИМЕНИЕ К НЕМУ ДОБАВЬ.
ПОЛУЧИШЬ СЛОВО- ВОТ И ВАМ ОТГАДКА-
И СМОЖЕШЬ ПАПА, МАМУ И СЕБЯ
НАЗВАТЬ.**

— . —
ОТВЕТ



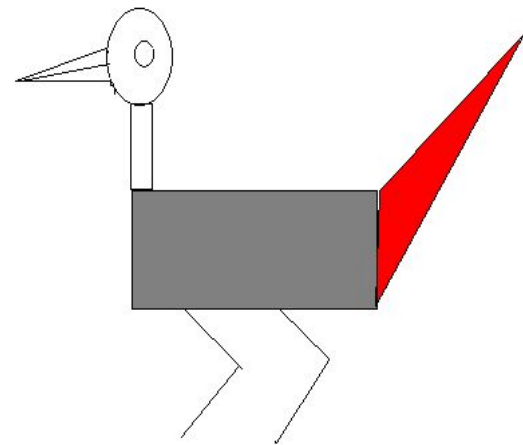
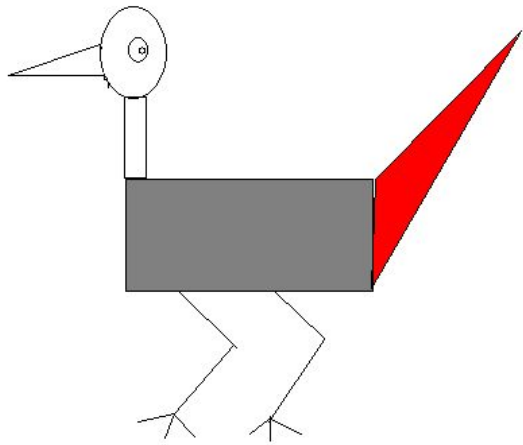
**... В ПОЛЕ НЕ ВОИН
ОДИН В Е ВОИН**

**... ОДНОГО НЕ ЖДУТ
СЕМЕРО () НЕ ЖДУТ**



**У ... НЯНЕК ДИТЯ БЕЗ ГЛАЗУ
У СЕМИ НЯНЕ БЕЗ ГЛАЗУ**

Физминутка

"Птички"



Посчитай и назови фигуры



**МЯЧИ СЛОЖИЛИ ПИРАМИДОЙ.
СКОЛЬКО ЗДЕСЬ МЯЧЕЙ?**



ОТВЕТ

30

РАБОТА В ГРУППЕ

- ▶ Рыболов за 2 минуты поймал 4 рыбки. За сколько минут он поймает 8 таких же рыбок?
- ▶ Одно яйцо может свариться за 4 минуты. Какое наименьшее количество минут потребуется, чтобы сварить 3 таких же яйца.
- ▶ В коробке лежат 5 карандашей: 2 синих и 3 красных. Сколько карандашей надо взять из коробки, не заглядывая в не, чтобы среди них был хотя бы 1 красный карандаш?
- ▶ Батон разрезали на 3 части. Сколько сделали разрезов?
- ▶ Бублик разрезали на 4 части. Сколько сделали разрезов?
- ▶ Четыре мальчика купили 6 тетрадей. Каждому мальчику досталось не меньше одной тетради. Мог ли купить какой-нибудь мальчик 3 тетради?

Молодцы!

