

Проверка домашнего задания

63

67

66

77

67

63



Цветочный город





A B C

Тема урока:

к **в**
р **д**
а **т** **а**



ABC

Тема
урока:



Квадрат





$12-8$



$14-8$



$15-6$



$8+7$



$9+9$



$17-6$



$25-5$



$19-10$




$13-5$



$29-20$





**Что такое квадрат?
Чем квадрат
отличается от
прямоугольника?
Чему равен периметр
квадрата?**



**Учебник стр. 35 №
1**





У. 25 72


Пончик в дороге Незнайке дал 12 ватрушек, пирожков на 3 меньше, чем ватрушек, а булочек на 7 больше, чем пирожков. Сколько булочек дал Пончик Незнайке?





AlfaDay.net





Вставь знаки +,-

$$77 \ast 5 \ast 8 = 200$$

$$16 \ast 9 \ast 5 = 22$$

$$4 \ast 9 \ast 7 = 6$$

$$66 \ast 4 \ast 9 \ast 11$$



**Построй
квадрат со
стороной 5 см.
Найди**

периметр







Какие цели ставили в начале урока...

Достигли мы поставленных целей?

На уроке мне было интересно...

Мне понравилось...





**На уроке я все понял,
могу объяснить
другим.**


**Я понял, но у меня
есть вопросы.**

Я не понял материал

ока.



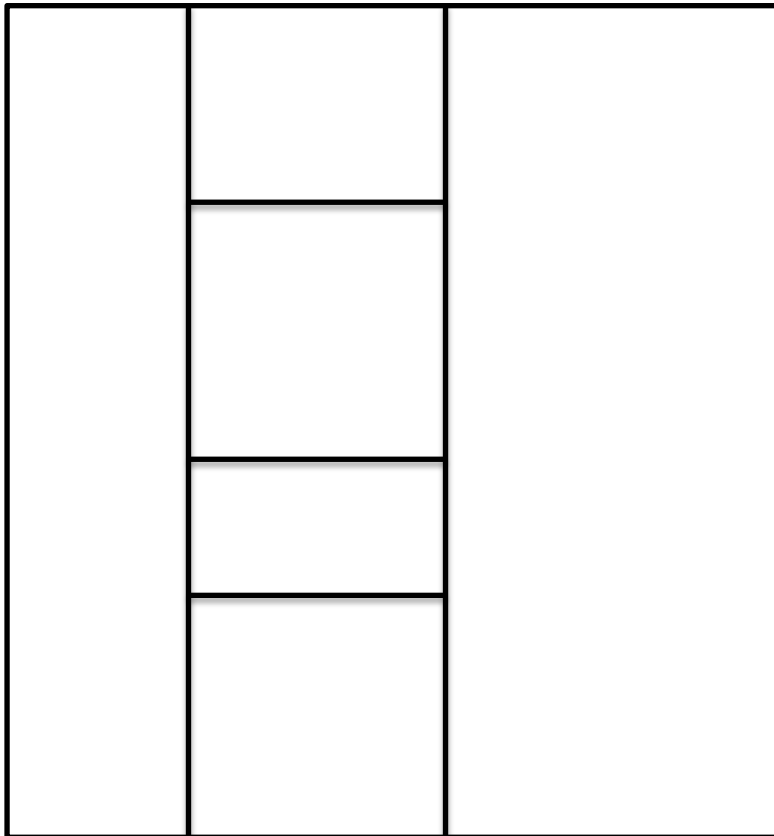
*Молодцы!
Спасибо!*



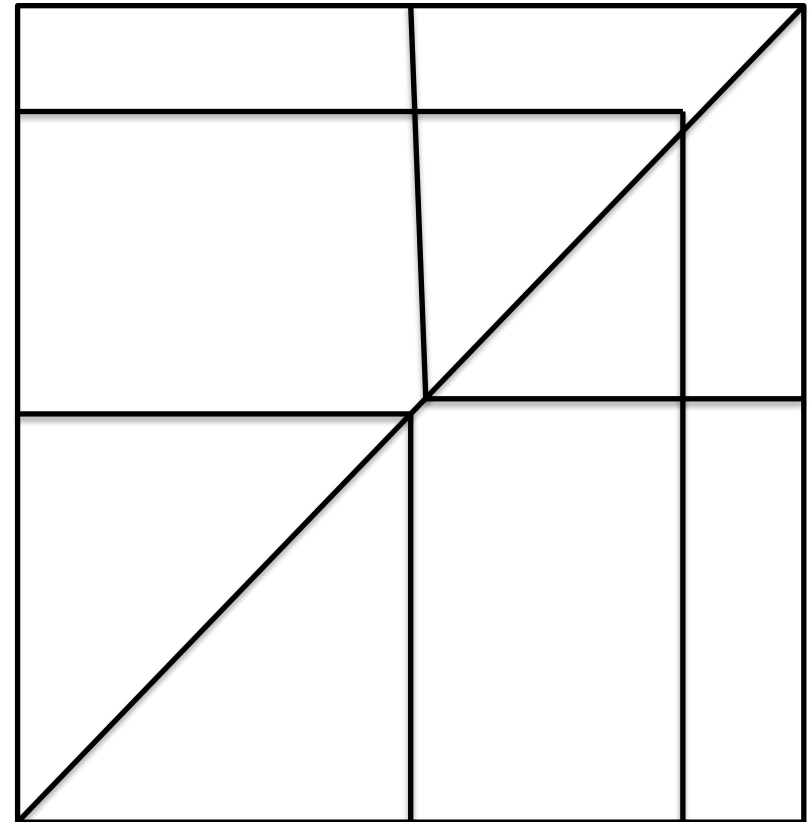
**Найди на рисунках «
скрытые» квадраты.
Определи, сколько их на
каждом рисунке.**



1

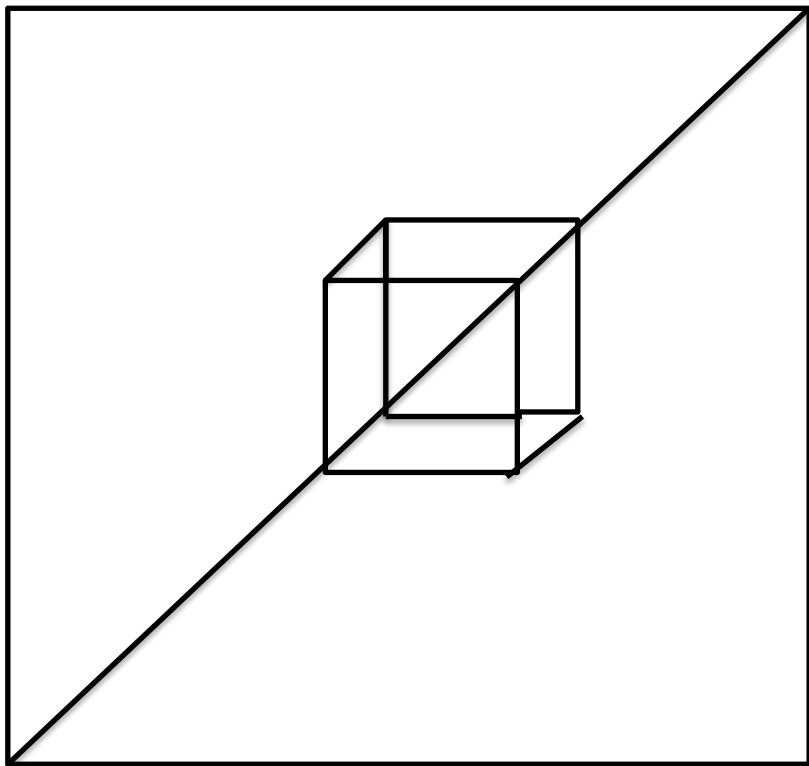


2





3



4

