

# \* В царстве Логики



Понятие  
и его признаки. \*

## \* Игра «Угадай предмет»

\* Круглое, спелое, сочное, румяное \_\_\_\_\_ .

\* Круглый, красный, съедобный \_\_\_\_\_ .

\* Желтый, овальный, кислый, съедобный \_\_\_\_\_ .

\* Круглый, кожаный, несъедобный \_\_\_\_\_ .

\* Деревянный, длинный, твердый, цветной \_\_\_\_\_ .

\* Вязаный, мягкий, теплый, длинный \_\_\_\_\_ .

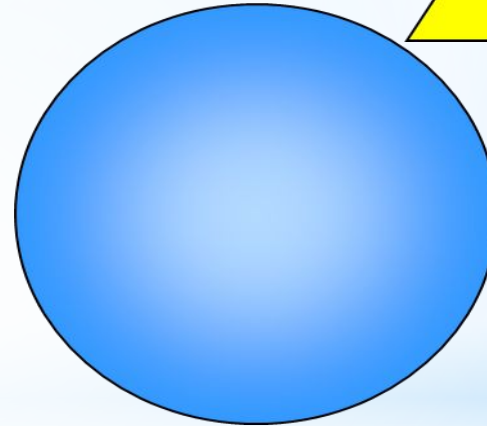
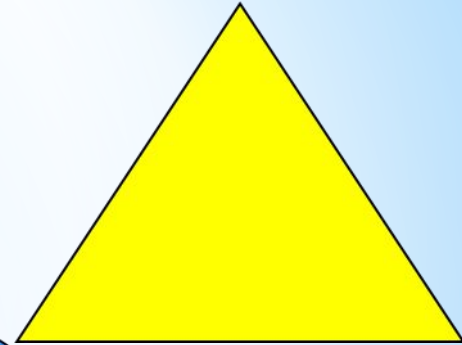

## \* Разминка

Как удалось угадать предмет?

## Цвет





## Форму




**\* Почти все предметы имеют...**




## Размер, вес



## Вкус, материал



\* Цвет, форма, размер, материал,  
масса, вкус, название - **признаки**  
**ПОНЯТИЙ**



**\*Угадай понятие по его признакам**

- Был зеленым, маленьким,  
Стал большим и аленьким



- Сам алый, сахарный,  
Кафтан зелёный, бархатный.



- Круглая и жёлтая, словно солнце яркое.  
Самая вкусная, сочная и яркая.



\* Загадки

\* Выбери понятие,  
для которого  
характерны все  
три признака

A Venn diagram with three overlapping circles. The top-left circle is labeled 'спелая' (ripe), the top-right circle is labeled 'сладкая' (sweet), and the bottom circle is labeled 'красная' (red). The central intersection of all three circles contains a question mark '?'. Below the diagram, four objects are shown in separate square frames: a red candy, a strawberry, a pumpkin, and a red rose.

\* Признаки предмета помогают выделить  
его среди остальных

\* Обращаем  
внимание на  
**существенные**  
признаки!



\* Игра «Что лишнее»





3

\* Подготовь подобное задание

?

\* Угадай, кого позовут домой, если известно, что это не маленький, не девочка, без головного убора.



\* Угадай-ка



проберка

# Молодцы!



\* Что такое «понятие»?

Как выделить  
нужное понятие  
среди остальных?