

Презентация к уроку математики

1 класс

Килограмм.

Учитель начальных классов
МОУ «ООШ№8» г.
Сыктывкара
Бондаренко Н.И.

Найди правильное решение. Объясни свой выбор.

Вчера температура воздуха на улице была 8 градусов, а сегодня на 2 градуса теплее. Какая температура воздуха сегодня?

$$1) 2 + 8$$

$$2) 8 - 2$$

Найди правильное решение. Объясни свой выбор.

Длина ручки 8 см, а длина листочки 2 см. На сколько ручка длиннее ластика?

$$1) 2 + 8$$

$$2) 8 - 2$$

Найди правильное решение. Объясни свой выбор.

Мама собрала 8 стаканов ягод, а дочь- на 2 стакана меньше. Сколько стаканов ягод собрала дочь?

$$1) 2 + 8$$

$$2) 8 - 2$$

Найди правильное решение. Объясни свой выбор.

Папа принёс из магазина 8 кг картофеля и 2 кг моркови. Сколько кг овощей купил папа?

$$1) 2 + 8$$

$$2) 8 - 2$$

-Какие величины мы
сравнивали в задачах?

-В чём измеряли температуру?

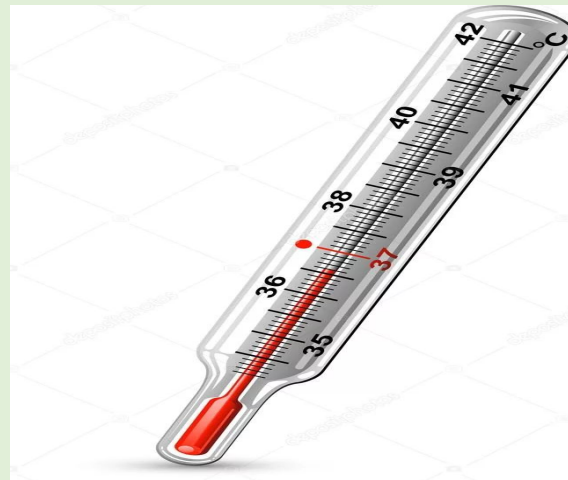
-В чем измеряется количество
ягод?

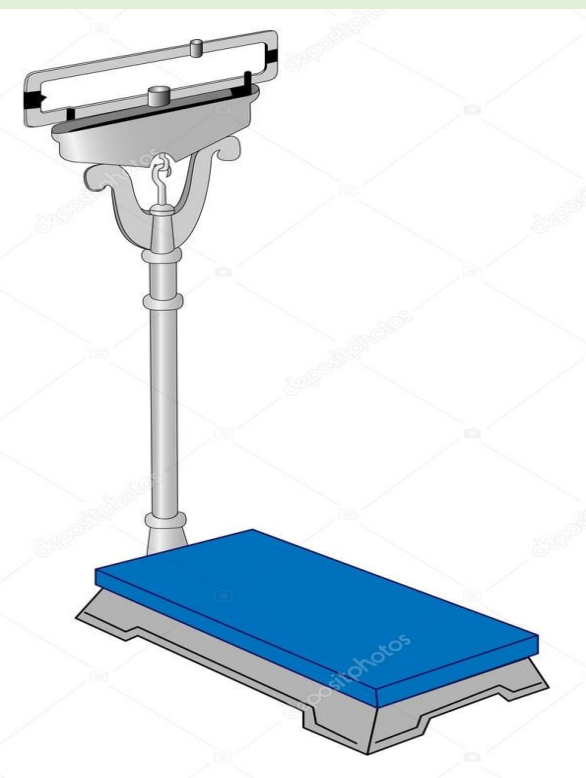
-В чём измеряли длину
ластика и ручки?

-В чём измеряли массу
овощей?



Чем
будем
измерять





Виды

всех

медицинские

и



торговые
электронные



механические

и



Весы
бытовые
е

Весы
ювелирные
е

Крановые
весы



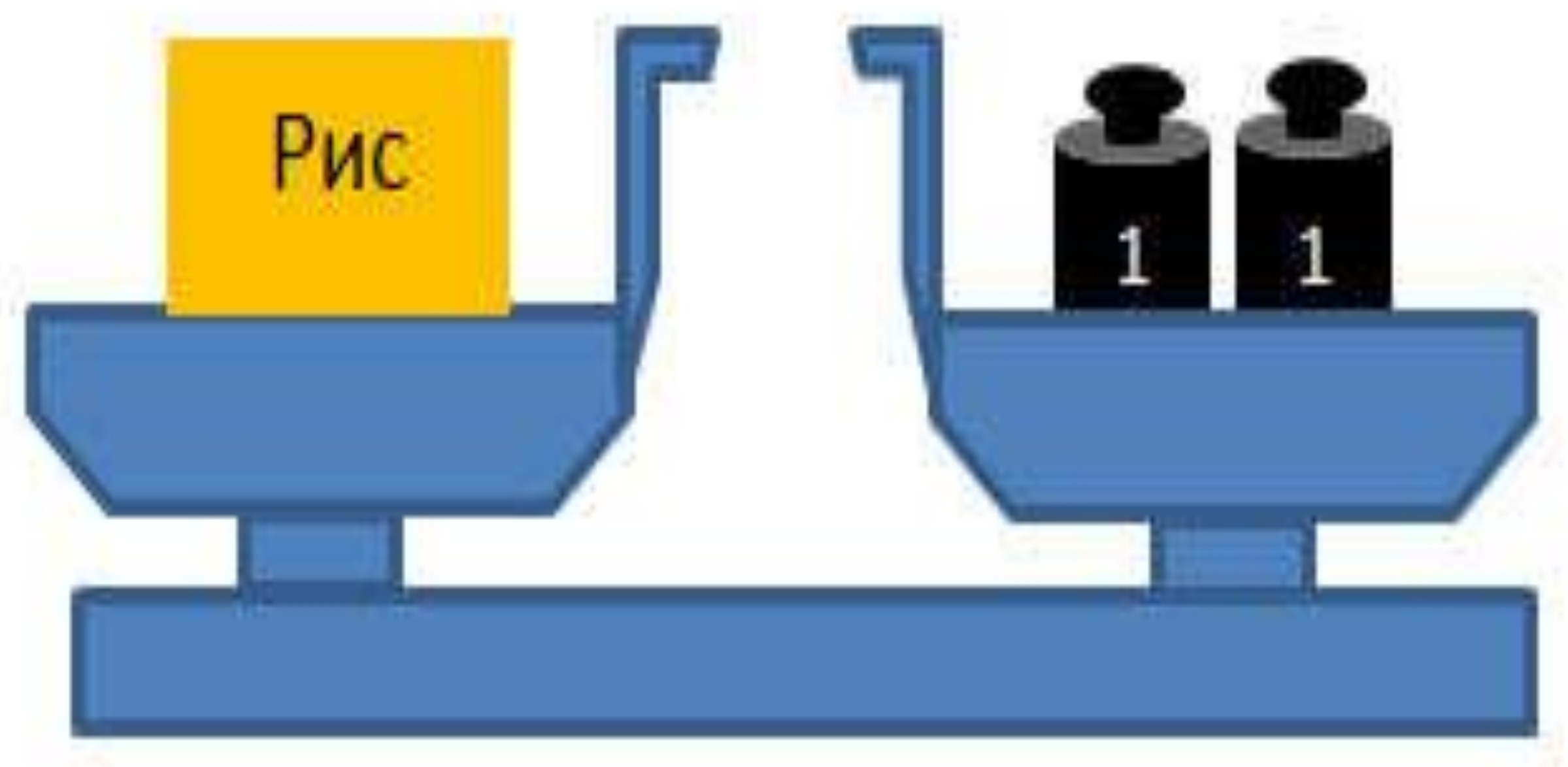




Рис. 50



Какова масса кролика?



Какова масса белки?
Кто тяжелее заяц или белка?

Что легче?

1 кг



=

1 кг



Итог урока:

- Какое новое свойство предметов мы узнали на уроке?**
- В чём измеряется масса?**