

САМОСТОЯТЕЛЬНАЯ РАБОТА



5

Задача № 109

В столовой за день израсходовали сорок семь килограммов хлеба. Из них за завтраком израсходовали двенадцать килограммов, за обедом — четырнадцать килограммов, а остальной хлеб остался на ужин. Сколько хлеба осталось на ужин?

4. Выполни действия в столбик.

$$\begin{array}{r} + 835 \\ + 114 \\ \hline \end{array}$$

$$\begin{array}{r} + 614 \\ + 201 \\ \hline \end{array}$$

$$\begin{array}{r} + 238 \\ + 225 \\ \hline \end{array}$$

$$\begin{array}{r} + 675 \\ + 25 \\ \hline \end{array}$$

$$\begin{array}{r} - 394 \\ - 72 \\ \hline \end{array}$$

$$\begin{array}{r} - 687 \\ - 245 \\ \hline \end{array}$$

$$\begin{array}{r} - 456 \\ - 328 \\ \hline \end{array}$$

$$\begin{array}{r} - 815 \\ - 369 \\ \hline \end{array}$$

$$\begin{array}{r} - 936 \\ - 439 \\ \hline \end{array}$$


$$\begin{array}{r} - 800 \\ - 322 \\ \hline \end{array}$$

$$\begin{array}{r} + 385 \\ + 287 \\ \hline \end{array}$$

$$\begin{array}{r} + 148 \\ + 351 \\ \hline \end{array}$$

Ах, какие молодцы!





Найди площадь и периметр
прямоугольника со
сторонами 7 см и 4 см

В

С




А


Д

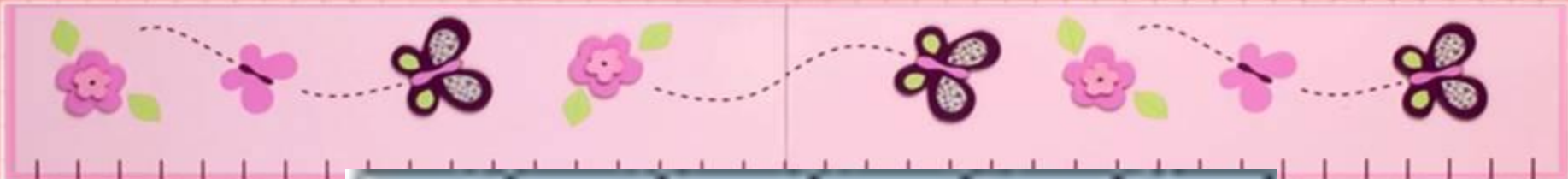
5






Начерти квадрат со стороной 6 см.
Найди его периметр и площадь.








5



Начерти квадрат со стороной 1
дм. Найди его периметр и
площадь.



Домашняя работа

Стр 90 № 258

Домашняя
работа ?



5