







Балалар
құтқарындар,
тентек ханзада
өзіне берілген
тапсырмаларды
орындай алмай,
бізден талап етіп
отыр. Сендерден
көмек керек



Баған түрінде жазып есепте:

90-58

25+55

95см-43см

57+13

42+28

55см+41см

56-36

100-65

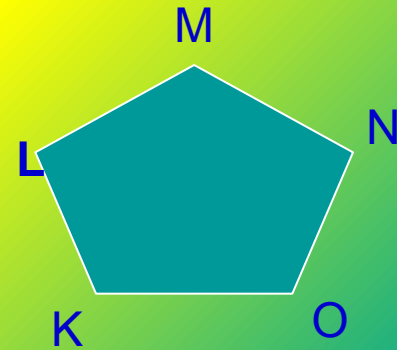
79кг-56кг



**Балалар, ханзадаға есеп
шығарып беріңіздерші!**



ФИГУРАЛАРДЫҢ ПЕРИМЕТІРІН ТАП:



$P =$

$P =$




Балалар, ханзадаға сөзді
есепті шығарып берейікші





- Саятта 39 бейне таспа бар. Оның 17-іне музыка, 16-ына фильм, қалғанына мультфильм жазылған. Саятта мультфильм жазылған неше бейне таспа бар?



Менен буратино тендеуді қалай шығаратындығы туралы сұрап тұр ал мен білмей тұрмын, арыстан маған көмек бересің ба?





Теңдеулерді шеш:



$$90 - X = 63$$

$$x + 30 = 20 + 38$$

$$27 + X = 90$$

$$X - 27 = 63$$



15 - 3 - 3 - 3 - 3 - 3



Балалар, ханзадаға кестені
толтырып беруге көмек береміз
ба? Олай болса кестені өрнек
түрінде жазып беріңдерші.



	Бағасы	Сенде болғаны	Қалды
	37теңге	50 теңге	? теңге
	54теңге	120теңге	? теңге
	46теңге	80теңге	? теңге

180

90

150

120

30

600

300

500

400

100



Оқушылар, мен ауырып
тұрмын , ханзаданың
тапсырмасын сендер
шығарып беріңдерші



$$35+65$$

100

$$77+10$$

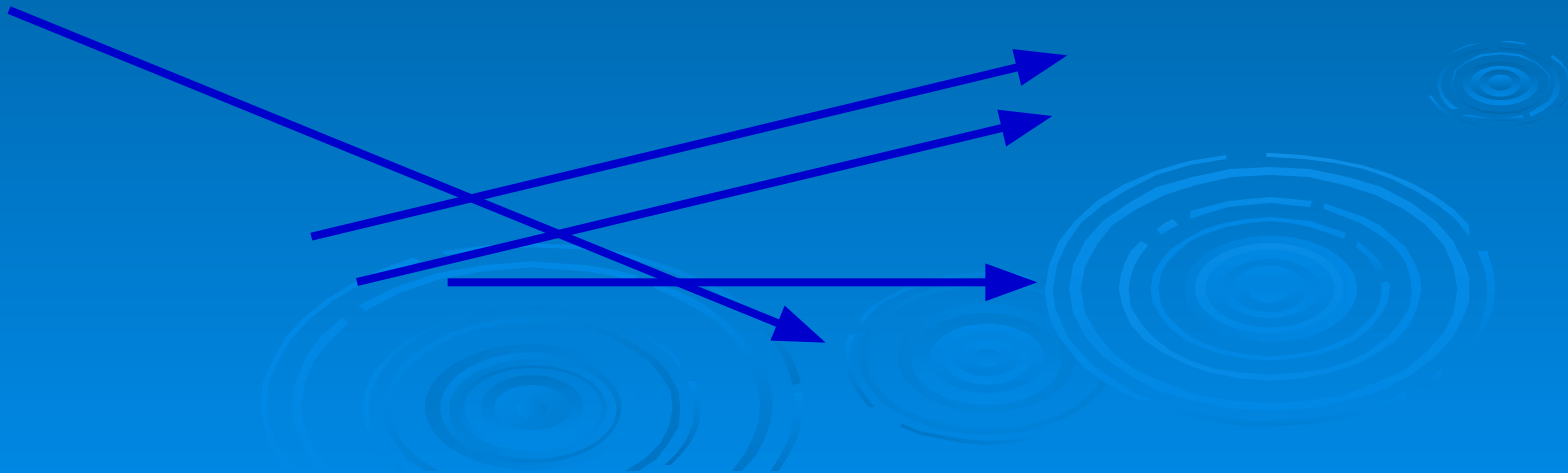
24

$$(50+34)-60$$

87

$$90-(30+30)$$


20



**Кірпі, балалардан көмек
сұрашы, мен ондай
тапсырмаларды шығара
алмаймын**



$$2+24-26+28+30+32-32+16-6=68$$



Сен мына кілтті алғын келсе
менің келесі тапсырмама тез
жауап бер.



Егер бөлменің әр бұрышында 1 мысықтан, әр мысықтың қарсысында 3 мысықтан отырса, бөлмеде неше мысық бар? Дәптеріңе сызба түрінде сал



Оқушылар, сендерге көп
рахмет! Мен сендердің
арқаларында
сарайымның кілтін
алдым. Мен де енді
сендер сияқты білімді
болуға тырысам.

