

MATEMATIKA




Шеңбер болып тұрайық жылы жүзбен
Бізге келсін, қуаныш нұр іздеген
Шуақ толған жанымыз, жүрегіміз
Үлгі алсын көрген жан мына бізден.



КӨҢІЛ-КҮЙІНДІ ТАҢДА!!!

Күлуде

Күлуде



ЖЫЛАП ТҰР



АЙҚАЙЛАП ТҰР

ОЙЛАНУ

ЖАСЫРЫН ХАТ

ЖАСЫРЫН ХАТ





1	2	3	4	5	6	7	8
---	---	---	---	---	---	---	---

2.
«Н»
Судың
астында
қандай тас
жоқ?

4.
«І»
 $16+6+4$

1.
«Ү»
Сиырдың неше
аяғы бар?

3
«Д»
 $28-6-2$


5.
«С»
Екі сиырда
неше аяқ
бар?

8.
«Р»
Қардың
ортасында
не бар?

6.
«Т»
 $X+6=20$
Құпия сан?

7.
«Е»
Бес қоянда
неше құлақ
бар?






Қарашаның 22-сі. Сынып жұмысы

666 көркем жазу

Көрші сандарын ата;
Разрядтарын ата;
Неше таңбалы сан?



«БАЛЫҚ АУЛАУ»

82-бет,
№ 2 есеп.

«МЕРГЕНДЕР»

82 – бет,
№ 3 есеп.





Дүниені ғаламат
Төрт қонақ жүр кезекпен
Түгел шарлап аралап
Ақ киімді біреуі,
Сары киімді біреуі
Көк киімді біреуі
Әлем-жәлем киімі
Тағы бірі жүреді



Бір, үш, бес, он
Жиырма, елу,
Жүз, екі жүз, мыңы бар
Әрқайсысының құны бар



Үш тілі тықылдап,
Жаңылмайды ақылды –ақ



Оңынан да оқысаң сол сан,
Солынан да оқысаң сол сан
Ол қандай екі таңбалы сан?

Үш жүз алпыс бес
Үш жүз алпыс алты
Әр жылдағы қалпы



Екі түйе, төрт жылқы,
Екі сиыр, үш ешкі
Екі қоян, төрт түлкі
Таба алмасаң бол күлкі.

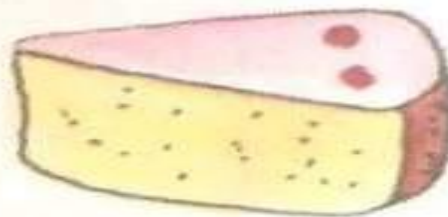
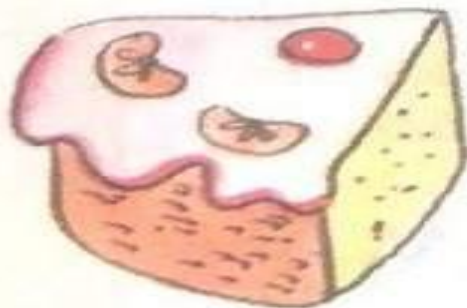


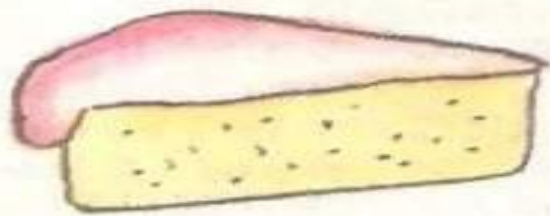


ТАҢБАЛАРЫН ҚОЙ



$$3 \quad 3 \quad 3 = 3$$

$$4 \quad 4 \quad 4 \quad 4 \quad 4 = 4$$





Көңіл-күйіңді таңда!!!



ЖЫЛАП ТҮР

АЙҚАЙЛАП ТҮР

ОЙЛАНУ



Жарайсыңдар, балалар!