

7

?

1

7

4

?

7

?

2

7

3

?


$$4 + \star = 6$$

$$5 - \star = 3$$

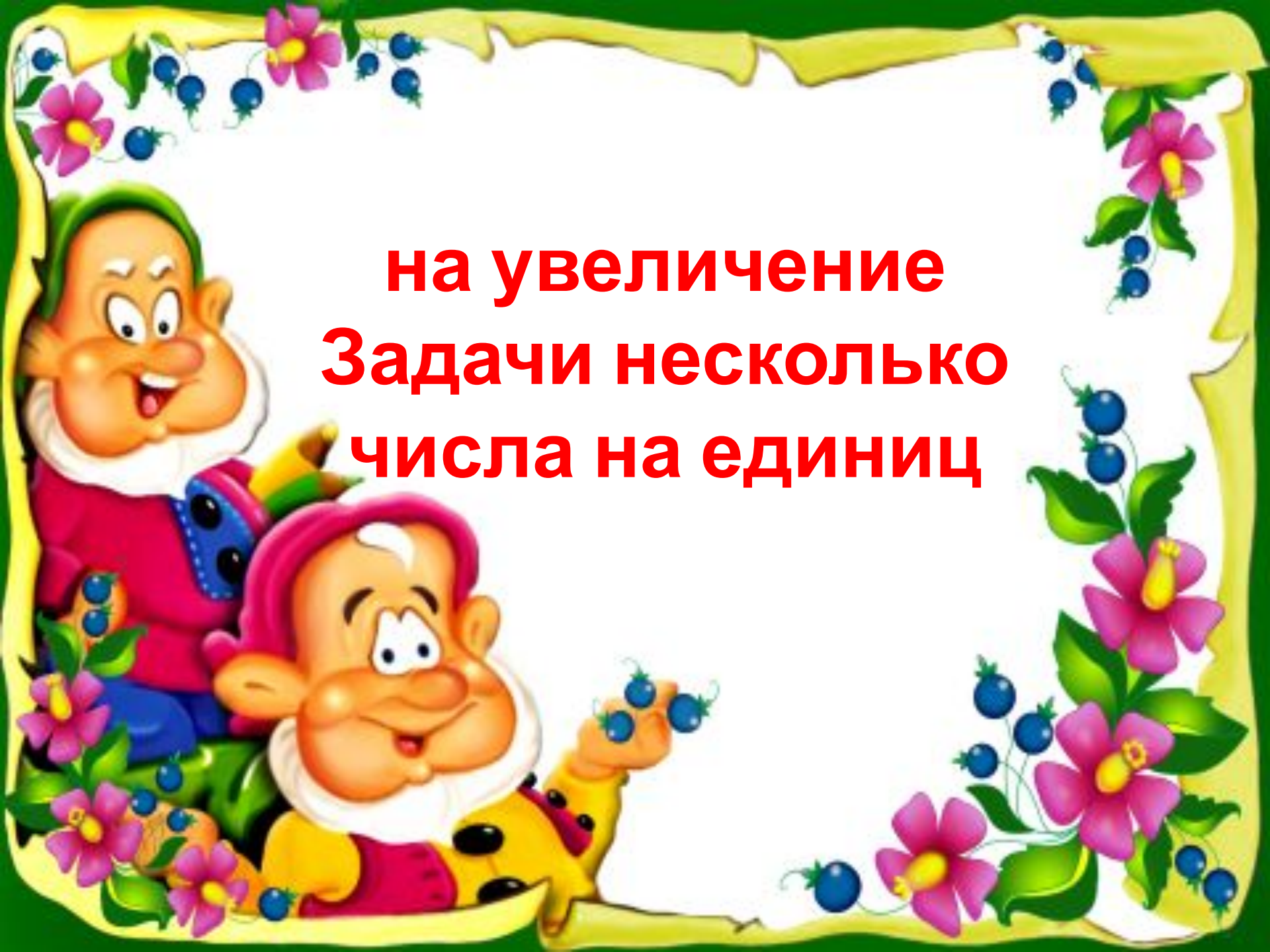
$$8 + \star = 10$$

$$2 + \star = 4$$

$$7 - \star = 5$$


$$8 - \star = 6$$

$$7 + \star = 9$$

A decorative border surrounds the page, featuring pink flowers with yellow centers and clusters of blue berries on green vines. The border is set against a light yellow background that resembles a scroll.

на увеличение
Задачи несколько
числа на единиц





**Задачи на
увеличение числа на
несколько единиц**









$10 - 2 =$

8

$8 - 2 =$

6

$6 - 2 =$

4

$4 - 2 =$

2

$2 - 2 =$

0

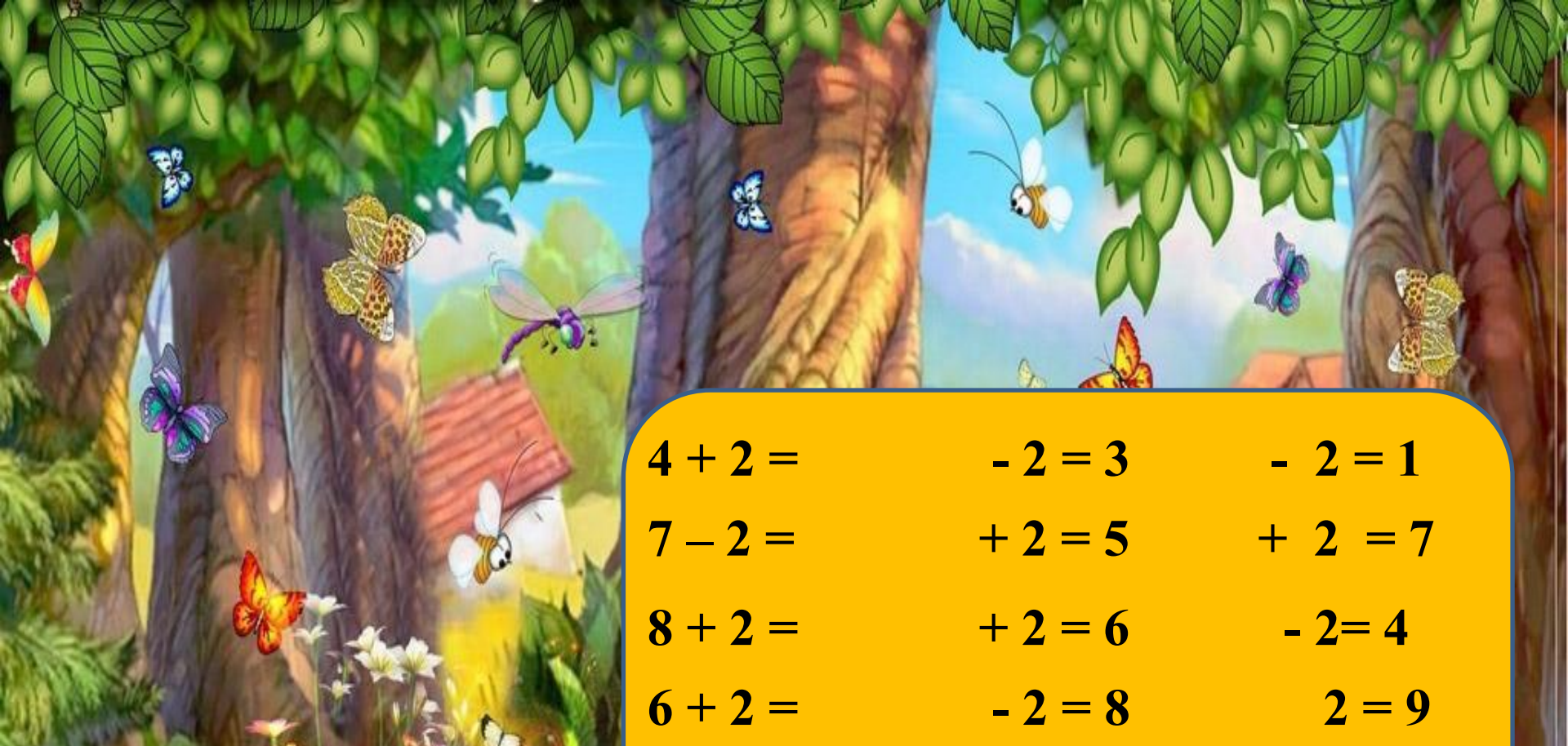


В корзине лежало **2** груши, а
яблок на **1** больше. Сколько
яблок лежало в корзине?



На одной полянке сидело **4** зайчика, а на другой на **2** зайчика больше. Сколько зайчиков сидело на другой полянке?





$4 + 2 =$

$- 2 = 3$

$- 2 = 1$

$7 - 2 =$

$+ 2 = 5$

$+ 2 = 7$

$8 + 2 =$

$+ 2 = 6$

$- 2 = 4$

$6 + 2 =$

$- 2 = 8$

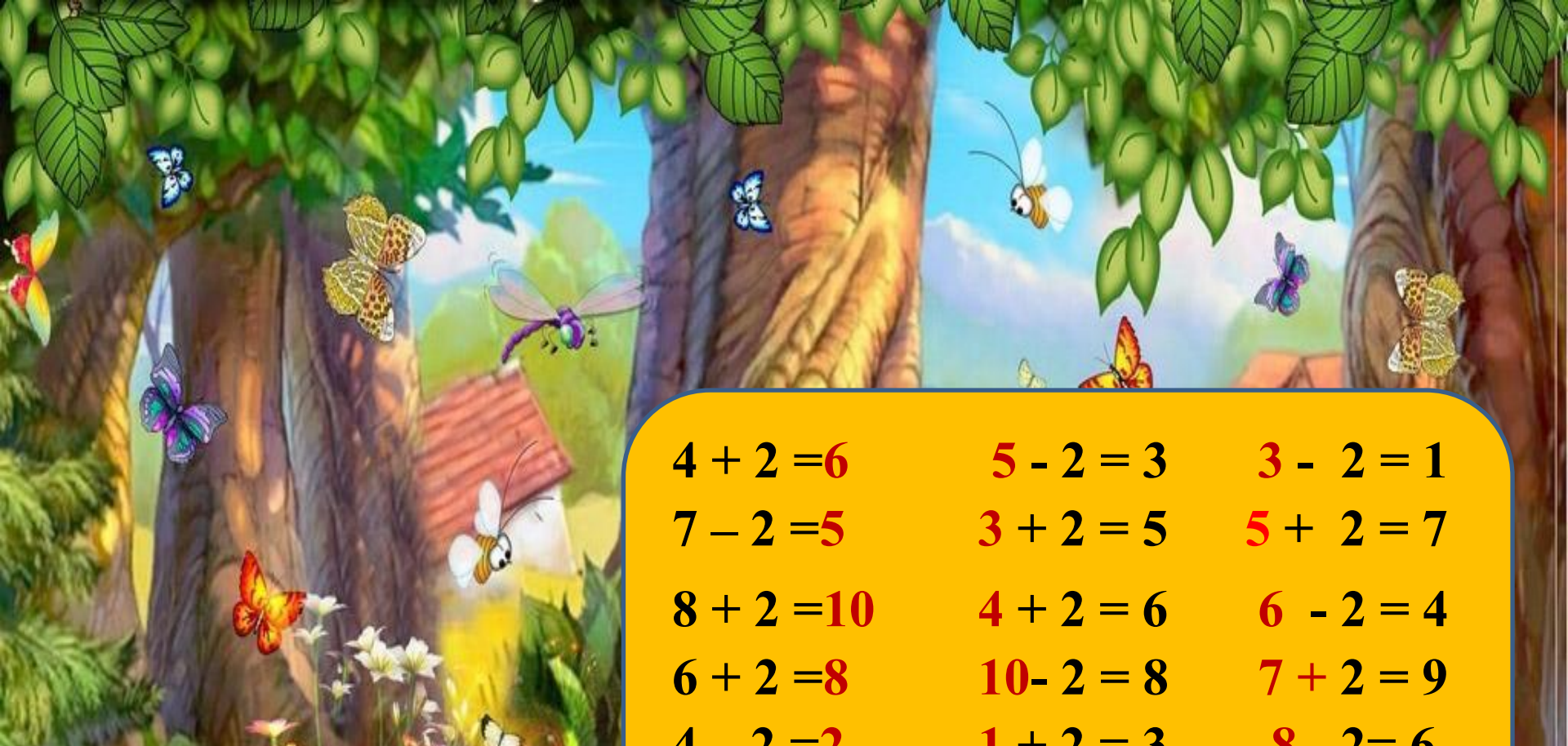
$2 = 9$

$4 - 2 =$

$+ 2 = 3$

$2 = 6$





$$4 + 2 = 6$$

$$5 - 2 = 3$$

$$3 - 2 = 1$$

$$7 - 2 = 5$$

$$3 + 2 = 5$$

$$5 + 2 = 7$$

$$8 + 2 = 10$$

$$4 + 2 = 6$$

$$6 - 2 = 4$$

$$6 + 2 = 8$$

$$10 - 2 = 8$$

$$7 + 2 = 9$$

$$4 - 2 = 2$$

$$1 + 2 = 3$$

$$8 - 2 = 6$$

$$4 + 2 = 6$$



До скорой встречи!

