



Оңтүстік Қазақстан облысы
Сайрам ауданы
№20 С.Сейфуллин атындағы мектеп-гимназиясы
Кенжебаева Балзира Урикбаевна
Бастауыш сынып мұғалімі



МАТЕМАТИКА

*Мектепалды даярлық тобы
0 “Г”*





Сабақтың тақырыбы:

*1 -ден 20-ға дейін
санау*





**Ақпыз, сары, қарамыз,
Бәрімізде баламыз.
Бір қалада тұрамыз,
Бір мектепке барамыз,
Білімді болып шығамыз.**



**Мейірімді жүрекпен,
Ақ пейілді тілекпен,
Амандасып алайық,
Бір жадырап қалайық
Еңбек етіп ерінбей,
Жақсы баға алайық.**



Сабақтың мақсаты:



1-ден 20-ға дейін санау, сандарды ажырата алуға үйрету.

20-ға дейінгі сандарды баспа түрінде жазуды түсіндіру.

Цифрды дұрыс жазуға, ұқыпты жазуға тәрбиелеу.





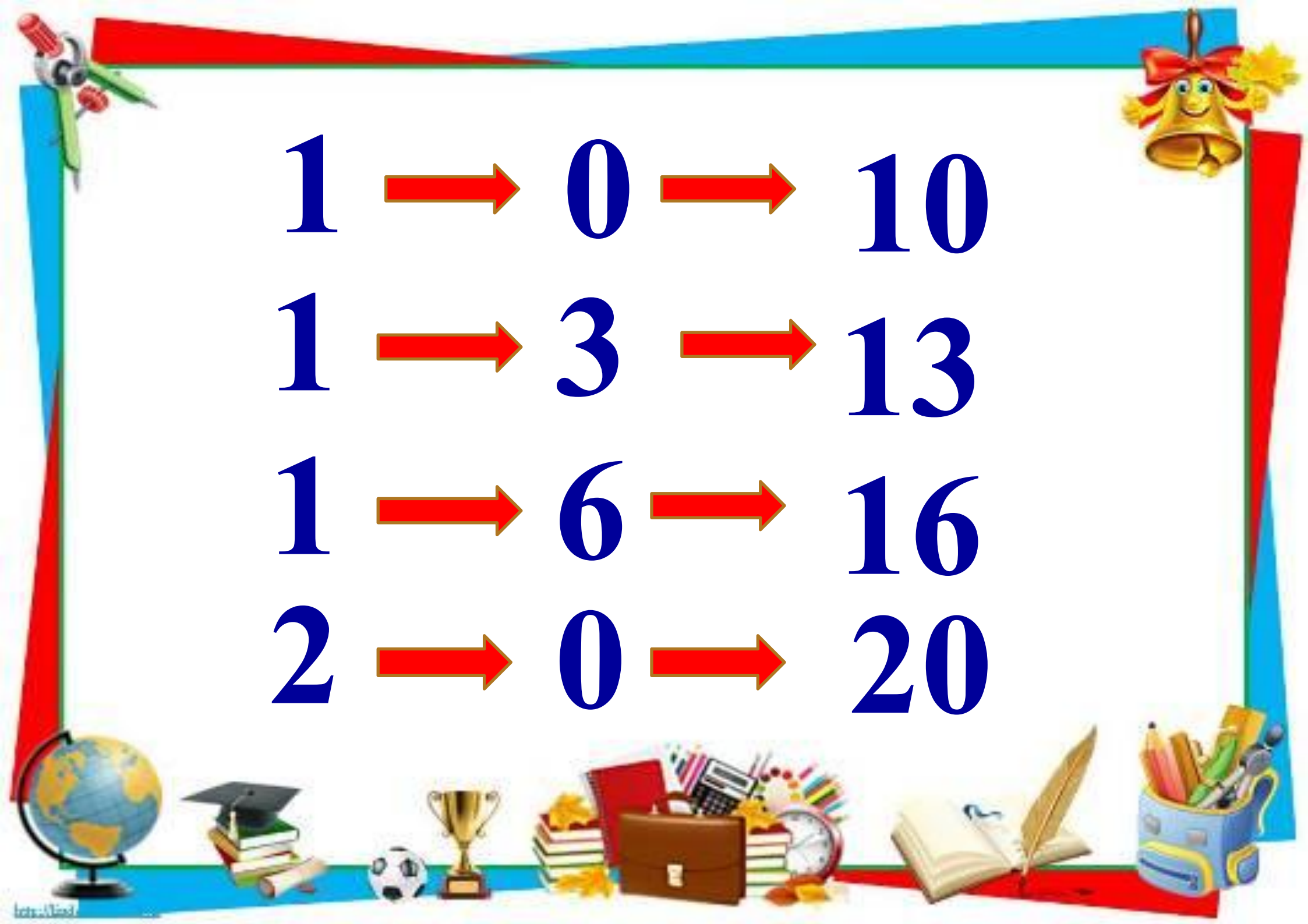
Өткен сабақты қайталау:

- 1-ден 10-ға дейін санау.
- 10-нан 1-ге дейін санау.
- Көрші санды табу.
- Апта күндерін атау.



1 2 3 4 5

6 7 8 9 10




1 → **0** → **10**

1 → **3** → **13**

1 → **6** → **16**

2 → **0** → **20**





1 - ТАПСЫРМА



1- ден 20- ға дейін санаймыз





1

2

3

4

5

6

7

8

9

10

11

12

13

14

15

16

17

18

19

20



Қалдырылған сандарды
жапсыр.

11

13

15

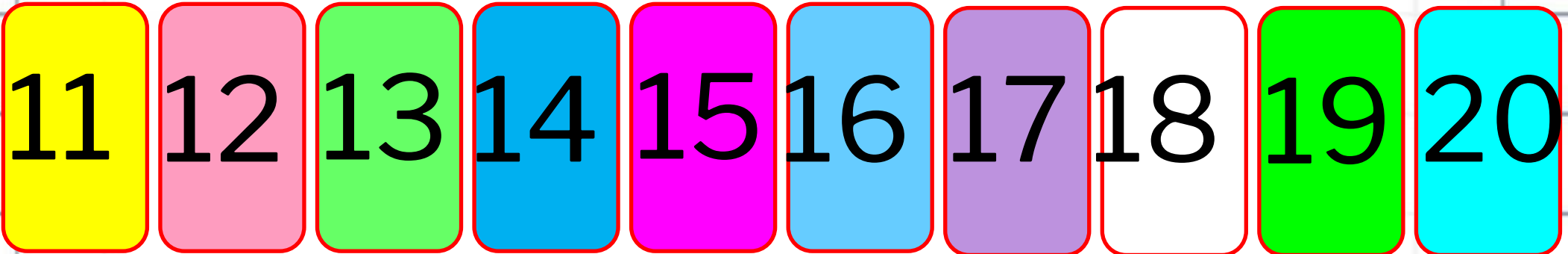
18

19





**Қалдырылған сандарды
жапсыр.**



2-



ЖІПТЕГІ
тапсырм
ЖАЛАУДЫ САНА

ЖӘНЕ БОЯ.

а



ЖІПТЕГІ ЖАЛАУДЫ САНА ЖӘНЕ БОЯ.



ЖІПТЕГІ ЖАЛАУДЫ САНА ЖӘНЕ БОЯ.



Сергію сәмі



3-тапсырма

***Мысалдарды шығарып,
сәйкес жалаушаны табу.***



Мысалдарды шығар.

 $7-2$

 $1+2$



5



3



6



2



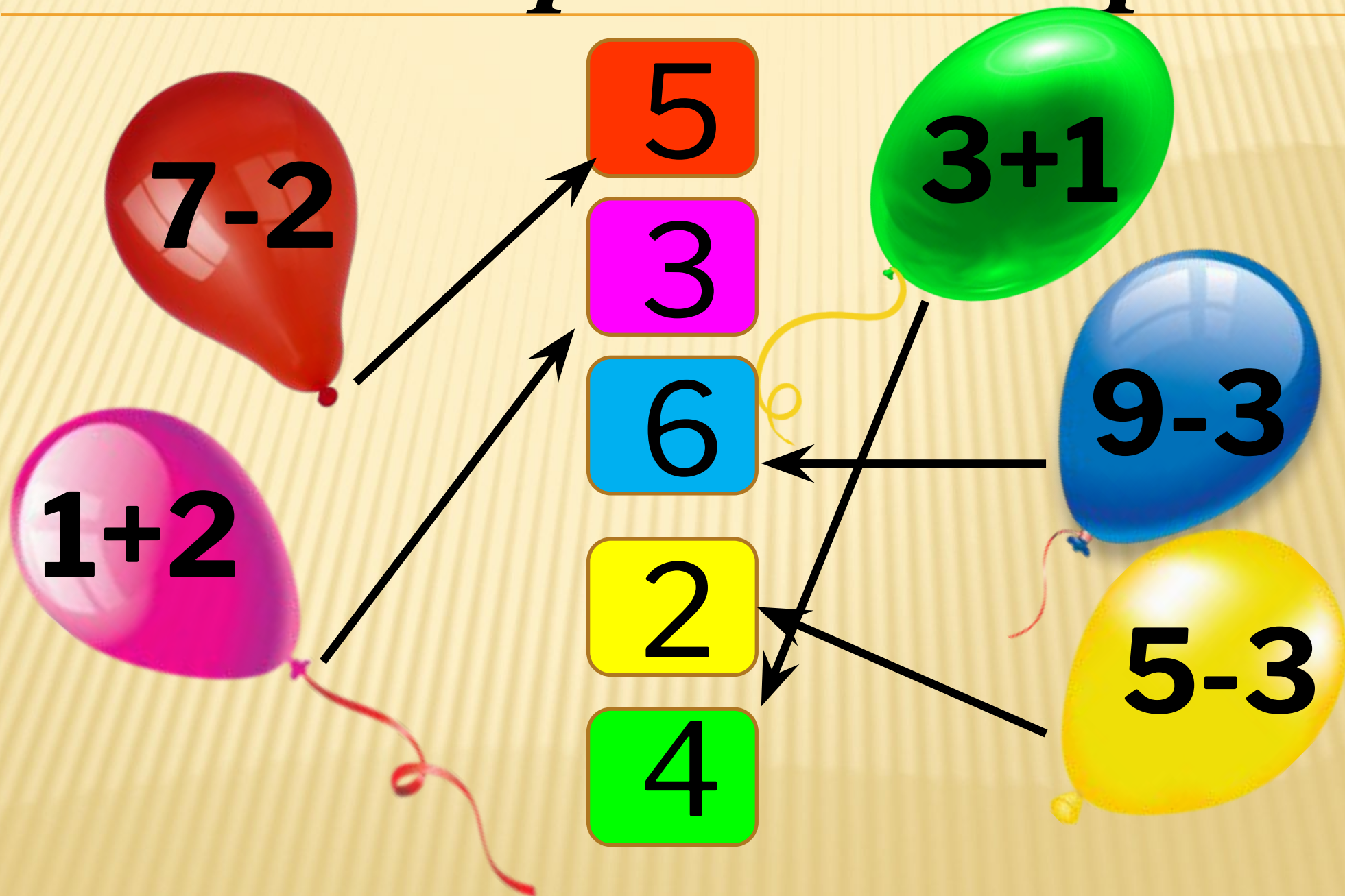
4

 $3+1$

 $9-3$

 $5-3$

Мысалдарды шығар.



4-тапсырма

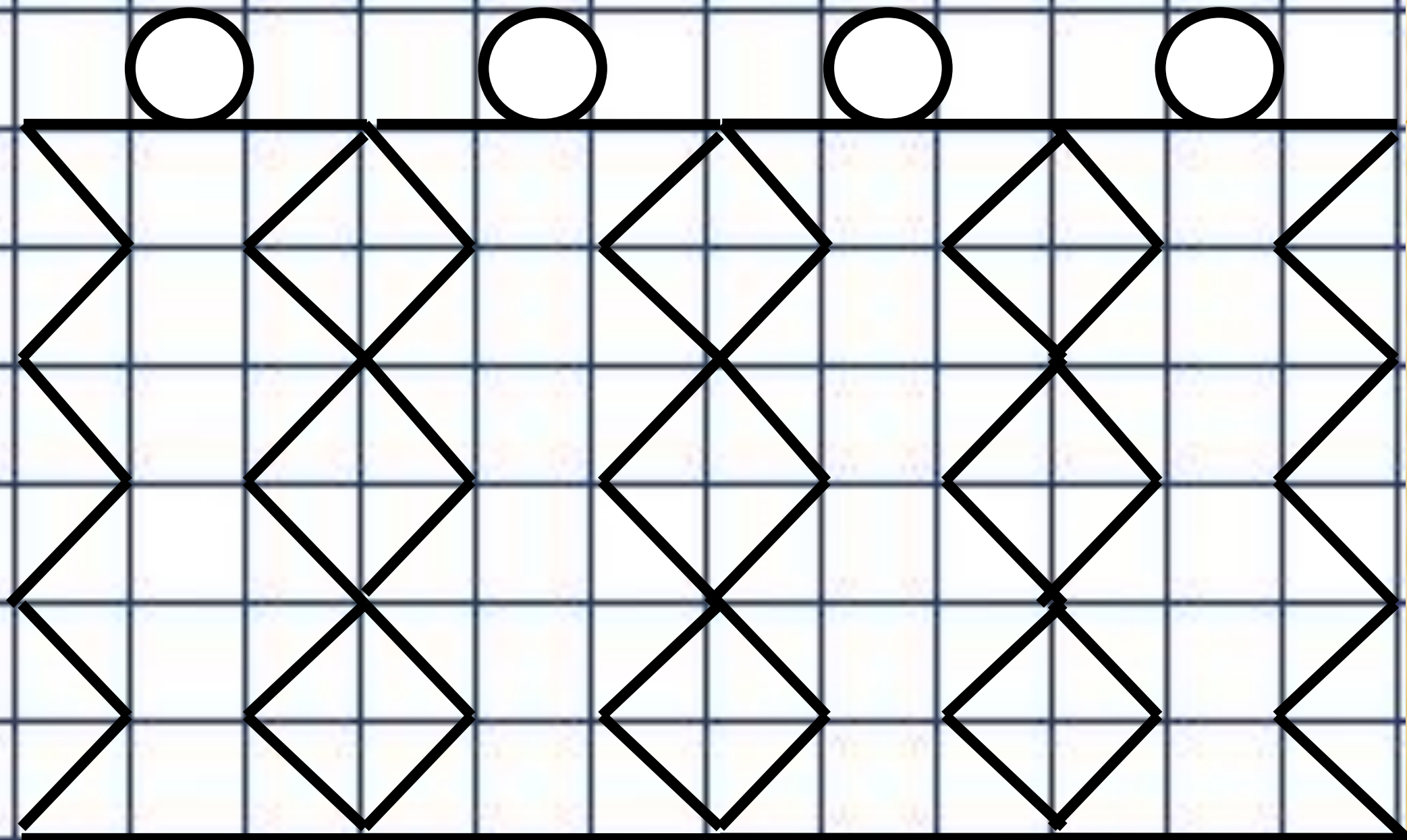
**“11,12 цифрын жаз.”
Фигураларды орналастыр**



11, 12 цифрын жаз.

1 1 1 1 1 1 1 1

1 2 1 2 1 2 1 2



“Кім жылдам?”

«Кім көп кәмпит жинайды?»

Берілген кәмпиттердің сыртындағы есептерді шығарып жинау. Конфеттерді санау, жеңімпазды анықтау.





Кері байланыс

- Бүгінгі сабақтан не үйрендік ?
- Нешеге дейін санай аласындар?





***Назарларыңызға
рахмет!!!***



