

# Числа от 1 до 10. Нумерация.



1, 2, , 4, 5, , , 8, , 10.

10, 9, , , , 5, 4, , , 1.

•  $4 + 1 = \square$

•  $7 + \square = 8$

•  $2 - \square = 1$

$\square + 3 = 4$

$8 - \square = 7$

$\square - 1 =$



Было



Стало





Было



Стало




Запиши число сторон  
многоугольников.



\* Нарисуй столько флажков, чтобы их было на 3 больше, чем звёздочек.



\* Нарисуй столько яблок, чтобы их было на 2 меньше, чем облаков.



Умницы !!!

