


УРОК МАТЕМАТИКИ



Презентацию выполнила учитель начальных классов МОБУ СОШ с.
Среднебелая Дружинина В.В.



Морское путешествие





Устный счет



$$1 + 2 + 3 + 4 + 5 + 6 + 7 + 8 + 9 = 90$$

$$1 + 2 + 3 + 4 + 5 + 67 + 8 + 9 = 99$$



$$24+7-5+14-19+24-1 = 42$$

***42 - Дельфин**

***56 - Акула**

***39 - Кит**


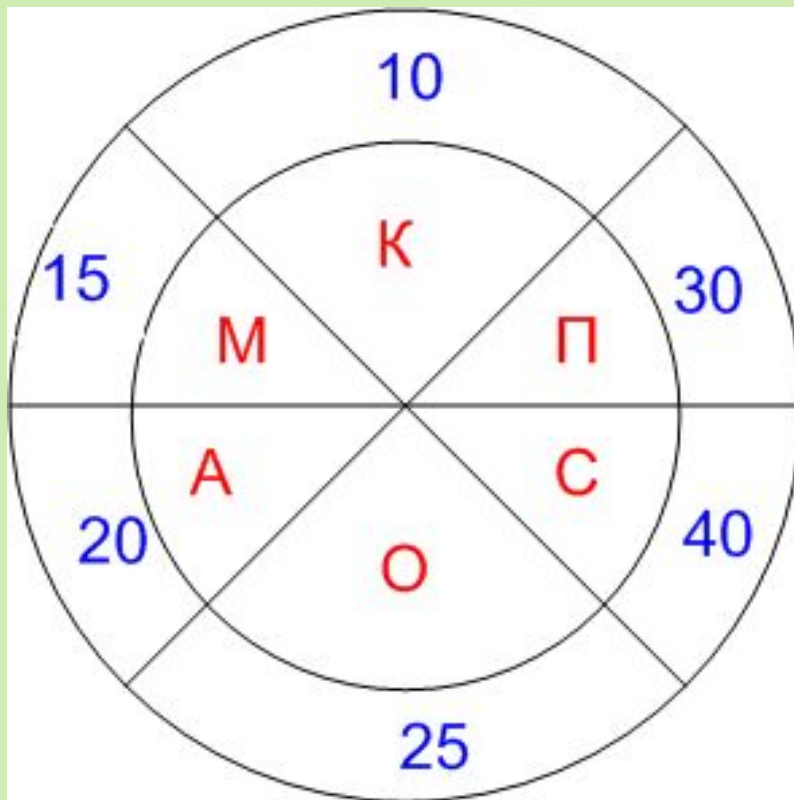


Разделите на две группы:

15,24,25,28,30,32,35,36,40.




5.



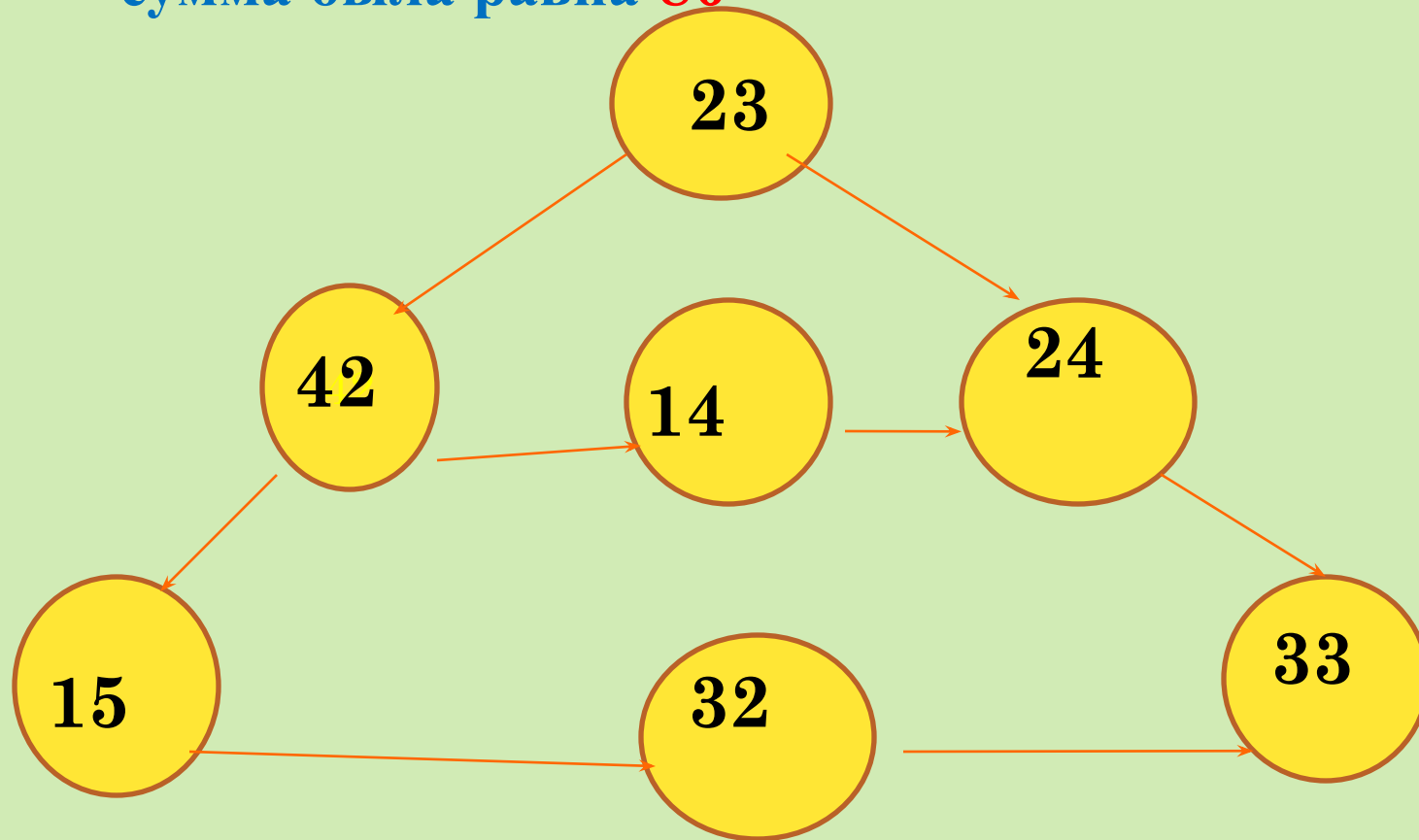
2	5	3	6	4	8
К	О	М	П	А	С

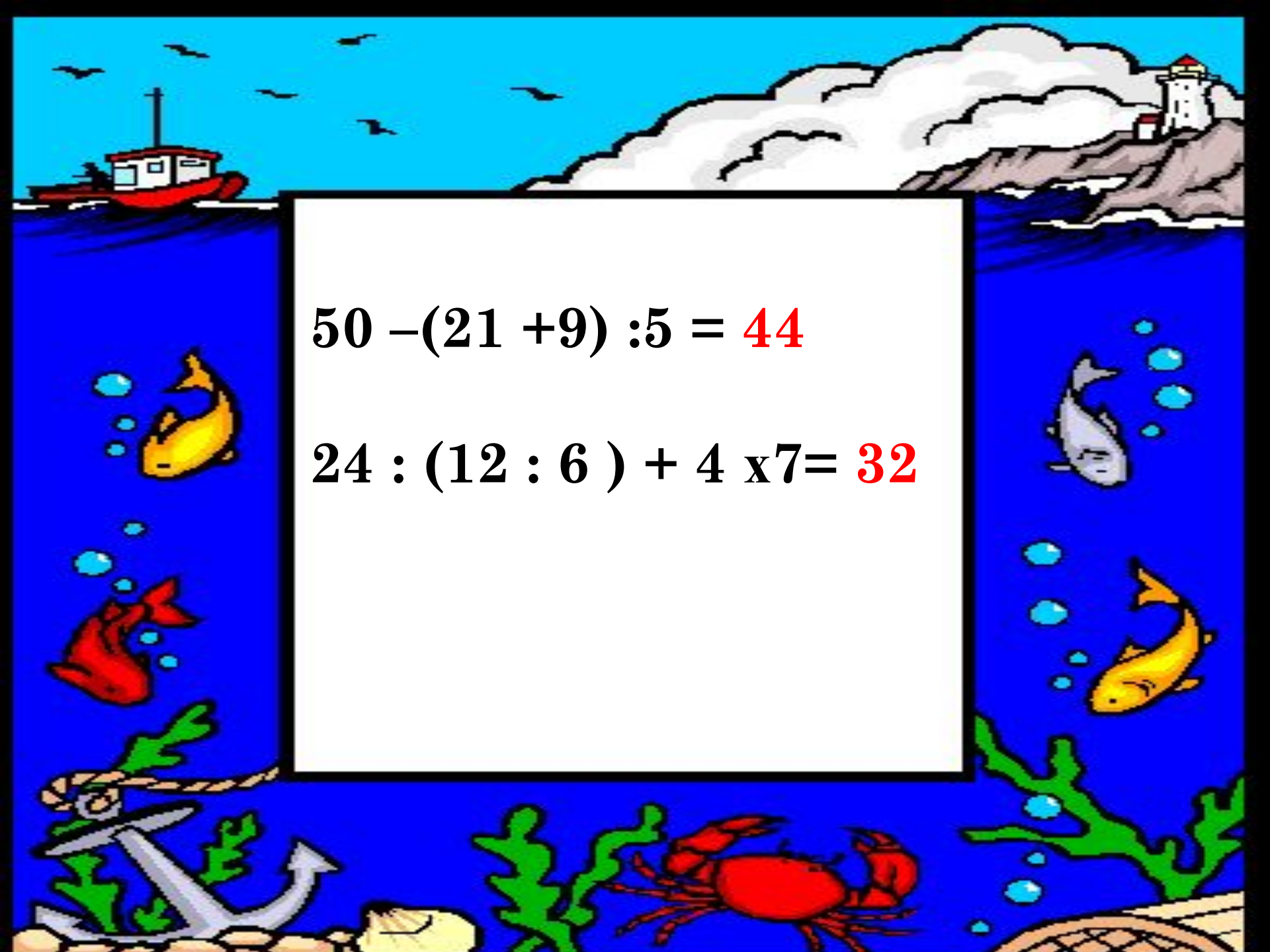


**КАКОЕ
ЧИСЛО
СЛЕДУЮЩЕЕ?**

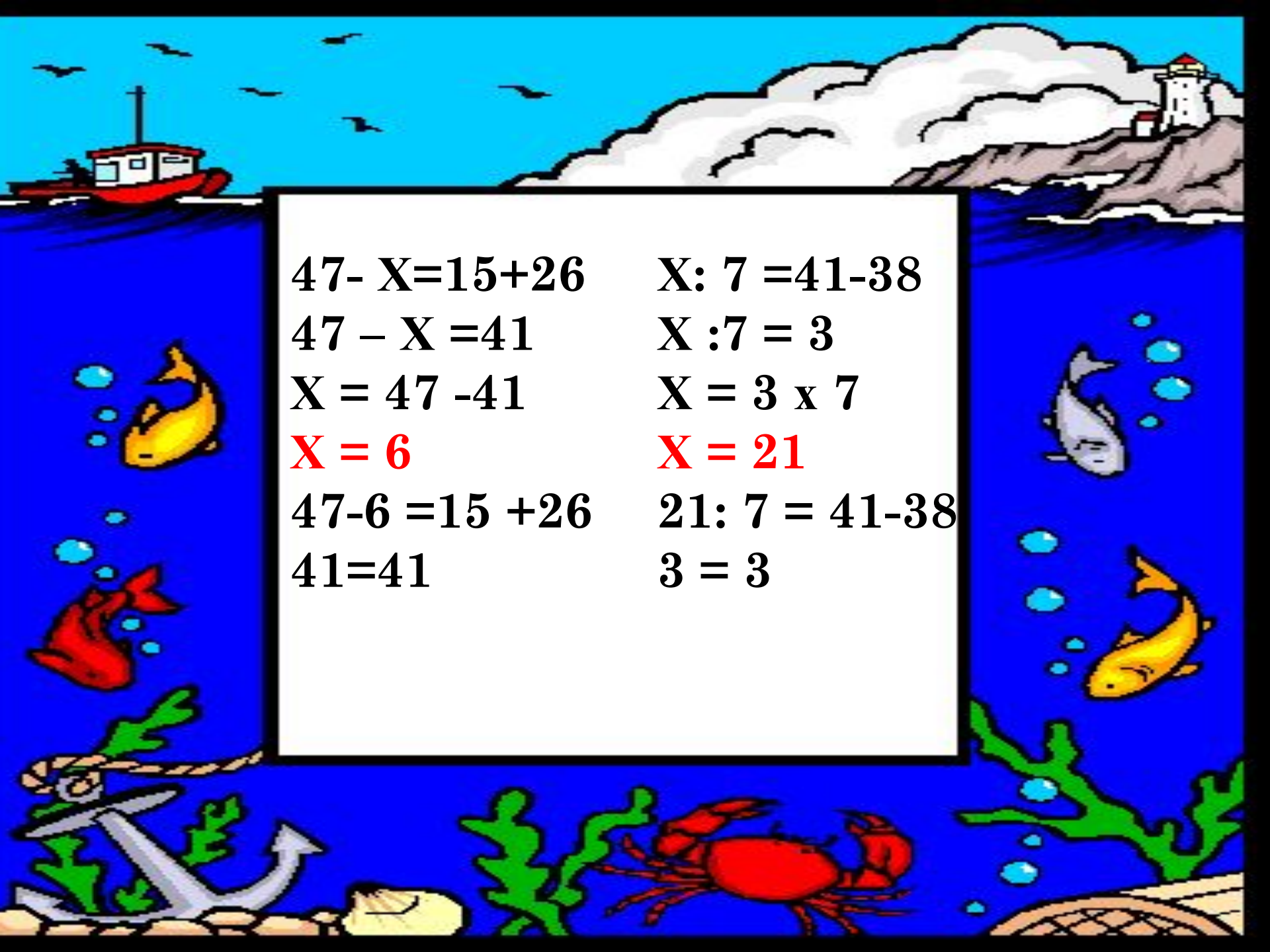


Расставь недостающие слагаемые так, чтобы
сумма была равна **80**




$$50 - (21 + 9) : 5 = 44$$

$$24 : (12 : 6) + 4 \times 7 = 32$$


$$47 - X = 15 + 26$$

$$47 - X = 41$$

$$X = 47 - 41$$

$$X = 6$$

$$47 - 6 = 15 + 26$$

$$41 = 41$$

$$X : 7 = 41 - 38$$

$$X : 7 = 3$$

$$X = 3 \times 7$$

$$X = 21$$

$$21 : 7 = 41 - 38$$

$$3 = 3$$



Задача

Было -90 кг.

Съели – 50 кг яблок и
25 кг груш

Осталось - ?

$$90 - (50 + 25) = 15 \text{ (кг)}$$

$$90 - 50 - 25 = 15 \text{ (кг)}$$

$$90 - 25 - 50 = 15 \text{ (кг.)}$$

Ответ: 15 кг фруктов
осталось.

ТЕМА: «Площадь прямоугольника».

Цель: Научиться находить площадь
прямоугольника.






Остров Робинзона





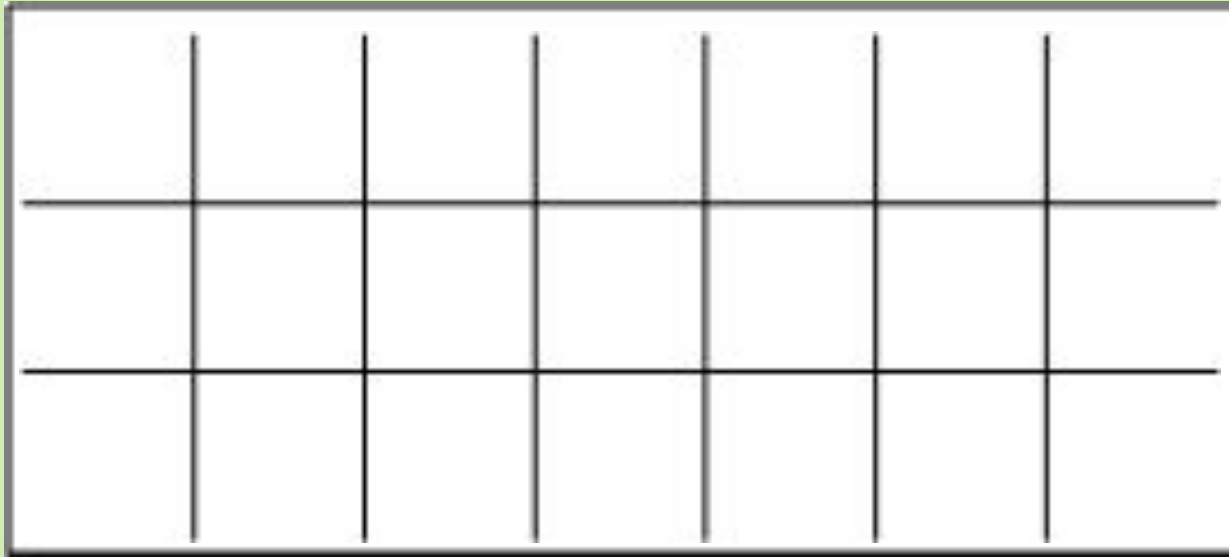
Раздели на группы



Как найти площадь фигуры?

7 см

3 см



$$S_{\text{пр.}} = a \cdot b$$

a - длина

b - ширина



Вывод:

Площадь

*прямоугольника
равна произведению
длин его сторон.*




Физминутка



Найди площадь огорода Робинзона

7 м



5 м

3 м

4 м



Узнай название океана

$$94 - 37 = 57 - \text{Т}$$

$$43 + 49 = 92 - \text{И}$$

$$85 - 26 = 59 - \text{Х}$$

$$32 + 58 = 90 - \text{И}$$

$$70 - 18 = 52 - \text{Й}$$

$$59 - \text{Х}$$

$$90 - \text{И}$$

$$57 - \text{Т}$$

$$52 - \text{Й}$$

$$92 - \text{И}$$



Спасибо за
урок!



Использованы материалы:

- Математика 3 класс, ч I. Петерсон Л.Г., М. «Ювента» 2010
- Устные упражнения на уроках математики. Л.Г.Петерсон, И.Г.Поникарова, Москва, 2008.
- Картинки:
- <http://firstklass.ru/9-lesnaya-shkola-mihaylo-potapucha.html>
- <http://www.kniga.ru/soft/511167>
- <http://www.labirint.ru/screenshot/goods/113577/2/>
- <http://www.labirint.ru/screenshot/goods/133906/5/>

