




Лахтина

Ия

Владимировна



Дроби

Числитель

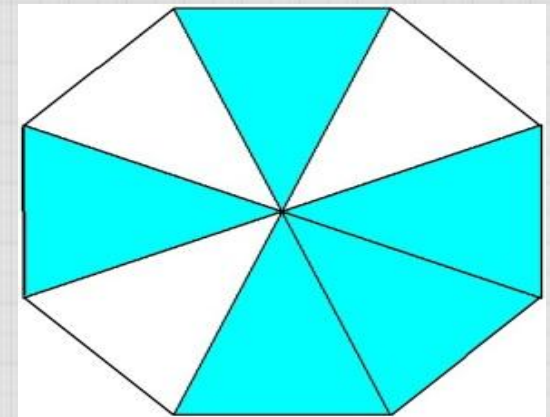

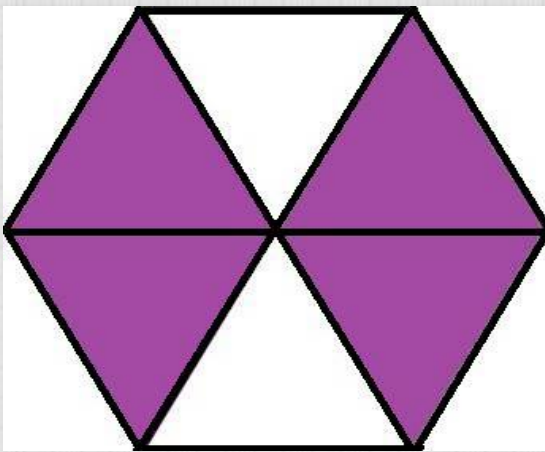
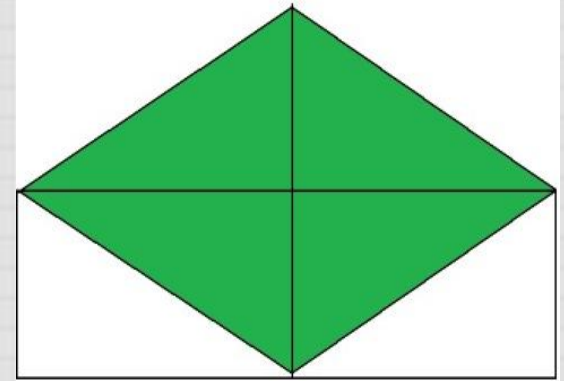
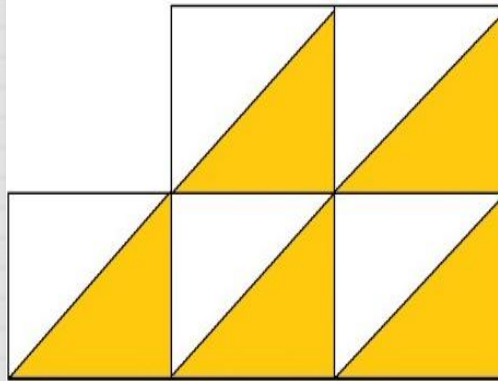
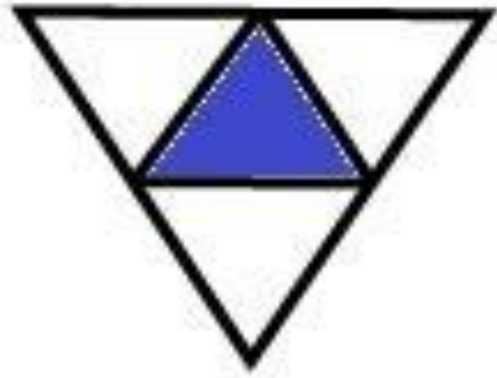
Знаменатель

$1/5$

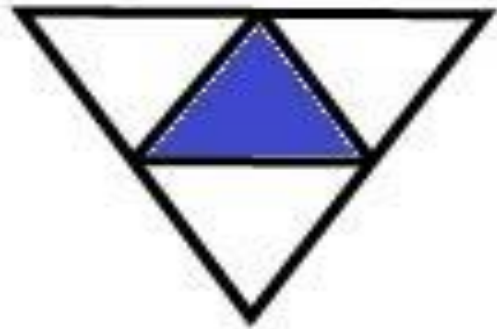
$3/7$

$2/9$

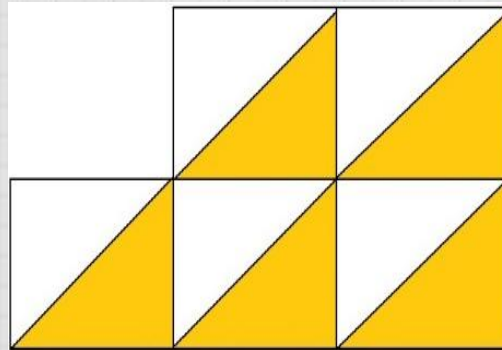
Определить, какая часть
фигуры закрашена.



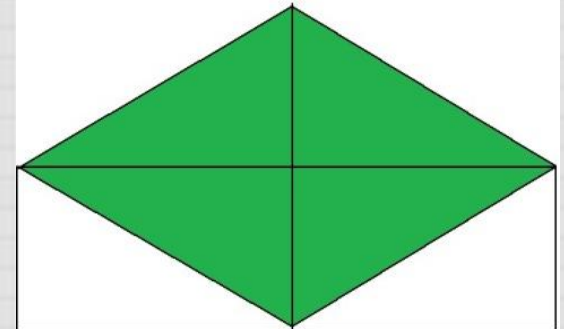
Определить, какая часть фигуры закрашена.



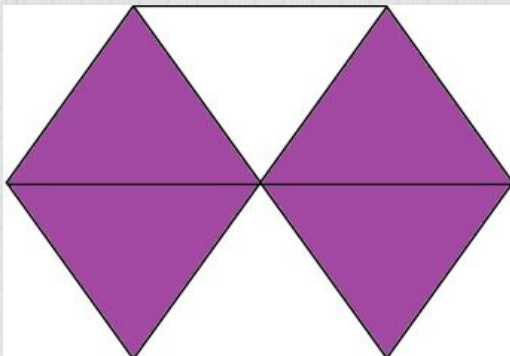
$$\frac{1}{4}$$




$$\frac{5}{10}$$



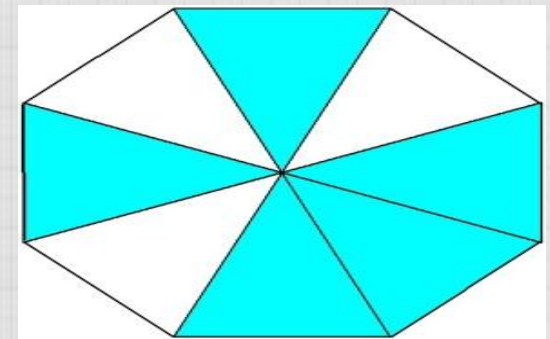
$$\frac{4}{8}$$



$$\frac{4}{6}$$



$$\frac{13}{15}$$



$$\frac{5}{8}$$

**1/3 стакана
сахарного песка
весит 60 г. Сколько
весит стакан
сахарного песка?**



**Один литр подсолнечного
масла весит 930 г. Вычислите
массу $\frac{1}{3}$ л масла?**




Сколько месяцев содержит $\frac{5}{6}$
года?



Тема: «Нахождение
дроби от числа».

Цель: Научиться
находить дробь от
числа.



$$12 : 6 \times 5 = 10 \text{ (M.)}$$

Вывод:

Чтобы найти **дробь от числа** ,

надо это **число** разделить

на

знаменатель

дроби

и умножить на её

числитель

.

4/9 от 45



План работы в группе.



1. Распределяем карточки с задачами между всеми членами группы.
2. Решаем полученную задачу, записывая решение в тетрадь.
3. Согласно результату записываем букву в сводную таблицу.
4. Получившееся слово лидер группы вывешивает на доску.

Каким правилом вы
пользовались, решая эти
задачи?



Домашнее задание:

Стр. 71

№ 1 (б), № 2 (в,г)

