

Математическое путешествие.

**Составила: учитель начальных классов,
первой квалификационной категории
МБОУ СОШ №2 ст.Архонская
Лысоконь Наталья Ивановна**



$$9+4= 13$$

$$8+4= 12$$

$$18-8= 10$$

$$12+6= 18$$

$$10+5= 15$$

$$15-7= 8$$





8-6



17-7

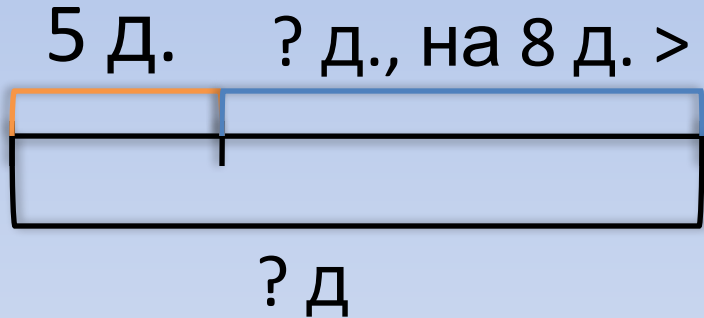


11-2



7+8

«В свободное время я крашу заборы.
Вчера жёлтой краской я покрасил 5 досок,
а голубой краской на 8 досок больше.
Сколько всего досок я вчера покрасил?»



- 1) $5+8=13$ (д.) – покрасил голубой краской.
- 2) $5+13=18$ (д.) – покрасил всего.

Ответ: 18 досок покрасил царь.



$8+5 > 16$


$20-19 > 10$

$6+5 > 12$

$9-7 < 13$

$19-8 = 10$

$12+8 < 20$



Печка испекла 8 пирожков с капустой
и 11 пирожков с мясом.

Сколько всего
пирожков испекла
Печка?

$$8+11=19 \text{ (п.)}$$

На сколько ~~меньше~~
пирожков с мясом
~~капустой~~ Печка
испекла

Печка?

$$11-8=3 \text{ (п.)}$$




$$\triangle 7 + ? \square 6 = \bigcirc 13$$

$$\bigcirc 13 + \triangle 7 = 20$$

$$\triangle 7 - \square 6 = 1$$

$$\square 6 + 4 = 10$$





Оценим себя



МОЛОДЦЫ!