

Площадь прямоугольника

3 класс

Выполнила учитель
начальных классов МБОУ
Верхнедонской гимназии
Бовина Л.И.



Встало солнышко давно,
Заглянуло к нам в окно,
На урок торопит нас –
Математика сейчас.

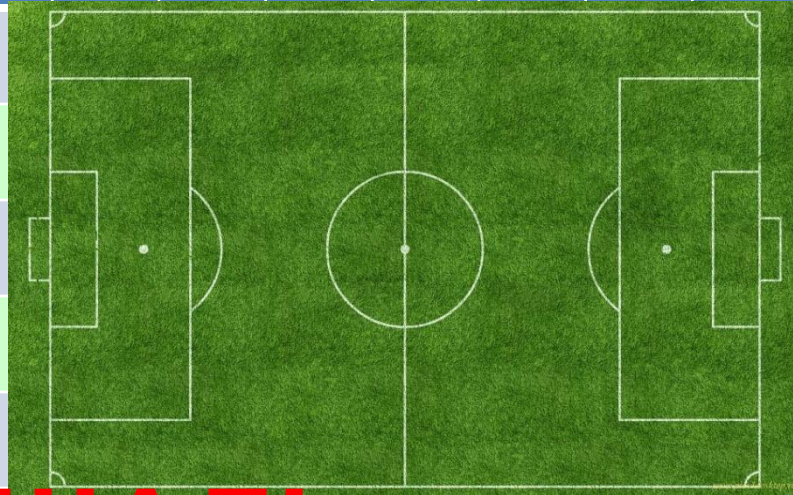
Думать – коллективно!

Решать – оперативно!

Отвечать – доказательно!

Работать – старательно!

И открытия нас ждут обязательно!



ПЛОЩАДЬ



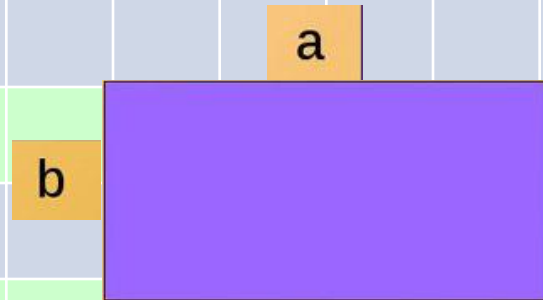
91 см, 10 дм, 100 м, 290 м², 742 дм

45 кг, 63 дм², 54 дм², 72 дм², 81 м²


48 см², 58 м², 68 м², 18 м², 28 м

Как найти площадь прямоугольника?

S – площадь прямоугольника



$$S = a \cdot b$$





3 agar

$$a = 3 \text{ M}$$

$$b = 2 \text{ M}$$

S - ?

$$S = a \cdot b$$



$$S = 3 \cdot 2$$

$$S = 6 \text{ M}^2$$





**В 1 упаковке 8 плиток.
Хватит 3 упаковки для
ремонта?**



Зарем...

?



1. Урок полезен, всё понятно.

**2. Лишь кое-что чуть-чуть
неясно.**

3. Ещё придётся потрудиться.