

2 - сынып

Қайталау сабағы

# Сабақтың мақсаты:

- Білімділік: Екі таңбалы сандарды қосу, азайту және салыстыру тақырыбы бойынша білімдерін тиянақтау.
- Дамытушылық: Оқушылардың логикалық ойлау дағдысын, есте сақтау қаблеттерін дамыта отырып, шығармашылық жұмыс істеуге үйрету.
- Тәрбиелік: Алға қойған мақсаттарына жетуге, ойшылдыққа, шапшаңдыққа және тиянақтылыққа тәрбиелеу.

# Сабақ барысы:

1. Ұйымдастыру кезеңі.
2. Оқушыларды екі топқа бөлу
3. Ойын шартымен таныстыру

Оңдықтар	Бірліктер	Санның оқылуы	Санның жазылуы
3	7	Отыз жеті	37
1	9		
2	4		
9	5		
7	2		
4	0		

# "Кім жылдам"



$14+5$

$20+5$

$0+8$

$60-60$

$18-7$

$3+4$

$19-8$

$10+5$

$7+12$

$5+4$

$40-40$

$10-2$



# Тест

1. Үш ондық сегіз бірліктен тұратын санды тап

А. 38

Ә. 51

Б. 27

2. Ең үлкен санды тап

А. 11

Ә. 62

Б. 20

3. Ондығы бірлігінен екі санға кем болатын санды тап

А. 47

Ә. 46

Б. 85

4. Мәні онға тең болатын қосындыны тап

А.  $8 + 1$

Ә.  $7 + 2$

Б.  $24 - 14$

5. Самат 7 дәптер, ал Дулат одан 3 дәптер артық сатып алды. Дулат неше дәптер сатып алды?

А. 10 дәптер

Ә. 4 дәптер

Б. 8 дәптер



Кім біріңші

Жанат 18 дәптер сатып алды.  
Оның 8 дәптерін Саматқа берді.  
Саматта неше дәптер болды?



Есіңе сақта!



$$1 \text{ кг} = 1000 \text{ г}$$

$$1 \text{ ц} = 100 \text{ кг}$$

$$1 \text{ т} = 10 \text{ ц}$$

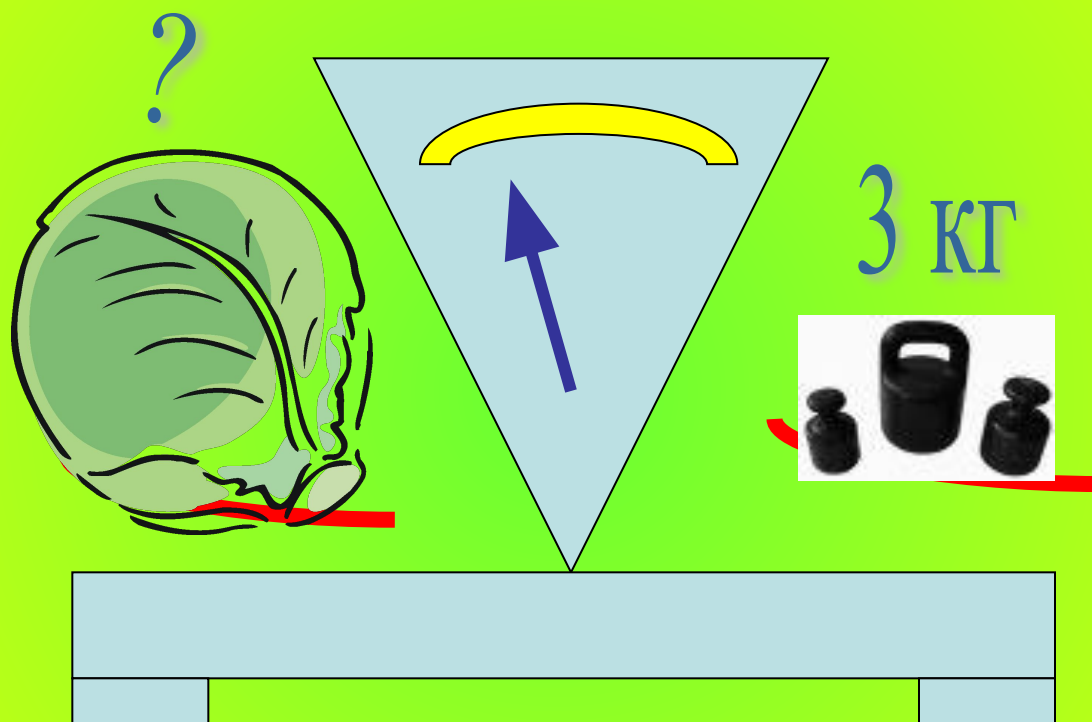
$$1 \text{ т} = 1000 \text{ кг}$$





# Есеп құрастыр және шығар:

(әр түрлі сұрақ қою арқылы)



# Салыстыр:

15 кг



3 кг

1 тәул

24ч

400кг

7 т

4 т



4 т

Килограммен өрнектөп жаз:



# Есіңе сақта!



$$1\text{ м} = 10\text{ дм}$$


$$1\text{ дм} = 10\text{ см}$$

$$1\text{ м} = 100\text{ см}$$

$$1\text{ см} = 10\text{ мм}$$



# Геометриялық фигураларды ата




Қабырғалары 5 см және 4 см  
болатын тік бұрыштың  
периметрін тап.

$$P=a+a+a+a$$




Бір қабырғасы 4 см, екінші  
қабырғасы 6 см, ал үшінші  
қабырғасы 7 см болатын  
үшбұрыштың периметрін тап.




$$P = a + b + c$$

# Сен білесің бе?



Бір сүйем - бармақ  
пен сұқ саусақтың керген  
аралығы 21 -22см







1 құлаш - жай созған  
екі қол басының  
арасы 1,50 - 1,55 м





Төрт елі - қатар төрт  
саусақтың еніне  
тең 8 см



***TEOT***

1. 3 дм неше см бар ?




10 см

13 см



30 см

2. Көп нүктенің орнына тиісті  
белгіні қой *16 см ... 6 дм*



3. Бос төр көздің ішіне тең болатындай санды қой

$$7 \text{ дм } 4 \text{ см} = \quad \text{см}$$

47

11

74

4. СЫНЫҚ СЫЗЫҚТЫҢ ҰЗЫНДЫҒЫН  
5 см, 2 см и 6 см тап ?

11 см

13 см

7 см

5. Бірінші кесінді 8 см, ал екінші 12 см. Бірінші кесінді екінші кесіндіге қарағанда неше см қысқа?

4 см -ге



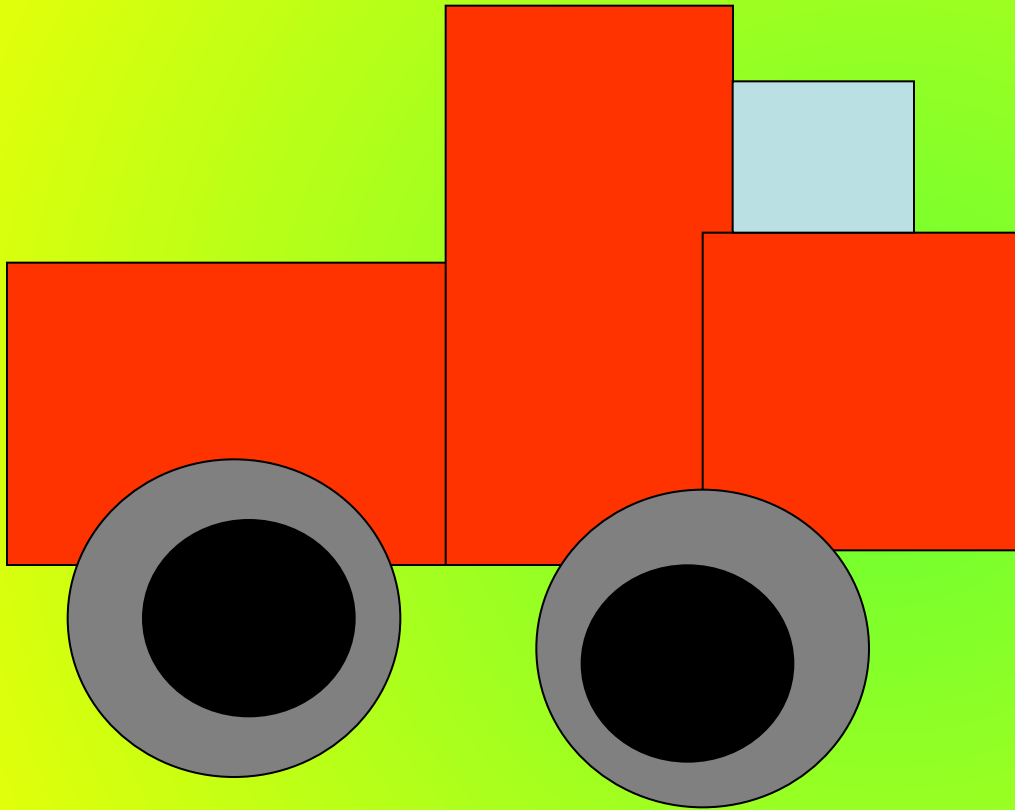
3 см-ге

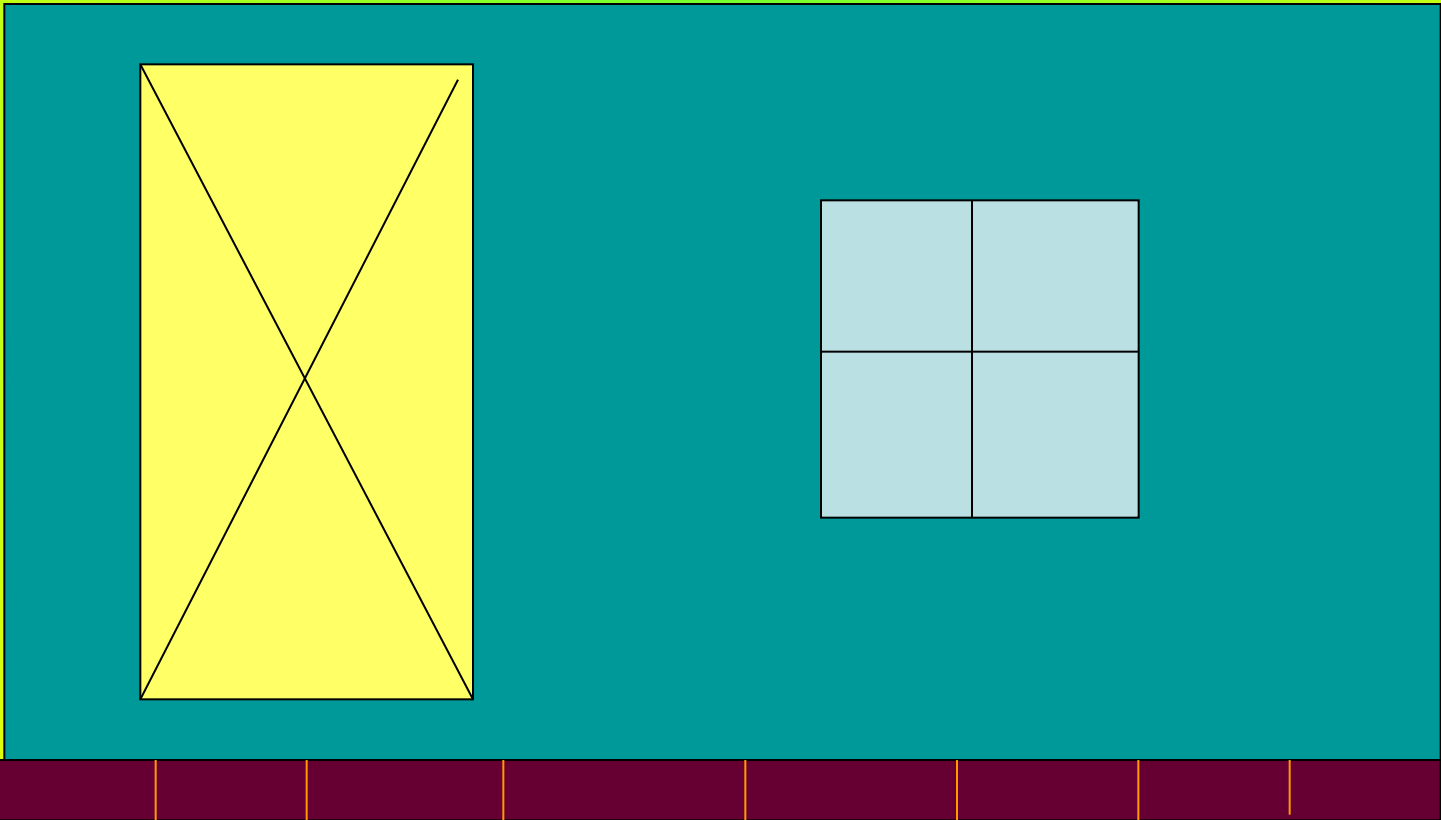

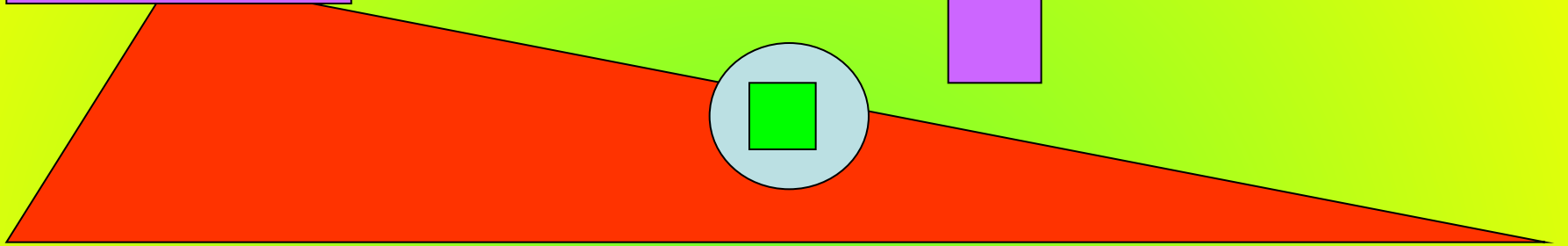


20 см-ге





# Ойлан, тап!






***Teet***

6. Берілген фигураларды бір сөзбен қалай атауға болады ?

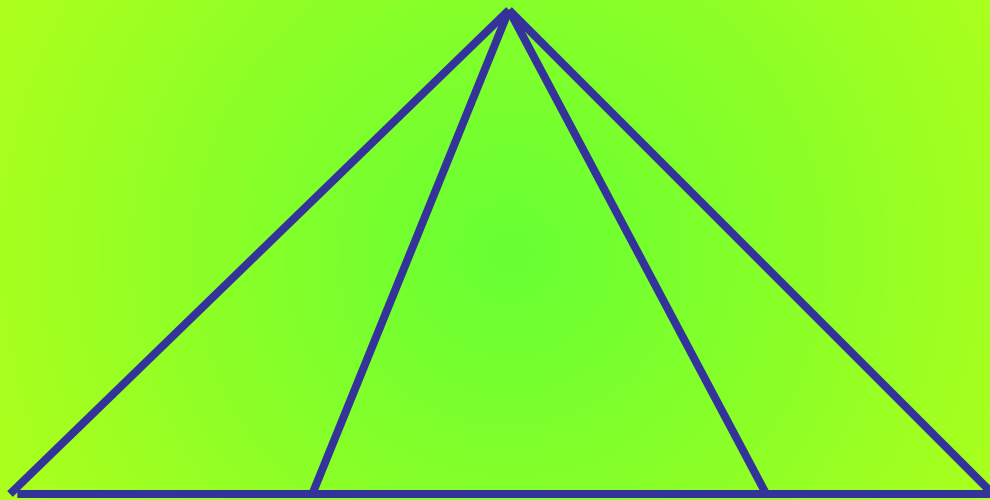
Төртбұрыш

Бесбұрыш

Көпбұрыш



15. Суретте неше үшбұрыш бар?




3

6

4

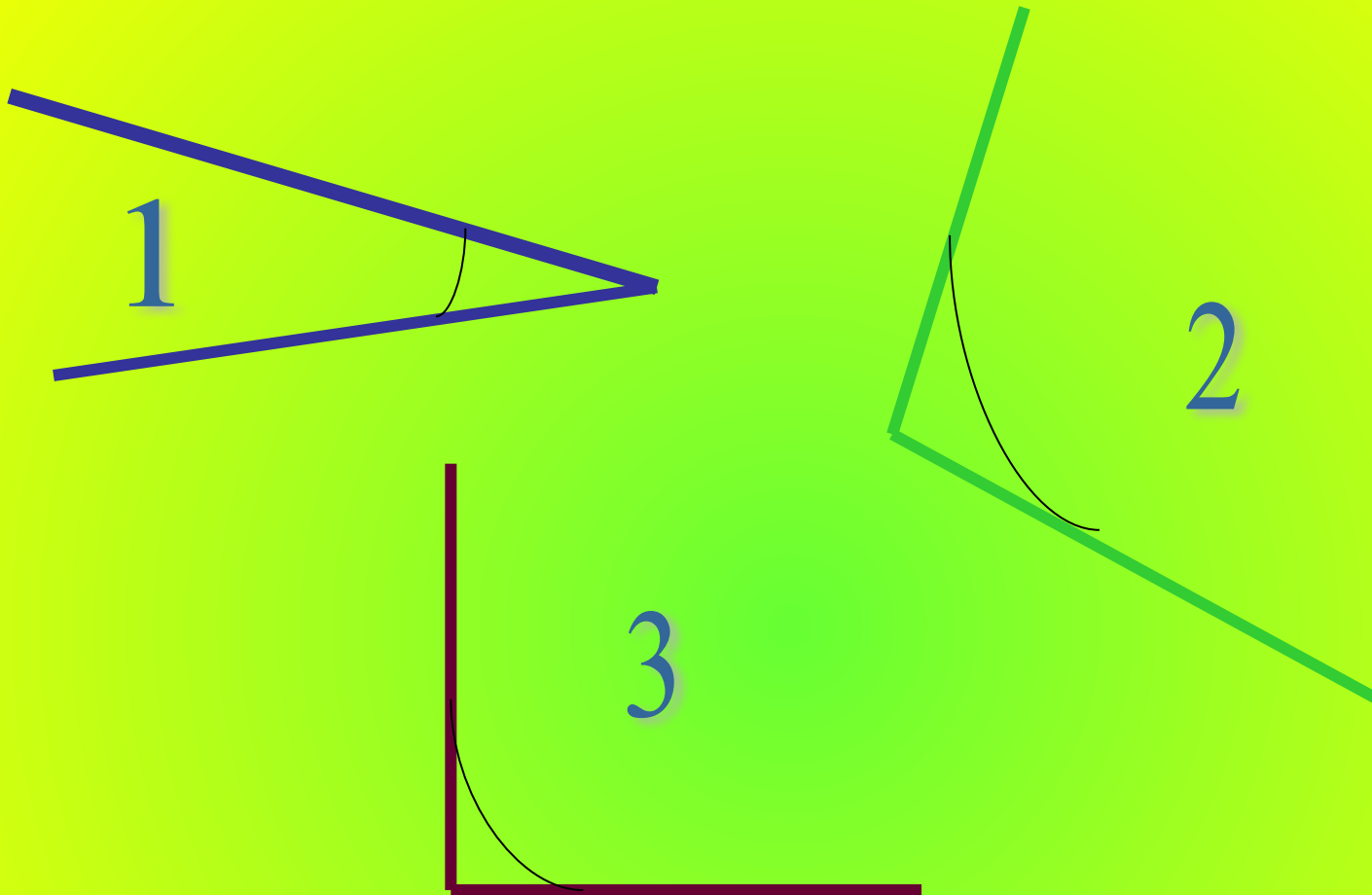
16. Неше кесінді бар?



6 кесінді

4 кесінді


2 кесінді






1- сүйір, 2 – доғал, 3- тік



Барлығы неше бұрыш бар?



Әр фигураның бұрыштарын ата:



**“Әйнекшелердің” орнындағы  
сандарды тауып, жаз:**

$$40 + 4 =$$
$$- 4 =$$

$$44 - =$$

$$4 + 40 =$$

$$60 + 0 =$$

$$- 0 =$$

$$60 - =$$

$$0 + 60 =$$

# Салыстыр:

2 онд. 3 бірл. ★ 2 онд. 8 бірл.  
5 онд. 5 бірл ★ 6 онд. 5 бірл.  
76 ★ 70 + 9



2 дм 3 см ★ 2 дм 8 см  
5 дм 5 см ★ 6 дм 5 см  
76 см ★ 70 см + 9 см

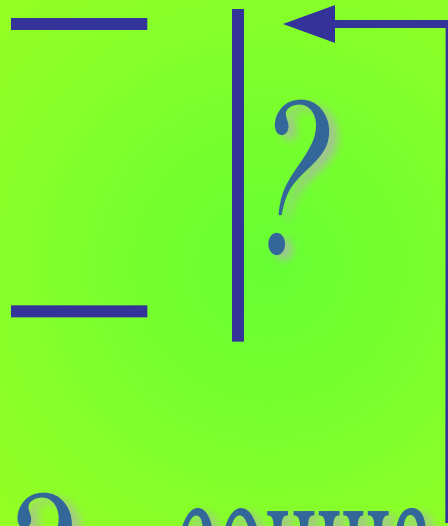


Болғаны —

—



Қалды — ?





? сонша





?

>





# Есте сақта!



**1 мин = 60 с**

**1 сағ = 60 мин**

**1 тәулік = 24 сағ**

**1 апта = 7 тәулік**

**1 жыл = 12 ай**

**1 жыл = 365 не 366 тәулік**

**1 мүшел = 12 жыл**

**1 ғасыр = 100 жыл**





1 тәул  
5 сағ

2 апта  
6 күн

1 мин  
30 сек

110  
жыл

1  
ғасыр  
10  
жыл

Жұптар  
ын  
тап

90  
мин

90 сек

20 күн

1 сағ  
30  
мин

29 сағ



3 ғасыр


200 жыл





**Инкубациялық  
уақыты 60 күннен  
110 күне дейін  
созылады. Неше ай  
болады?**





1 сек – 10 м жүгірсе

3 сек неше метрге дейін жүгіреді?



# Оқы және жаз!

0 онд 1 бірл

4 онд 8 бірл

9 онд 9 бірл

8 онд 3 бірл

5 онд 0 бірл

7 онд 8 бірл

3 онд 4 бірл

8 онд 8 бірл

2 онд 9 бірл

0 онд 6 бірл



# Көршісін тап!

80

99

48

40

100

89

98

50

10

20



Бір айда Самал Айжанға қарағанда 3 кітап артық оқыды, ал Мадинаға қарағанда екі кітап кем оқыды. Әр қайсысы неше кітап оқыды?



Әкесі мен баласының  
жастарын бірге санағанда 40  
жас болады. Үш жылдан  
кейін екеуінің жастарын бірге  
санағанда неше жас  
болады?







Айдос үйдің 6-қабатында  
тұрады, ал Жандос осы  
подъездің  
3-қабатында тұрады. Егер  
Айдосқа дейін 60 баспалдақ  
болса, Жандосқа дейін неше  
баспалдақ бар?





4 түзу сызықтармен бір нүктеден жүргізу арқылы қағазды неше бөлікке бөлуге болады?

Жұмыртқаны домалақтай  
пісіру үшін 5 минут керек.

1 қапшық жұмыртқаны пісіру  
үшін неше минут керек?





Сабакқа

ат салысқандарын үшін

көп рахмет!

