


# Математика



- Долгожданный дан звонок –

- начинается урок!

- Тут затеи и задачи,

- Игры, шутки, все для вас

- Пожелаем всем удачи –

- За работу, в добрый час



-27

:9

\*

+33

:9

81



54



6

2



12



45



5

:8

+20

:3

\*

-1

56



7



27



9

9



81



80

-27

+8

:9

+31

:8

100

73

81

9

40

5

:8

+23

:8

\*

-19

72

9

32

4

7

28

9

- Делимое 48, делитель 6. Найди частное.
- Вычисли произведение чисел 9 и 6.
- Увеличь 4 в 6 раз.
- Увеличь 6 на 4.
- Во сколько раз 36 больше 4?
- На сколько 54 больше 6?
- Сумму чисел 7 и 5 уменьши в 2 раза.

- Зал освещают 10 люстр, по 8 лампочек в каждой. Сколько лампочек освещают зал?




- Почтальон доставил 9 телеграмм, а писем



- в 6 раз больше. Сколько писем и телеграмм доставил почтальон?



- 10. Вычисли длину прямоугольника, если она в 2 раза больше ширины, а ширина – 7 см.



Дан прямоугольник со сторонами 7 см  
и 3 см.



Найти площадь прямоугольника.



7

СМ





3 см

**Чему равна площадь квадрата со стороной 5 дм ?**



**5 дм**





Лежит на полу, мягкий, пушистый, но не кот.



Самостоятельная работа.

Найти *S* этих ковров.

I вариант

II вариант

5 м



2 м

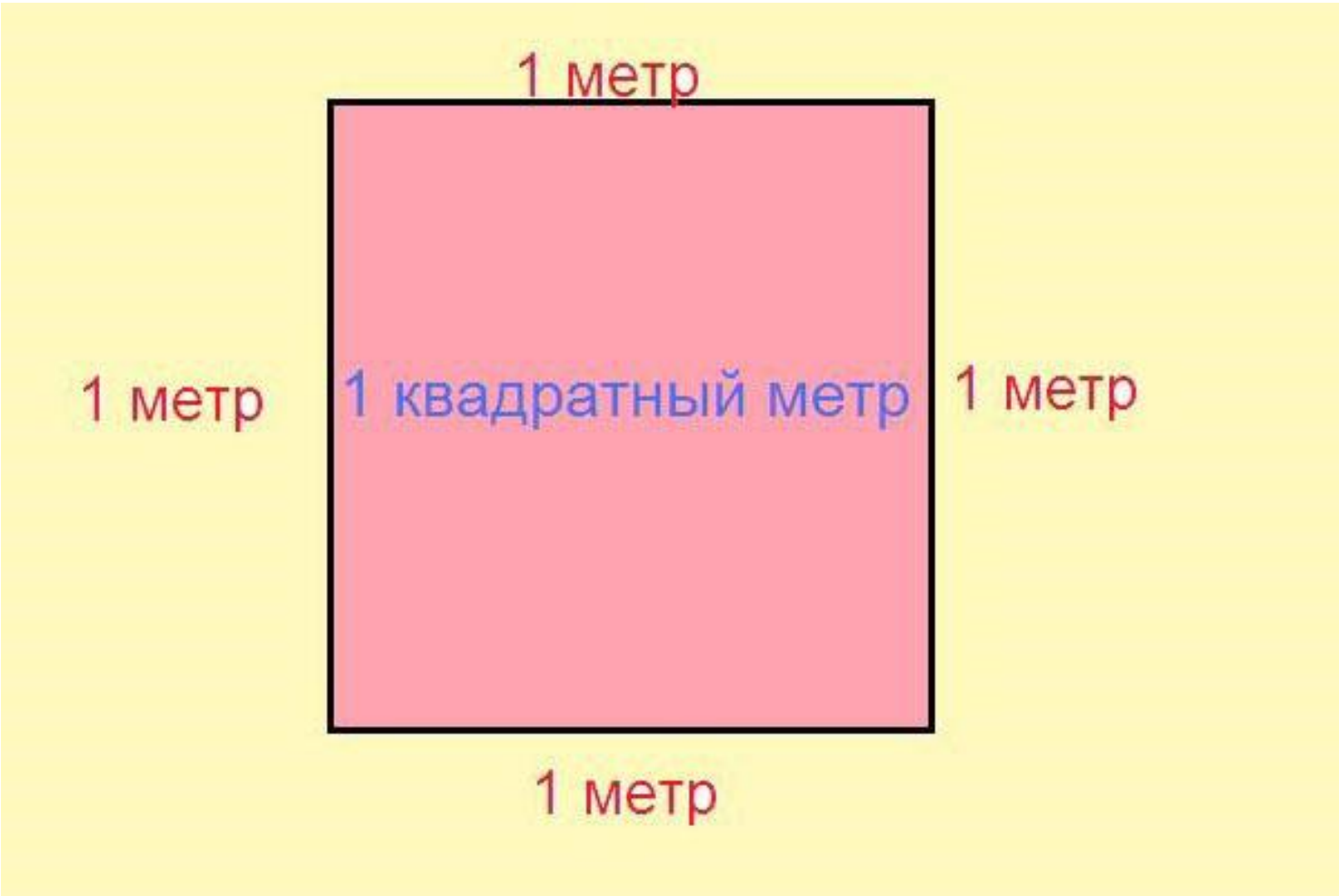
4 м




3 м

# Что такое квадратный метр?





# РАБОТА ПО УЧЕБНИКУ



стр.70 №2



# Сравнить

• 3 м 6 дм ... 36 дм

• 1 м ... 80 дм


• 1 ч 20 мин ... 75 мин

# Сравнить


- 22 дм ... 2м + 4 дм
- 50 мин + 30 мин ... 1 ч 10 мин
- 4 дм + 30 см ... 34 дм
- 46 мин + 14 мин ... 1 ч



- Ширина прямоугольника 6 см, а длина – на 2 см больше. Начерти этот прямоугольник. Найди его периметр и площадь.



# Помашнее задание!



Стр.71 №4

Стр.77

№17

