

Измерение длины

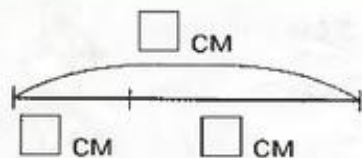


Автор: Кучеренко Татьяна Федоровна,
учитель начальных классов
МБОУ СОШ №30
г. Читы
2018 г.



14 Занятие 8. ИЗМЕРЕНИЕ ДЛИНЫ

1 Измерь отрезок и его части. Допиши равенства.



$$2 \text{ см} + 4 \text{ см} = \square \text{ см}$$

$$4 \text{ см} + 2 \text{ см} = \square \text{ см}$$

$$6 \text{ см} - 2 \text{ см} = \square \text{ см}$$

$$6 \text{ см} - 4 \text{ см} = \square \text{ см}$$

2 Разбей на группы и допиши равенства. Сравни с первым заданием. Что ты замечаешь?



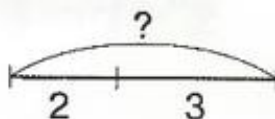

$$2 + 4 = \square$$

$$4 + 2 = \square$$

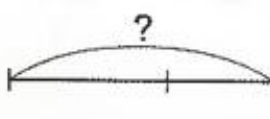
$$6 - 2 = \square$$

$$6 - 4 = \square$$

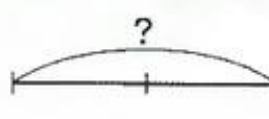
3 Составь по картинкам рассказы, придумай вопросы. Дорисуй схемы и допиши равенства.



$$2 + 3 = \square$$



$$3 + 1 = \square$$



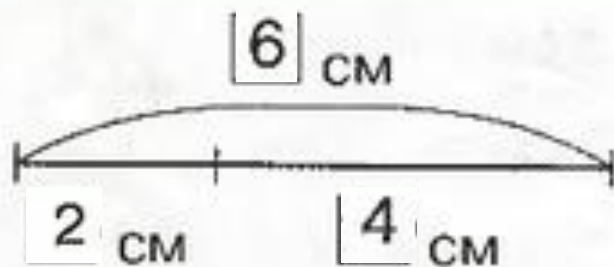
$$3 + 3 = \square$$

14

Занятие 8. ИЗМЕРЕНИЕ ДЛИНЫ

1

Измерь отрезок и его части. Допиши равенства.




$$2 \text{ см} + 4 \text{ см} = \boxed{6} \text{ см}$$

$$4 \text{ см} + 2 \text{ см} = \boxed{6} \text{ см}$$

$$6 \text{ см} - 2 \text{ см} = \boxed{4} \text{ см}$$

$$6 \text{ см} - 4 \text{ см} = \boxed{2} \text{ см}$$

2 Разбей на группы и допиши равенства. Сравни с первым заданием. Что ты замечаешь?





$$2 + 4 = \boxed{6}$$

$$4 + 2 = \boxed{6}$$


$$6 - 2 = \boxed{4}$$

$$6 - 4 = \boxed{2}$$


Три ромашки-желтоглазки,
Два веселых василька
Подарили маме дети.
Сколько всех цветов в букете?



А что останется в букете, если ромашки завянут?



А если завянут сначала васильки,
что останется?



БАБОЧКА

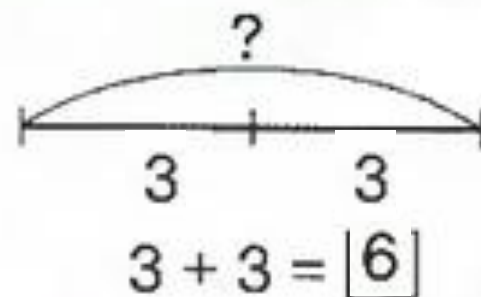
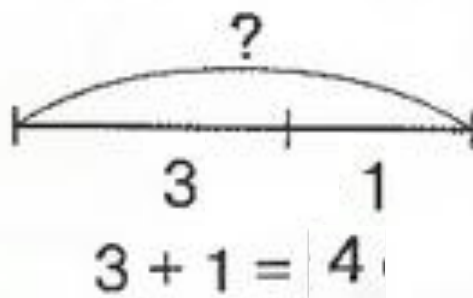
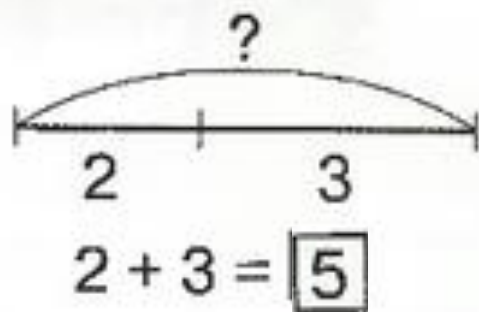

А






3

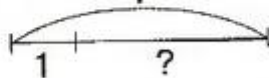
Составь по картинкам рассказы, придумай вопросы. Дорисуй схемы и допиши равенства.




4 Подбери к каждой картинке схему и допиши равенства.



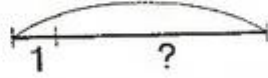
4




$$4 - 1 = \square$$



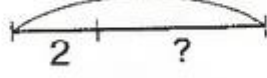
6



$$6 - 1 = \square$$

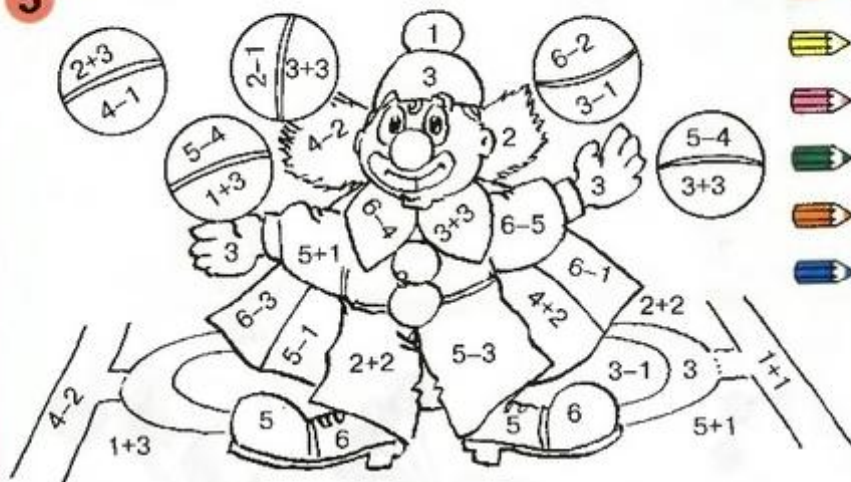


6



$$6 - 2 = \square$$

5 * Раскрась.




- 1
- 2
- 3
- 4
- 5
- 6



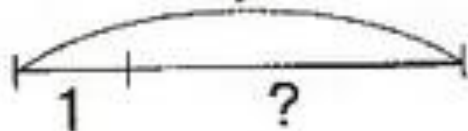
Занятие 8. ИЗМЕРЕНИЕ ДЛИНЫ

15


- 4 Подбери к каждой картинке схему и допиши равенства.



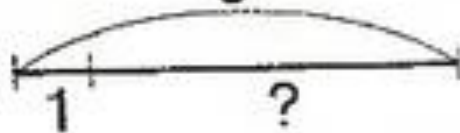
4




$$4 - 1 = \boxed{3}$$



6



$$6 - 1 = \boxed{5}$$



6

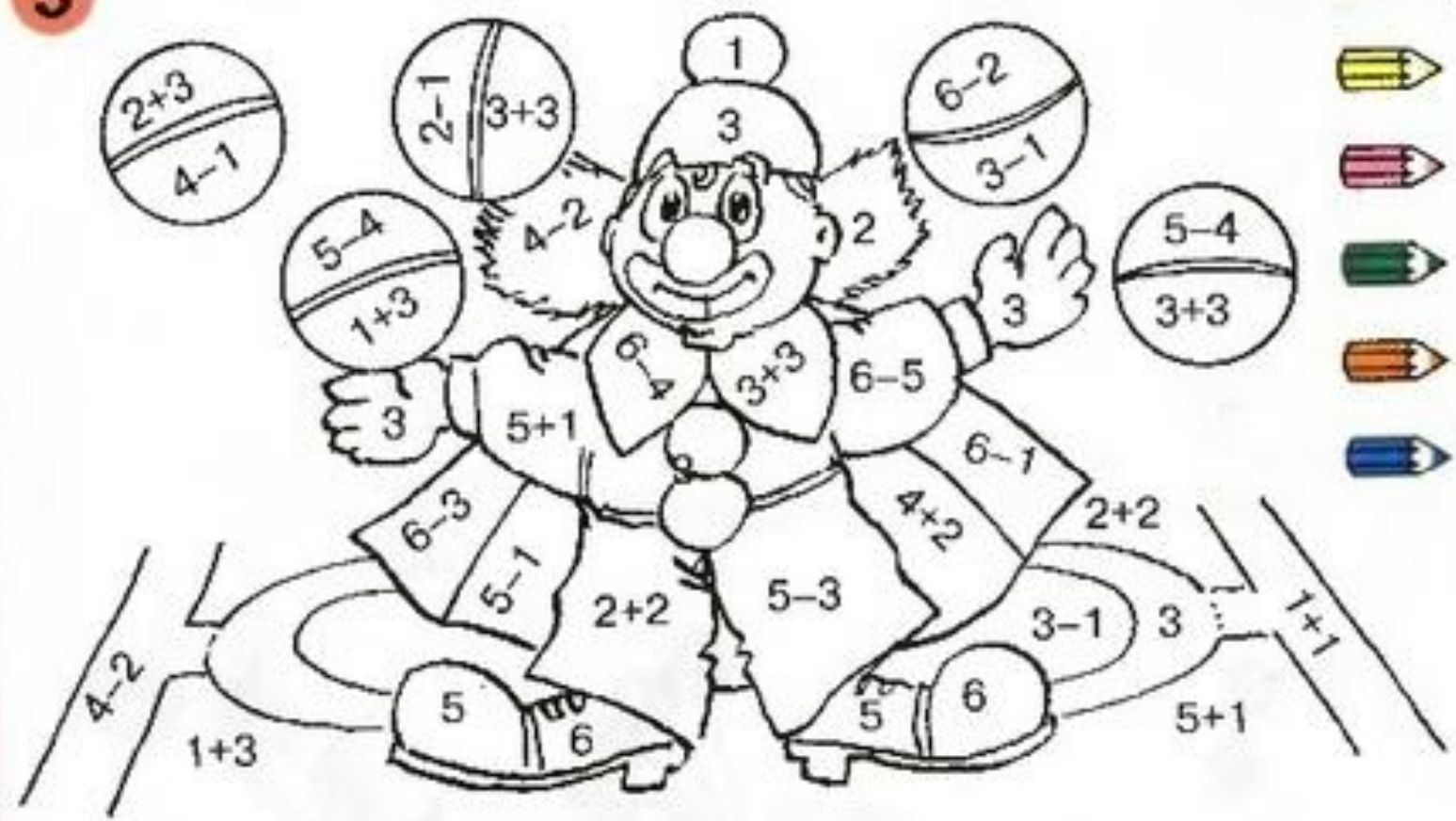


$$6 - 2 = \boxed{4}$$

5

* Раскрась.

-  1
-  2
-  3
-  4
-  5
-  6



Спасибо!



