

Умники и умницы 3 класс Занятие 12

Автор презентации: Дьякова Татьяна
Алексеевна
учитель начальных классов
МОУ СОШ № 23
г. Воркуты



Разминка

Сокол



Русская сказка «Финист -
ясный...»



Разминка

Осень

Грустное время года.



Разминка

Скрипач



Музыкант, играющий
на скрипке.



Разминка

Факир

Индийский фокусник.



Разминка

Сцена

Место в театре,
где играют актёры.



Разминка

Канистра

Емкость для хранения
бензина.



Разминка

Пароход



В море белый дом плывёт, из него дымок идёт. Вот и берег на виду, дом как крикнет: «Ду-ду-дууу».



Разминка

Бабочка



Спал цветок и вдруг проснулся -
больше спать не захотел,
шевелинулся, встрепенулся,
взвился вверх и улетел.



Разминка

Мороз



Какой это мастер на стёкла нанёс
и листья, и травы, и заросли роз?



Разминка



Огонь





Что, дотронувшись едва,
превращает в дым дрова?







Запомни увиденные изображения и
нарисуй как можно точнее.



**Запомни увиденные изображения и
нарисуй как можно точнее.**



Проверь себя



Допиши второе слово пары.

ГОРА – ГОРБ

ЛЕС – ЕЛЬ

ЗАЯЦ – КРОЛИК

ПТИЦА – САМОЛЁТ

РУЧКА – ТЕТРАДЬ



Допиши второе слово пары.

УТРО – УЖИН
ВЕЧЕР – ЗАВТРАК
ДЕНЬ – НОЧЬ
МИНУТА – ЧАС
ЧАС – ВРЕМЯ





Посмотри на этот рисунок 20 секунд. Постарайся запомнить расположение предметов, их форму, детали. Переверни страницу и ответь на вопросы.

Сколько мячей на рисунке? **3**

Какая буква написана на кубике? **И**

Собака сидит? **Стоит**

Есть ли пуговицы на костюме? **Да, 2**

С какой стороны от клоуна занавес? **Слева**

Колпак на клоуне в горошек? **Нет, в клеточку**

Не меняя порядка следования цифр 1, 2, 3, 4, 5, 6, 7, 8, 9, поставь между некоторыми из них знаки сложения так, чтобы получилось число 99. Найди как можно больше способов решения.

$$1 \quad 2 \quad 3 \quad 4 \quad 5 \quad 6 \quad 7 \quad 8 \quad 9 = 99$$

$$1 \quad 2 \quad 3 \quad 4 \quad 5 \quad 6 \quad 7 \quad 8 \quad 9 = 99$$

$$1 \quad 2 \quad 3 \quad 4 \quad 5 \quad 6 \quad 7 \quad 8 \quad 9 = 99$$

$$1 \quad 2 \quad 3 \quad 4 \quad 5 \quad 6 \quad 7 \quad 8 \quad 9 = 99$$

$$1 \quad 2 \quad 3 \quad 4 \quad 5 \quad 6 \quad 7 \quad 8 \quad 9 = 99$$




Заполни пустые клетки синонимами, состоящими из такого же количества букв.

| | |
|---------------------|------------|
| Ш У М | гам |
| Ж А Р А | зной |
| Б Е Д А | горе |
| М О Р О З | холод |
| П У Р Г А | вьюга |
| Г Р У С Т Ь | печаль |
| П Р О Ч Н Ы Й | крепкий |
| П Р О С И Т Ь | умолять |
| С М Е Я Т Ь С Я | хохотать |
| Н Е Б О Л Ь Ш О Й | маленький |
| Б А Л О В А Т Ь С Я | озорничать |
| Д О Д У М А Т Ь С Я | догадаться |



Митя и Филипп живут в одном доме: Митя - на шестом этаже, а Филипп - на третьем. Возвращаясь из школы домой, Митя проходит 60 ступенек. Сколько ступенек проходит Филипп, поднимаясь по лестнице на свой этаж?

30 ступенек



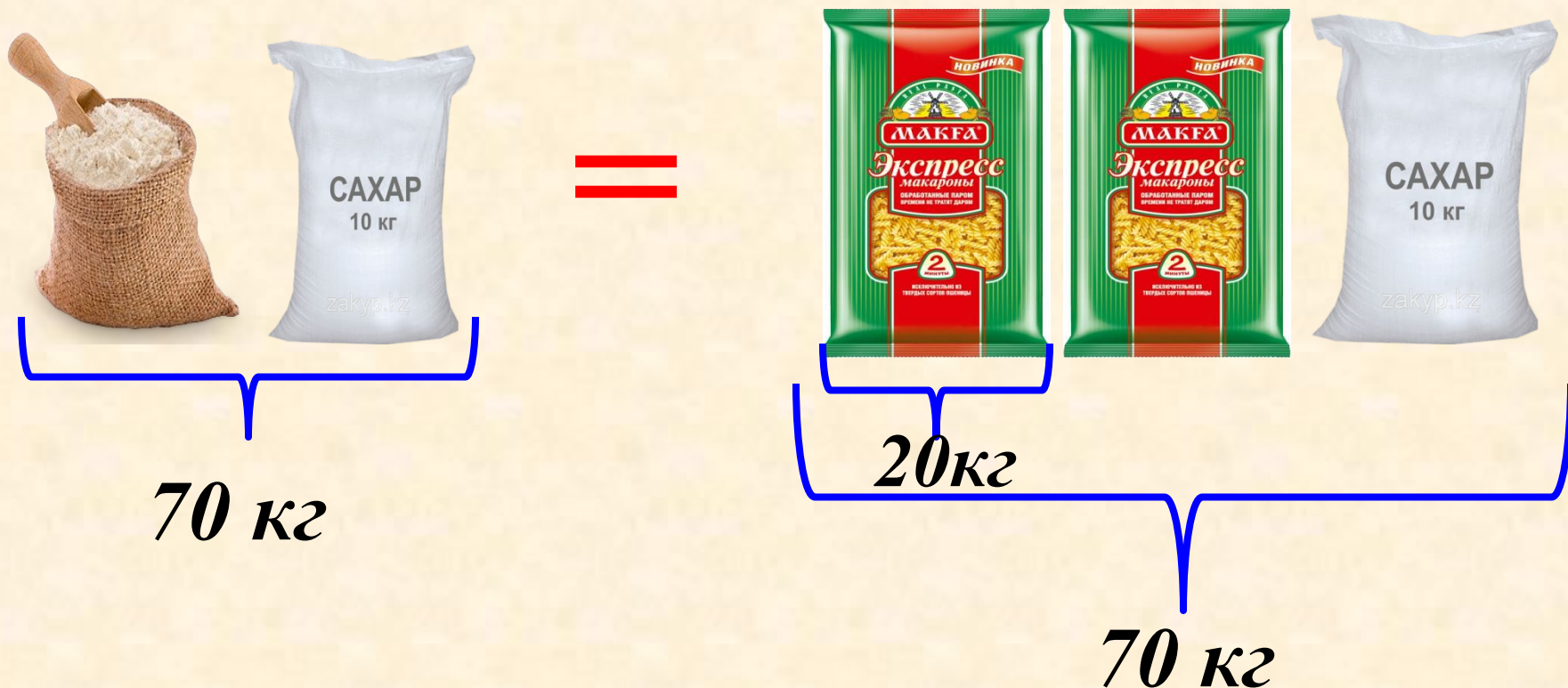
Папа написал на листочке число 86 и говорит своему сыну: «Не делая никакой записи, увеличь это число на 12 и покажи мне ответ». Недолго думая и не записывая, сын показал ответ. А ты сумеешь это сделать?



*Надо перевернуть лист,
получится число 98*



Мешок муки и мешок сахара вместе весят столько же, сколько весят вместе 2 коробки с вермишелью и мешок сахара. Сколько весят 2 мешка сахара, если мешок сахара и мешок муки весят вместе 70 кг, а коробка с вермишелью 20 кг?



Молодцы!
Спасибо за урок!

