





# По ступенькам математики





«– Скажите,  
пожалуйста,  
куда мне отсюда идти?  
– А куда ты хочешь  
попасть? – ответил Кот.  
– Мне все равно... –  
сказала Алиса.  
– Тогда все равно, куда  
• и идти, – заметил  
Кот.»

Ниже каждой геометрической фигуры расставь предметы, имеющие форму круга, прямоугольника и треугольника.

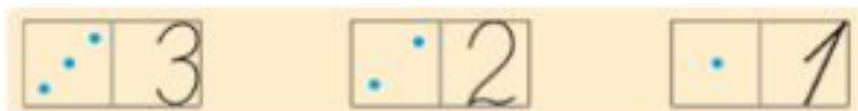




Сколько ягод на каждом рисунке? Запиши.

Какая карточка какому числу соответствует?



Увеличь число фигур на 1 и сделай соответствующие записи.



$$1 + \square = \square$$



$$3 + \square = \square$$




$$\square + \square = \square$$



$$\square + \square = \square$$



Рассмотри рисунок.



Выполни математические записи к рисунку.

$$\square - \square = \square$$

$$\square - \square - \square = \square$$



- НЕ ГРУСТИ, - СКАЗАЛА АЛИСА.  
- РАНО ИЛИ ПОЗДНО ВСЁ СТАНЕТ  
ПОНЯТНО, ВСЁ СТАНЕТ НА СВОИ МЕСТА  
И ВЫСТРОИТСЯ В ЕДИНУЮ КРАСИВУЮ  
СХЕМУ, КАК КРУЖЕВА. СТАНЕТ ПОНЯТНО,  
ЗАЧЕМ ВСЕ БЫЛО НУЖНО, ПОТОМУ  
ЧТО ВСЁ БУДЕТ ПРАВИЛЬНО.

