

МАТЕМАТИКА

27 января

Тема: Прямоугольник.
Решение задач и выражений.



Каллиграфическая минутка

4 8

48 48 48 48 48

84 84 84 84 84



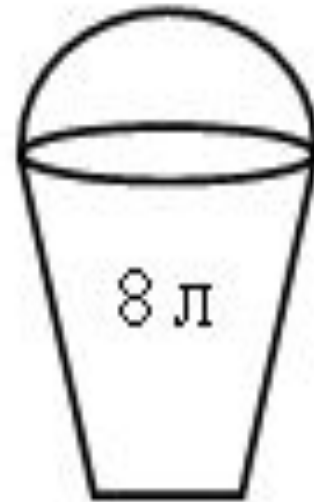

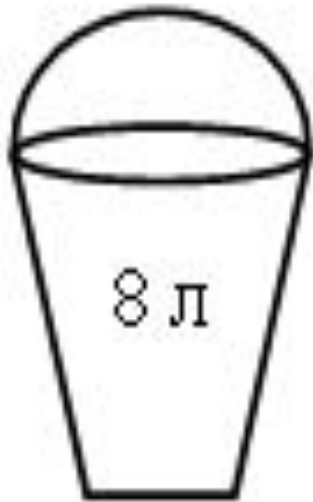
Найдите значения выражений:

$a - 8$ и $a + 10$ при:

- $a = 12$
- $a = 20$
- $a = 28$
- $a = 43$.



$$8 + 8 + 8 = 24 \text{ (л)}$$



Итог урока.

- – Что хотите сказать?
- – Что вызвало трудности сегодня на уроке?
- – Как вы думаете, почему?
- – Как вы сегодня работали?

Домашнее задание: с..15 № 7, 3.



