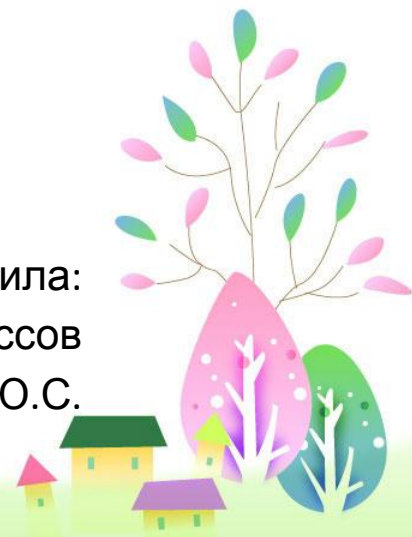


Алгоритм вычитания столбиком 3 класс

Выполнила:
учитель начальных классов
Кондюх Ю.С.





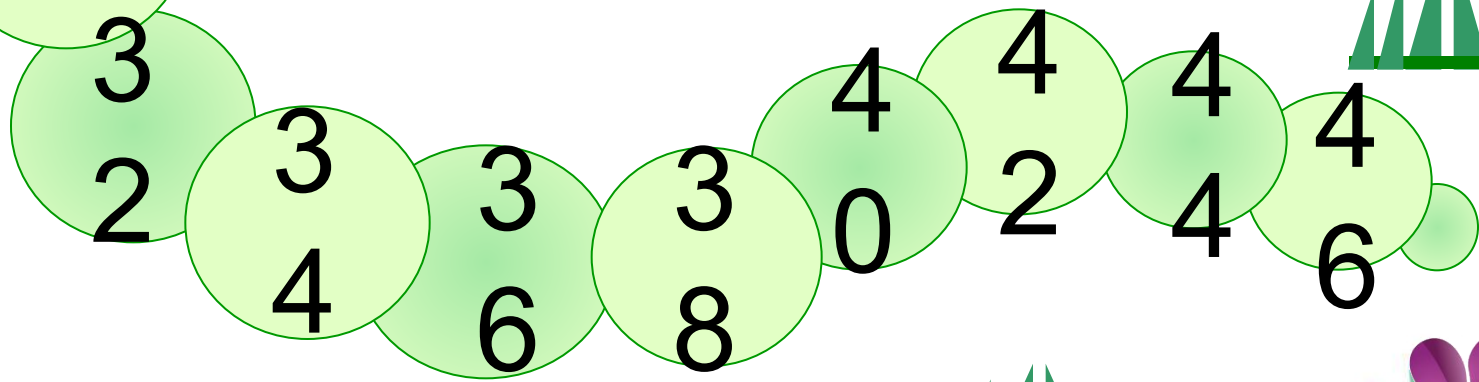
***Понапрасну не болтай,
Рассуждай и убеждай.
Здесь не нужен шум и
гам,
Ты решай задания сам.
Если же не сможешь
вдруг,
Пусть придёт на
помощь друг.***



Устный счет



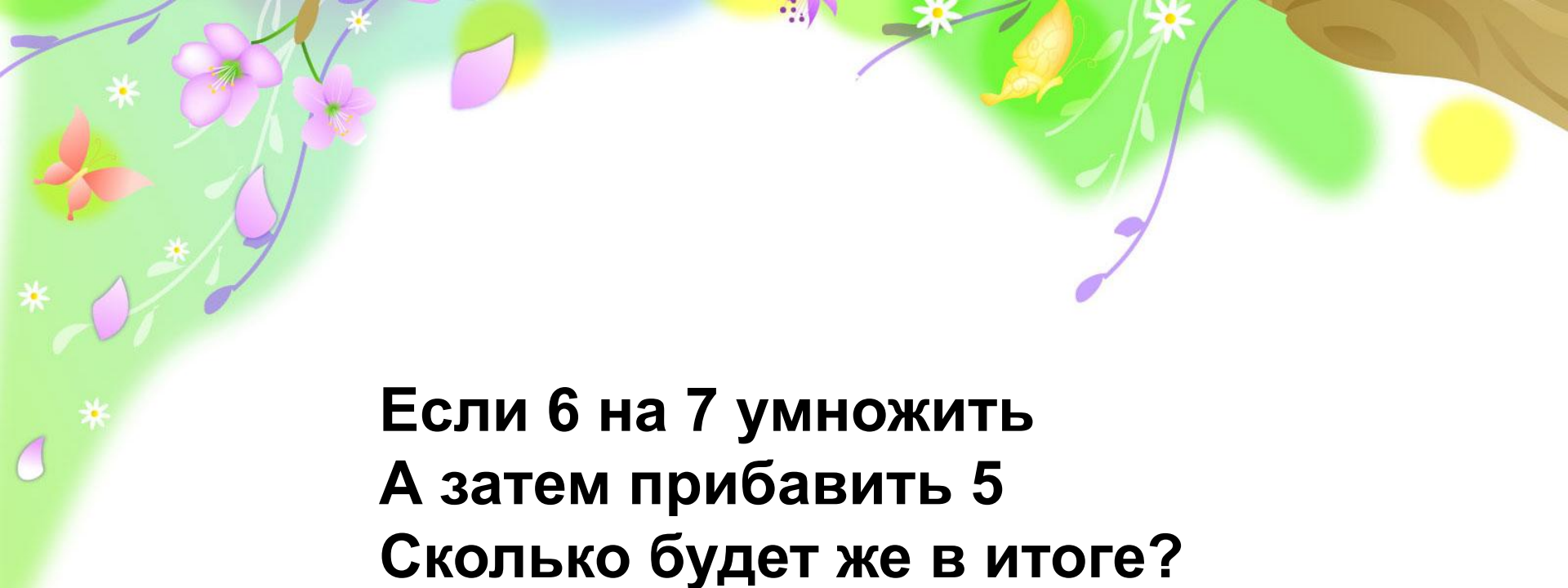
«Гусеница-растеряша»



A vibrant spring garden illustration. The top left corner features a branch with pink cherry blossoms and a red butterfly. The top right shows a tree trunk, a yellow butterfly, and a bright sun. The bottom right corner depicts a small village with colorful houses and stylized trees. The background is a soft, light green gradient.

Задачи в стихах:

**Три бельчонка маму-белку
Ждали около дупла.
Им на завтрак мама-белка
Девять шишек принесла.
Разделила на троих –
Сколько каждому из них?**



**Если 6 на 7 умножить
А затем прибавить 5
Сколько будет же в итоге?
Кто мне может подсказать?**





$$\begin{array}{r} 1 \\ 413 \\ + 177 \\ \hline 590 \end{array}$$

$$\begin{array}{r} 1 \\ 109 \\ + 178 \\ \hline 287 \end{array}$$



1

2

7

1

+

6

3

5

9

0

6

10

5

3

6

-

2

1

9

3

1

7

.



Выполнить вычитание данных чисел с помощью разрядной таблицы

Разряд сотен тысяч	Разряд десятков в тысячах	Разряд единиц тысяч	Разряд сотен	Разряд десятков в	Разряд единиц
1	1	6	9	1	9
-	7	6	3	9	1





Работа по учебнику, упр. 219

Вычитание столбиком

	5	6	8	2
-	4	2	3	8
	1	4	4	4

	7	2	8	3
-	2	1	7	5
	5	1	0	8

	2	3	5	6	4
-	1	2	9	3	8
	1	0	6	2	6

	3	9	4	8	6
-		9	5	2	7
	2	9	9	5	9

	4	2	5	6	8	7
-	4	2	5	5	9	7
					9	0



Задача № 223

Дано:

2 день – 50000 тонн

1 день – на 1743 тонны меньше.

Сколько тонн машина вывезла в 1-ый день?

Решение.





Домашнее задание

Учебник с. 66, № 220.



Молодцы!





Литература:

**Чекин А.Л. Математика. 3 класс: Учебник. В 2 ч. — М.:
Академкнига/ Учебник.**

