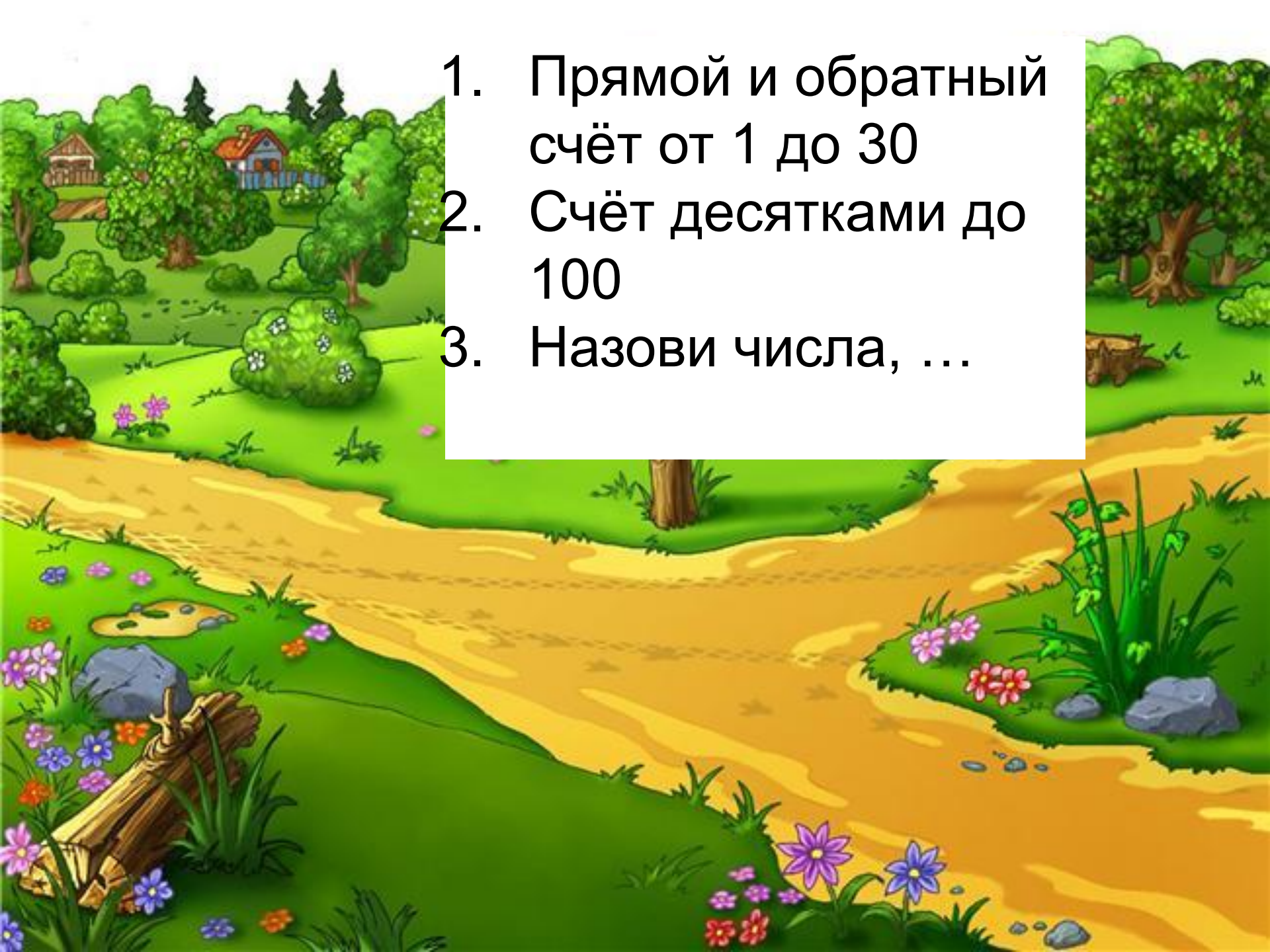


# Путешествие в Простоквашино



Презентация учителя КГУ «Кокпектинская средняя школа»

Рахимовой Карлыгаш Кабдоллаевны

- 
- A vibrant, cartoon-style illustration of a rural landscape. In the foreground, a winding river flows through a lush green field. The riverbank is adorned with various flowers, including purple and pink blossoms, and a stack of logs. In the middle ground, there are several large, leafy trees and a small wooden house with a red roof. The background shows more trees and a clear sky. The overall scene is bright and cheerful, with a focus on nature and a peaceful setting.
1. Прямой и обратный счёт от 1 до 30
  2. Счёт десятками до 100
  3. Назови числа, ...



$$20+30$$

$$40+10$$

$$50-20$$

$$100-70$$


$$90-20$$

$$70-40$$

$$60+30$$

$$20+80$$



A colorful cartoon illustration of a village scene. In the foreground, a brown dog with floppy ears is holding a blue camera up to its eye, ready to take a picture. In the background, there is a wooden house with a red roof and a wooden fence. To the right, a man in a yellow trench coat and a brown hat is holding a small notepad and looking towards the dog. The scene is set on a dirt path under a blue sky with some clouds.

Работа в  
тетради.

*15 октября*

Классная  
работа

*15*

*16*

22

56

49

34

25

70


11

19



Реши примеры





Давайте отдохнём





Во дворе 36 уток, а гусей на 6 меньше. Сколько во дворе гусей?

Во дворе  гусей, а уток на 6 больше. Сколько уток во дворе?

Во дворе  уток и 30 гусей. На сколько меньше гусей, чем уток?





# Самопроверка

$$36 - 30 = 6 \text{ (г)}$$

Ответ: на 6 гусей меньше.





1 вариант

$$a - 2 = 8$$

$$1 + a = 10$$

2 вариант

$$a - 1 = 9$$

$$2 + a = 10$$



# самопроверка

1 вариант

$$a - 2 = 8$$

$$a = 8 + 2$$

$$\underline{a = 10}$$

$$10 - 2 = 8$$

$$8 = 8$$

$$1 + a = 10$$

$$a = 10 - 1$$

$$\underline{a = 9}$$

$$1 + 9 = 10$$

$$10 = 10$$



2 вариант

$$a - 1 = 9$$

$$a = 9 + 1$$

$$\underline{a = 10}$$

$$10 - 1 = 9$$

$$9 = 9$$

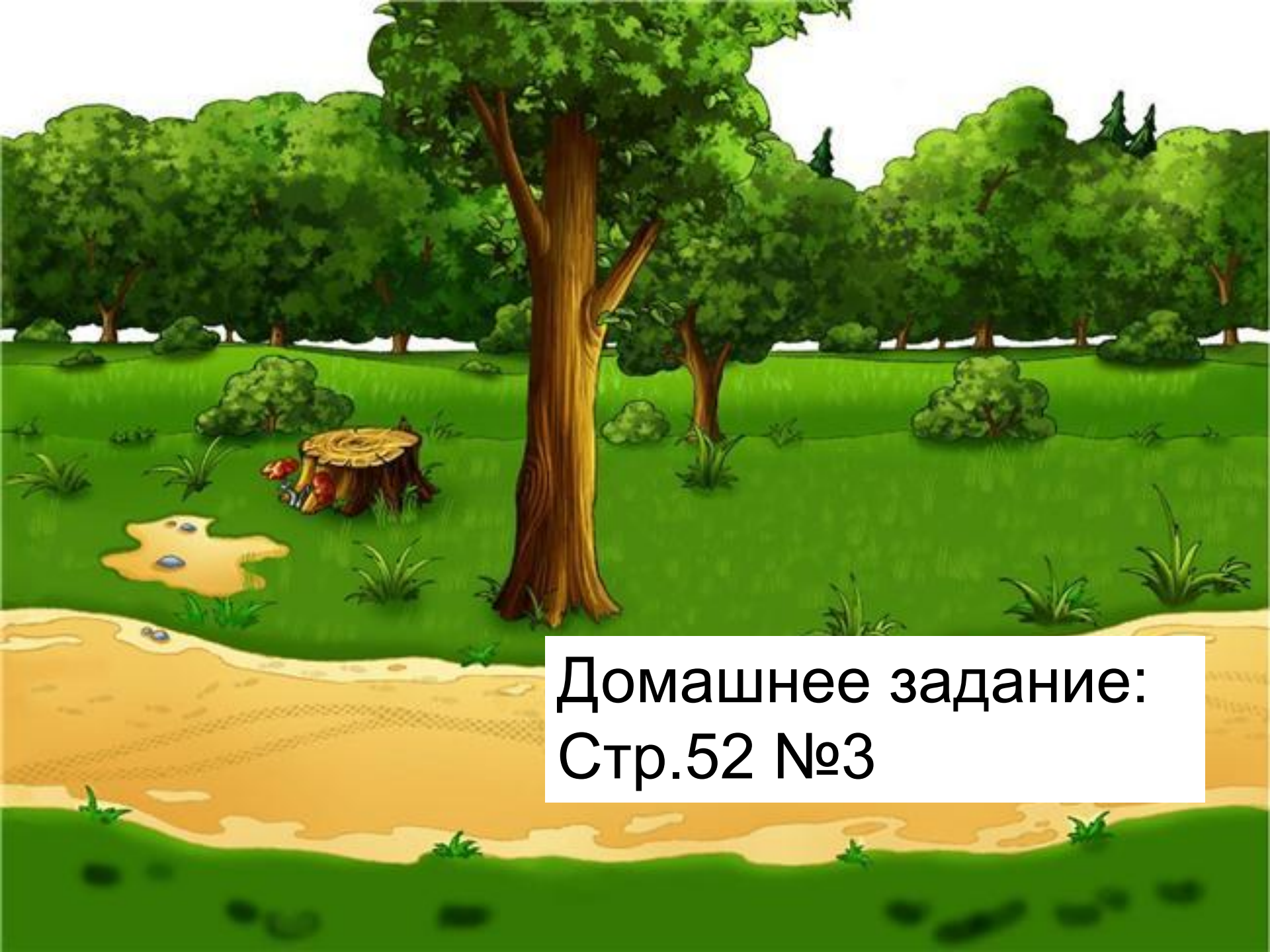
$$2 + a = 10$$

$$a = 10 - 2$$

$$\underline{a = 8}$$

$$2 + 8 = 10$$

$$10 = 10$$



Домашнее задание:  
Стр.52 №3

На уроке мне было легко выполнять...  
Я затруднялся ...  
Мне надо поработать над ...





ДО ВСТРЕЧИ В ПРОСТОКВАШИНО