




# Урок математики

Тема урока: «Приёмы письменного вычитания в пределах 1000».

Автор: Озаренкова Лариса Александровна,  
учитель начальных классов  
МБОУ «Пролетарская СОШ»  
Серпуховского района





Тут примеры и задачи,  
Головоломки - все для вас.  
Пожелаю вам удачи -  
За работу, в добрый час!



## Реши примеры

$150 - 90$

$420 + 50$

$320 + 500$

$380 + 60$

$830 - 300$

$570 - 80$

$360 + 170$

$320 - 200$

$260 - 70$

$160 - 70$


$240 + 500$

$240 + 50$

$790 + 80$

$740 - 200$

$620 - 40$



## *Сколько получится?*

- если сложить 46 и половину от 18?
- 58 и третью часть 15?
- 70 и пятую часть от 45?

*Какое выражение решено верно?*

$$60 - 39 : 3 \cdot 2 = 14$$

$$60 - 39 : 3 \cdot 2 = 94$$

$$60 - 39 : 3 \cdot 2 = 34$$





# Реши задачи



- На скамейку сели малыши.  
Дюймовочка занимает 1 см. Незнайка  
6 см, а доктор Пилюлькин – 8 см.  
Уместятся ли они все, если длина  
скамейки 2 дм.








- Одна курица высадила 30 яиц, из которых вылупились 4 крокодильчика, 8 индюшат, 3 черепашки, 2 цыпленка, 6 малюсеньких кобр, 3 динозаврика и 4 страусенка. Сколько куриных яиц было в общей куче?








У Тани, Оли и Наташи были вишни,  
виноград и яблоко. У Наташи не  
было ни яблока, ни винограда, У  
Тани не было винограда. У кого что  
было?



# Проверка

Оля Наташа Таня







7	0
- 2	5
5	5


8	1
- 6	3
2	8

4	5
---	---

1	8
---	---



# Решите примеры



- $460 - 200 =$
- $670 - 400 =$
- $350 - 210 =$
- $637 - 273 =$



- Пишу...
- Вычитаю единицы...
- Вычитаю десятки...
- Вычитаю сотни...
- Читаю ответ ....



# Физминутка

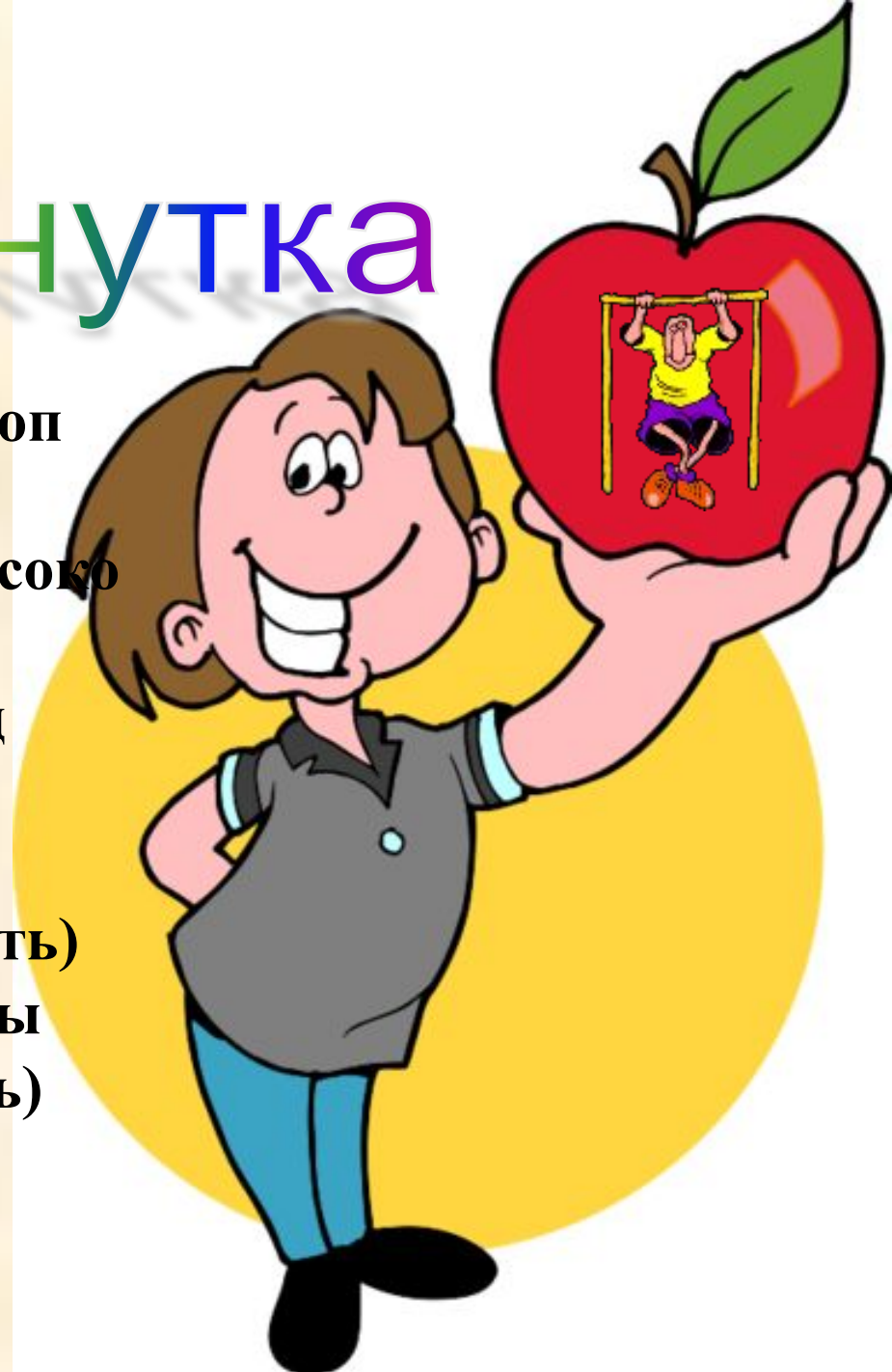
**Мы хлопаем в ладоши, хлоп, хлоп  
(хлопки над головой)**

**Мы топаем ногами, топ, топ(высоко  
поднимаем колени)**

**Качаем головой (головой вперед  
назад подвигать)**

**Мы руки поднимаем, мы руки  
опускаем (руки поднять, опустить)**

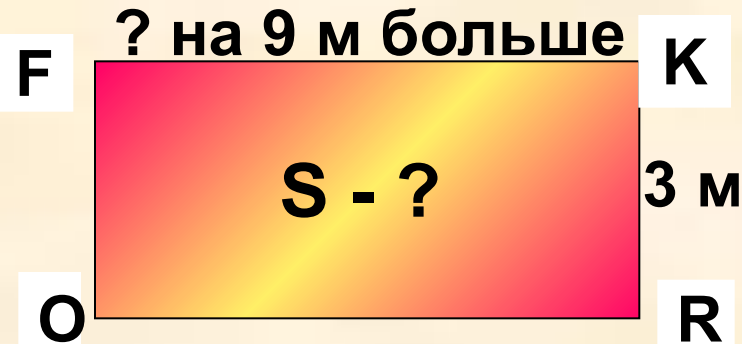
**Мы низко приседаем и прямо мы  
встаем (присесть и подпрыгнуть)**



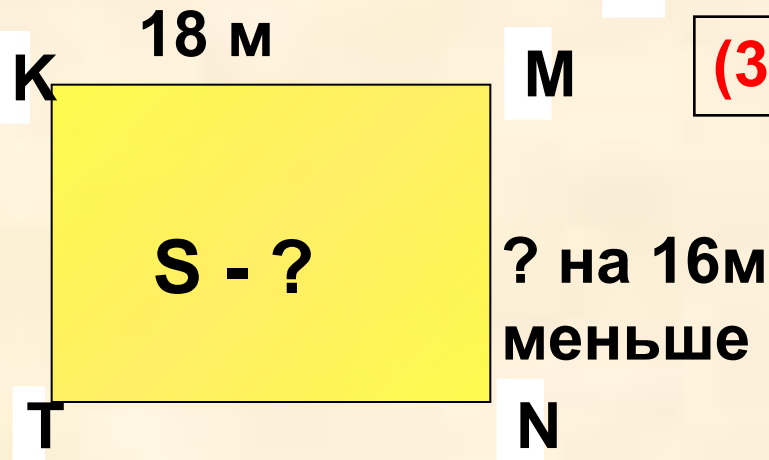
# Решите задачи на нахождение площади



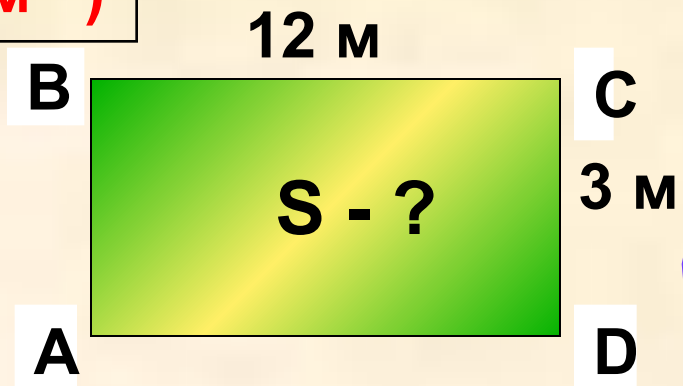
# I группа II группа III группа



$$(3+9) \cdot 3 = 36 \text{ (м}^2\text{)}$$




$$(18-16) \cdot 18 = 36 \text{ (м}^2\text{)}$$




$$12 \cdot 3 = 36 \text{ (м}^2\text{)}$$





5 м

50 дм






Спасибо за урок!







# Домашнее задание

- № 3, № 4, с.60.

