

# МАТЕМАТИЧЕСКИ



Подготовила: Капитан Е.  
Г.



# Математическая разминка

Первые получают - 4  
балла





**Работа в нетбуках**

**«Академия  
школьника»**

**Соедини**

**«Магические  
квадраты»**

**№119**



# Математическая эстафета

Команды работают по очереди, если команда даёт неправильный ответ, отвечают другие команды.

Каждый правильный ответ – 2 балла






**1к.** Пара лошадей пробежали 40 км. Сколько пробежала одна лошадь? (40)



**2к.** Сколько концов у  
четырёх палок?



**Зк.** 4 ПТИЦЫ склевали 4  
гусеницы за 4 сек. За  
сколько сек. 10 птиц  
склюют 10 гусениц? (4)




**4к.** На столе 3 стакана с вишней. Костя съел 1 стакан и поставил пустой стакан на стол. Сколько стаканов осталось (●)







**1к.** Велосипедист ехал в поселок.  
Навстречу ехали 3 легковые машины  
и 1 грузовик. Сколько машин ехало в  
поселок?



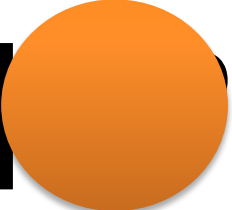
**2к.** Что легче: 1 кг ваты  
или 1 кг железа  
(одинаково)



**Зк.** Гусь на двух ногах  
весит 4 кг. Сколько он  
весит на од  ноге? (4кг)





**4к.** Чему равно  
произведение всех  
цифр  (0)



**1к.** Сколько получится если к  
наибольшему трёхзначному  
числу прибавить наименьшее  
однозначное число?




**2к.** Две сардельки варятся 6 минут. Сколько времени будут вариться 8 таких сарделек?

( 6 минут.)







**Зк.** Сколько горошин  
может войти в  
стакан (литр)



**4к.** 7 картофелин сварились за 35 минут в кастрюле. За сколько минут сварилась каждая картофелина?



# Физ. минутка






**Конкурс  
«Гонка за  
лидером».**

**Вопрос - 5 баллов**

# 1 команда

**Во сколько раз увеличится  
площадь квадрата, если  
каждую сторону его увеличить  
в 2 раза?**



## 2 команда

Если Андреев даст Петрову 300 рублей, то денег у них станет поровну. На сколько, у Андреева денег больше, чем у Петрова?



## 3 команда

Соня доходит от дома до школы за 12 минут, а её брат Алёша добегает до школы и обратно без остановки за 8 минут. Во сколько раз Алёша доб

быстрее, чем Соня?



## 4 команда


Площадь прямоугольника 91 кв. см. Длина одной из его сторон 13 см. Чему равна сумма всех сторон прямоугольника?





**Физ. минутка**

# Конкурс капитанов



**Условие конкурса:  
отвечать надо  
быстро,  
Каждый ответ –  
это 1 балл.**



# 1 команда

- Как называется результат сложения?  
( )
- Сколько кг в 1 тонн ( )
- В каком числе 80 десятков ( )
- Число, предшествующее 2 ( )
- В каком месяце бывает 28 или 29  
( ) (феврале)
- Чему равна половина 12 ( )

## 2 команда

- Наибольшее трёхзначное число (999)
- Уменьшите 485 на 85 ( )
- Сколько месяцев в году (12)
- У крышки стола отпилили два угла. Сколько углов стало (6)
- Делимое 56, делитель 7, назовите частное?  
(8)
- Сколько лет в одном веке (100)



## 3 команда

- Назовите результат, получаемый при умножении [redacted] ( )
- Сколько центнеров в одной тонне? [redacted] (10)
- Сколько всего десятков в числе 856? [redacted] (85)
- Назови число, следующее за числом 999? [redacted] (1000)
- Назовите седьмой месяц от начала года [redacted] (июль)

## 4 команда

- Наименьшее четырёхзначное число.

1000

- Увеличь 12 в 3 раза (36)
- Сколько дней в неделе (7)
- Сколько вершин у ромба (4)
- Уменьшаемое 97, вычитаемое 17, назовите разность (80)
- Сколько ног у паука (8)

**“Головоломки –  
гимнастика для  
ума”.**

**Отвечает команда,  
которая первой  
нашла решение.**

**Правильный**

**ответ-**

**5 баллов**




- В ряду 8 стульев. Миша сел на пятое место слева, а Даша – на пятое место справа. Может быть, они сели на один и тот же стул?




**Ребята сели  
рядом**


- Галя, Марина и Оля пришли на праздничный концерт с шариками разных цветов — красным, синим и зеленым. У Гали был не красный шарик, у Марины — не синий и не зеленый. Шарик какого цвета был у каждой девочке?



**Шари  
к  
Оли**



**Шарик  
Марин  
ы**



**Шарик  
Гали**




На столе лежали три линейки.  
Жёлтая была длиннее зелёной на 2 см.  
Синяя короче зелёной на 3 см.  
Найти длину каждой линейки, если  
длина синей – 15 см.

Зелёная – 18

Синяя – 15  
см

Жёлтая – 20  
см

см



- Зоя живет выше Пети, но ниже Лены, а Марина живет ниже Пети. На каком этаже четырёхэтажного дома живёт каждый из них?




МАТЕМАТИЧЕСКИ

Подведём  
итоги



1. Я сегодня я узнал...
2. Было интересно...
3. Было трудно...
4. Я выполнял задания...
5. Я понял, что...
6. Теперь я могу...
7. Я почувствовал, что...
8. Я приобрел...
9. Я научился...
10. У меня получилось
11. Я смог...
12. Я попробую...
13. Меня удивило...
14. Урок дал мне для жизни...
15. Мне захотелось...



ClipartOf.com/220672

3.Рефлексия  
содержания  
учебного  
материала





# Рефлексия

1. Рефлексия  
настроения и  
эмоционального  
состояния







Спасибо!