

4
класс

Арифметические действия в пределах 100. Решение задач.

Блиц-опрос

*Луковкина Татьяна Сергеевна,
учитель начальных классов
ГБОУ СОШ №1222 г. Москвы*



Найдите третью часть
СУММЫ

$$24+24+24=24$$

$$12+14+16=14$$

$$57+(36:4) = 22$$

$$60+(30:2) = 25$$



**Сколько
сантиметров:** 30
в 3 дм 100
в 10 дм 30

**Сколько
миллиметров:** 50 мм
в 5 см 90 мм
в 9 см

**Сколько
миллиметров
составляют:** 65 мм
6 см 5 мм 81 мм
8 см 1 мм

**Сколько сантиметров
составляют** 72
7 дм 2 см 38
3 дм 8 см 38



**Сложи 25 и 15 и полученную сумму
увеличь в 2 раза**

80

**Из числа 70 вычти 20 и разность
уменьши**

2

в 25 раз

100

Умножь разность чисел 54 и 34 на 5

5

Раздели разность чисел 60 и 15 на 9



Решите задачи


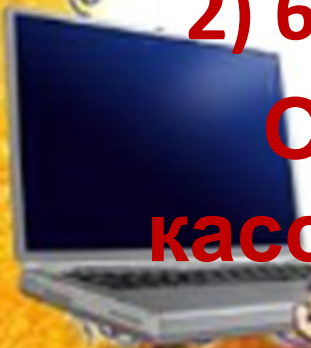
Мама купила 4 пирожных по 12 рублей и получила сдачи 40 рублей. Сколько денег она дала кассиру?

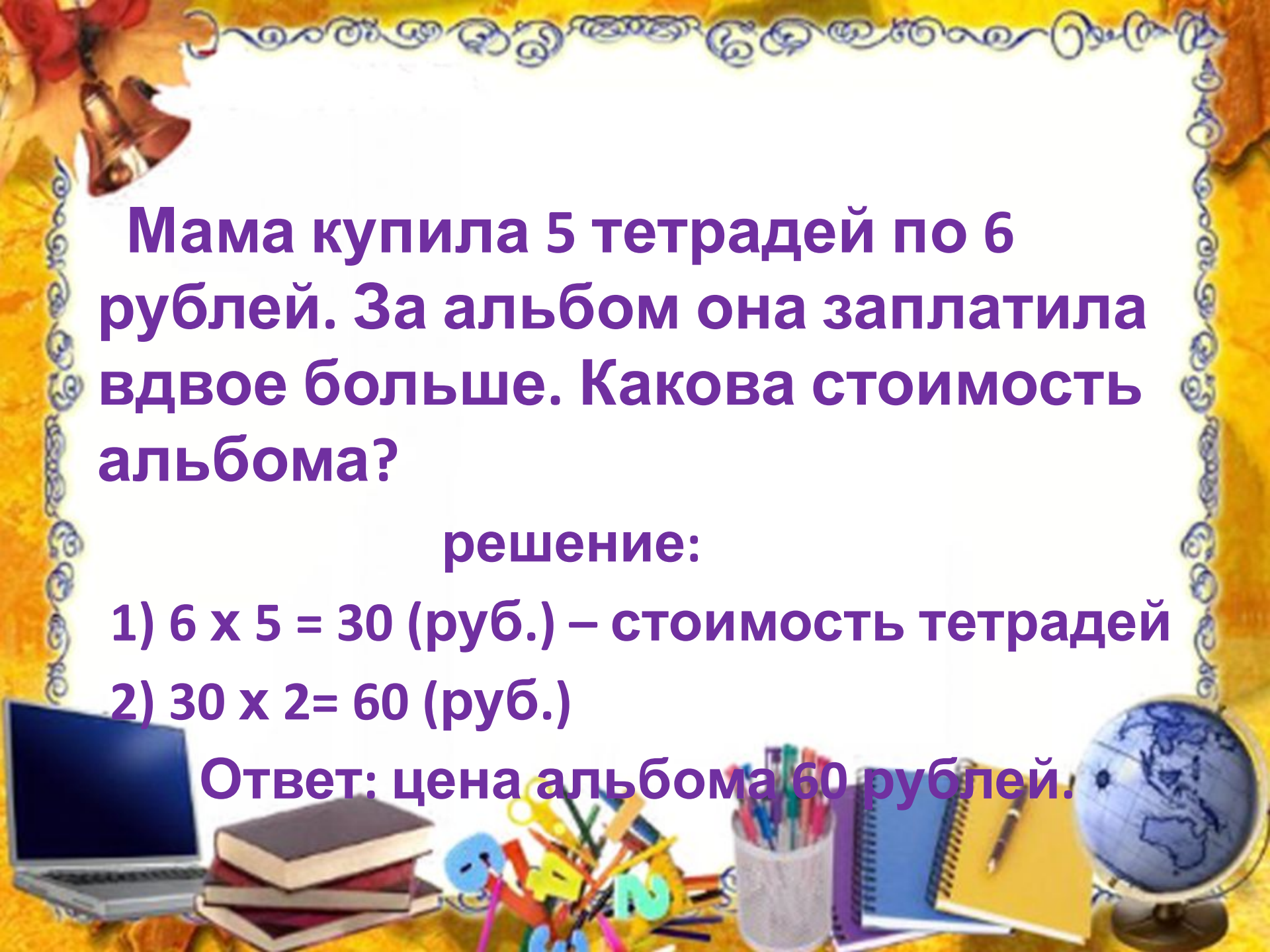
решение:

1) $12 \times 4 = 60$ (руб.) – стоимость покупки

2) $60 + 40 = 100$ (руб.)

Ответ: 100 рублей мама дала кассиру.





Мама купила 5 тетрадей по 6 рублей. За альбом она заплатила вдвое больше. Какова стоимость альбома?

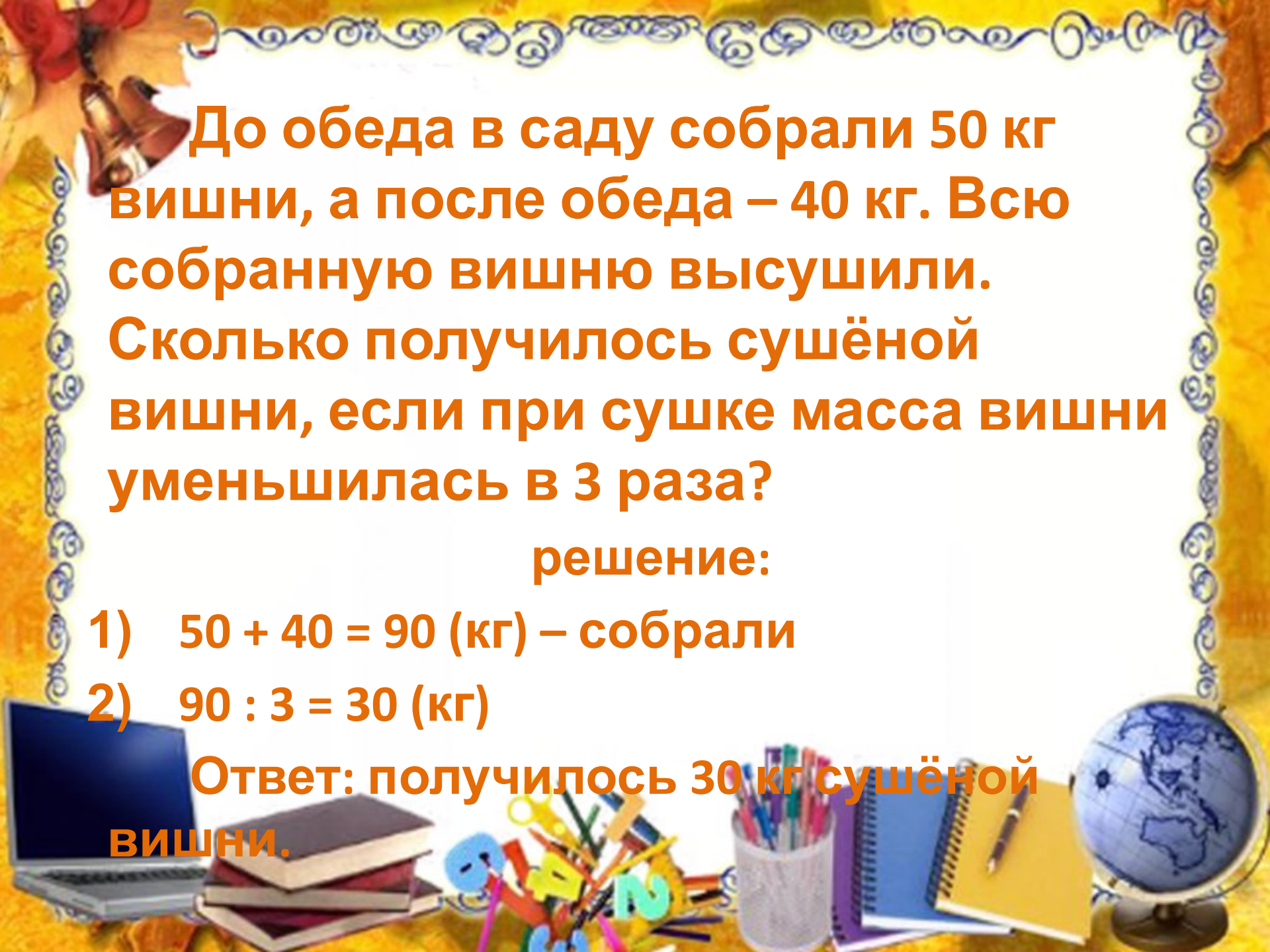
решение:

1) $6 \times 5 = 30$ (руб.) – стоимость тетрадей

2) $30 \times 2 = 60$ (руб.)

Ответ: цена альбома 60 рублей.





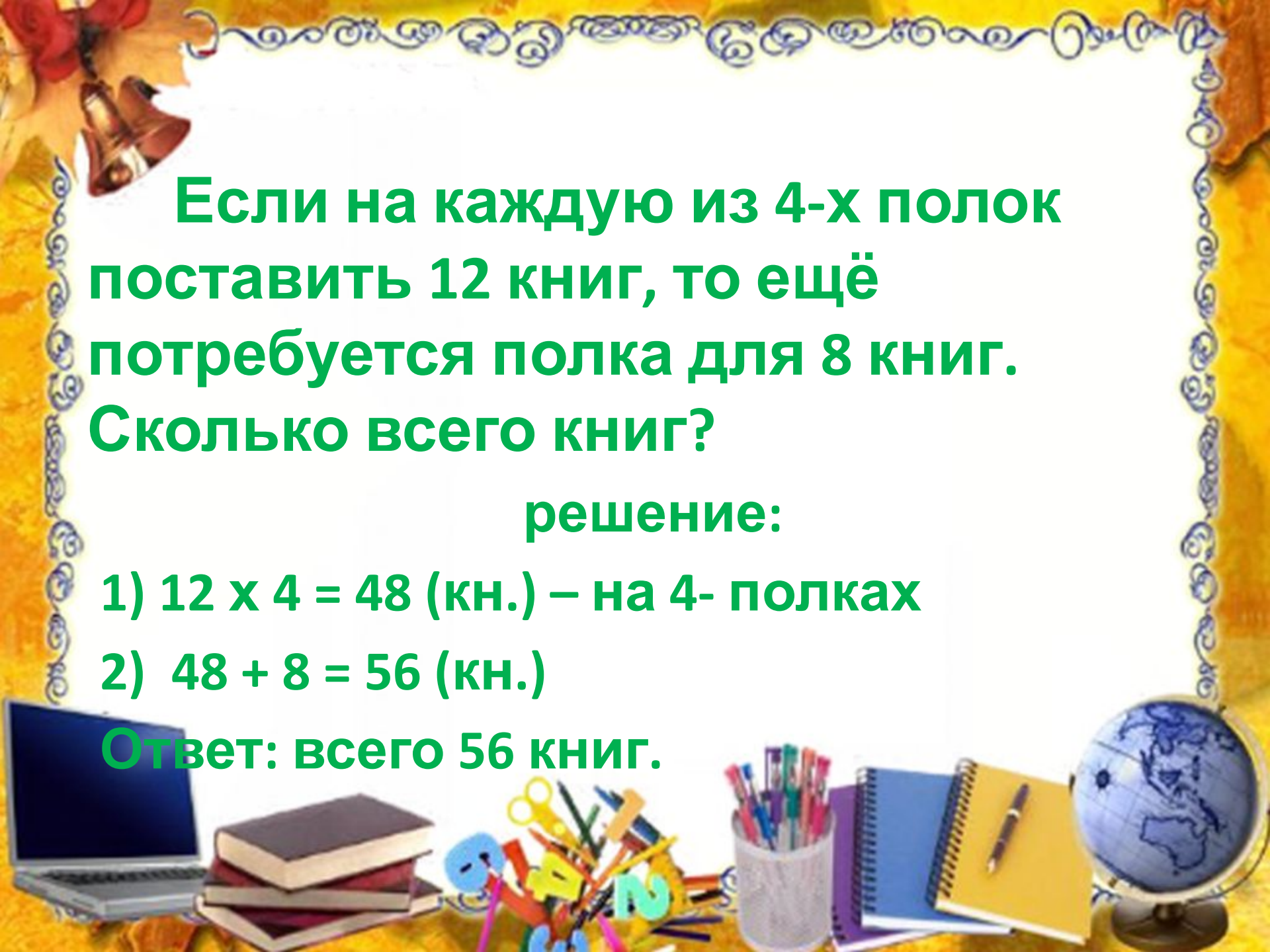
До обеда в саду собрали 50 кг вишни, а после обеда – 40 кг. Всю собранную вишню высушили. Сколько получилось сушёной вишни, если при сушке масса вишни уменьшилась в 3 раза?

решение:

- 1) $50 + 40 = 90$ (кг) – собрали
- 2) $90 : 3 = 30$ (кг)

Ответ: получилось 30 кг сушёной вишни.






**Если на каждую из 4-х полок
поставить 12 книг, то ещё
потребуется полка для 8 книг.
Сколько всего книг?**

решение:

1) $12 \times 4 = 48$ (кн.) – на 4- полках

2) $48 + 8 = 56$ (кн.)

Ответ: всего 56 книг.



Самооценка



Оценка класса



Автор шаблона

**Чичерова
Наталия Михайловна**

**учитель информатики
МБ ОУ Газопроводская СОШ**

С. Починки Нижегородской обл.

Интернет источники:

http://g.rl0.ru%2fpgc%2f432x288%2f528ff777-8b6e-3d88-8b6e-3d87a8d3b314.photo.0.jpg&uinfo=sw-1920-sh-1080-ww-1903-wh-911-pd-1-wp-16x9_1920x1080&/-пьедестал

http://yandex.ru/images/search?p=2&text=%D0%BF%D1%80%D0%B8%D0%BA%D0%BE%D0%BB%D1%8C%D0%BD%D1%8B%D0%B5%20%D0%BA%D0%B0%D1%80%D1%82%D0%B8%D0%BD%D0%BA%D0%B8%20%D0%BE%D1%86%D0%B5%D0%BD%D0%B8%D0%B2%D0%B0%D0%BD%D0%B8%D1%8F%20%D1%83%D1%87%D0%B0%D1%89%D0%B8%D1%85%D1%81%D1%8F&img_url=http%3A%2F%2Fs19.rimg.info%2F33bb20e0cd8b26c9211ce02712157b7e.gif&pos=66&uinfo=sw-1920-sh-1080-ww-1903-wh-911-pd-1-wp-16x9_1920x1080&rpt=simage&_id=1404846946617-смайлик

