






# Будем

# считать





Какая дорожка  
длиннее? Короче?





## Построй ряд чисел из ответов

- К задуманному числу прибавили 1 и получили 7. Какое число задумали?

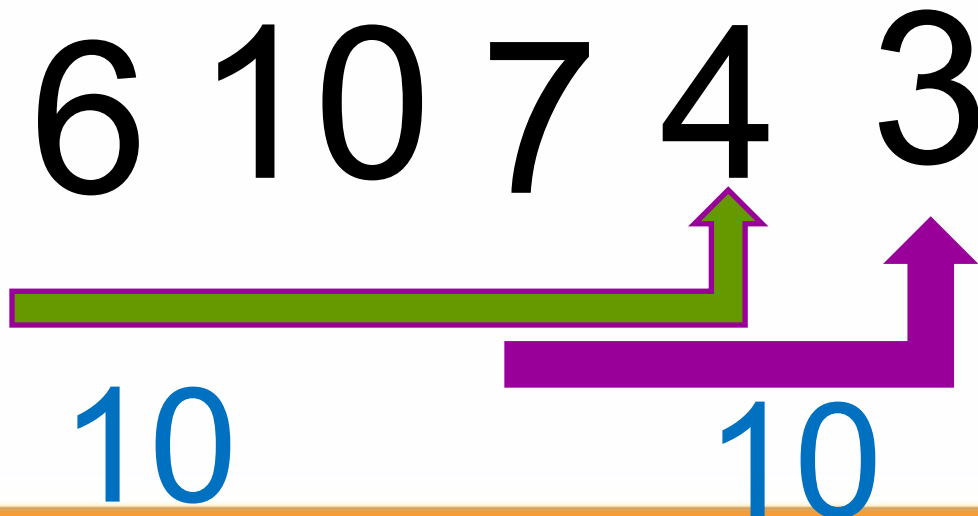


- Какое число при счёте следует за числом 9?
- Число на 1 меньше, чем 8.
- Какое число имеет соседей 3 и 5?



□ Какое число  
предшествует числу  
4?

ПРОВЕРЬ



30

