

Числа 6 и 7.

Письмо  
цифры 7



# Разминка

Сколько дней в недели?

1	ПОНЕДЕЛЬНИК
2	ВТОРНИК
3	СРЕДА
4	ЧЕТВЕРГ
5	ПЯТНИЦА
6	СУББОТА
7	ВОСКРЕСЕНЬЕ



# Разминка

**Назови шестой день  
недели.**



# Разминка

Сколько букв в слове **ученик**?

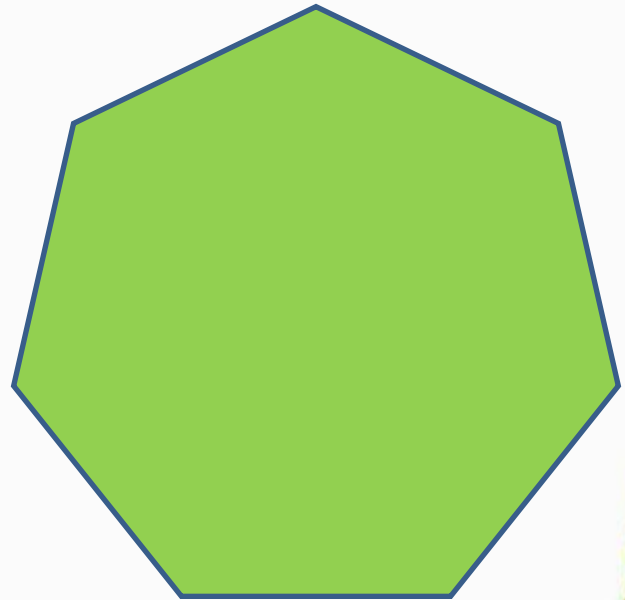



land-of-spirit.ru



# Разминка

**Назови одним словом:  
квадрат, пятиугольник,  
семиугольник.**



# Разминка

**Как называется улица, на которой находится наша школа?**



# Разминка



# Какие карточки первёрнуты?

$$6 - \boxed{1} = 5 \quad 6 - 2 = 2 \quad \boxed{>}$$

$$\boxed{4} - 1 = 3 \quad 5 + 1 = 3 \quad \boxed{>}$$

$$5 - \boxed{2} = 3 \quad 6 - 3 = 4 \quad \boxed{<}$$





# Какие карточки первёрнуты?

$6 - \quad = 4 \quad 3 + \quad = 6$

2

3

$\quad + 5 = 6 \quad 4 + \quad = 5$

1

1


$3 + \quad = 5 \quad 6 - \quad = 2$

2

4




# Физкультминутка




Ср тихо клён  
начает,  
Вправо, влево  
наклоняет.  
Раз – наклон,  
Два – наклон,  
Зашумел  
листвою клён.






*Молодцы!*





*Молодцы!*





*Молодцы!*





М.И. Моро С.И. Волкова С.В. Степанова



# Математика



Часть 1

# 1

ПРОСВЕЩЕНИЕ  
КВАРТАЛЪ



К шести прибавить 1 получится   
Из семи вычесть 1 получится



$$5 + 1 = \square \quad 6 - 1 = \square$$
$$6 + 1 = \square \quad 7 - 1 = \square$$



Сколько вагонов в каждом поезде? В каком из них больше вагонов и на сколько?

$$7 - 1 = \square \quad 5 - \square = 4 \quad \square - 1 = 2$$
$$6 - 1 = \square \quad 4 - \square = 3 \quad \square - 1 = 1$$

Карточки с какими числами перевернуты?



7

777 777  
1,2,3,4,5,6,7




1

3

5

7





7 7 7    7 7 7

1, 2, 3, 4, 5, 6, 7



К шести прибавить 1 получится .

Из семи вычесть 1 получится .



$$5 + 1 = \square$$

$$6 - 1 = \square$$

$$6 + 1 = \square$$

$$7 - 1 = \square$$







Сколько вагонов в каждом поезде? В каком из них больше вагонов и на сколько?

$$7 - 1 = \square$$

$$5 - \square = 4$$

$$\square - 1 = 2$$

$$6 - 1 = \square$$

$$4 - \square = 3$$

$$\square - 1 = 1$$



Определи, какая запись подходит к рисунку слева, а какая — к рисунку справа.



$$4 + 1$$


$$4 - 3$$

$$4 - 1$$

$$5 - 1$$

$$4 - 2$$

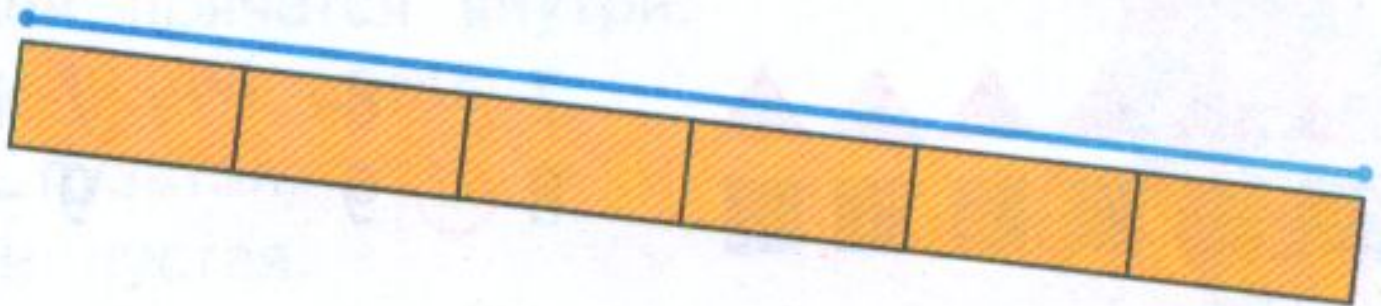

$$2 + 2$$



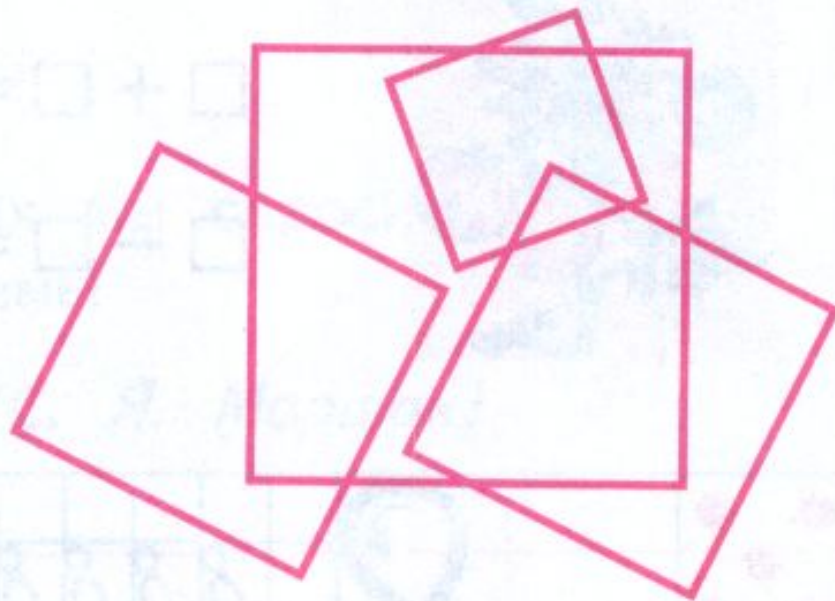
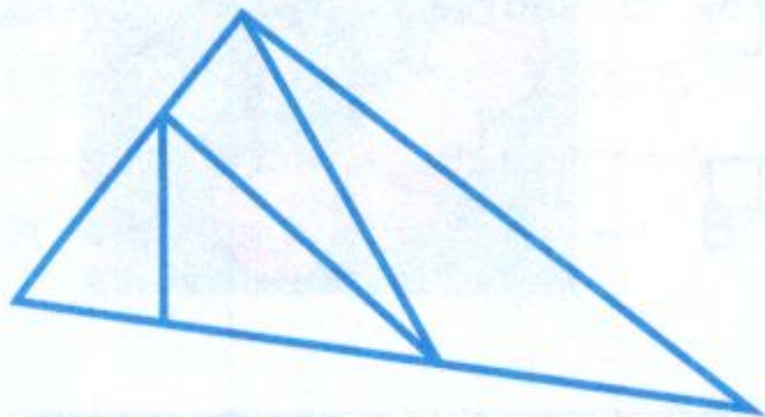
Составь рассказ по записи  $4 - 3$ .



Сравни отрезки по длине.




Сколько треугольников на чертеже? Сколько квадратов?



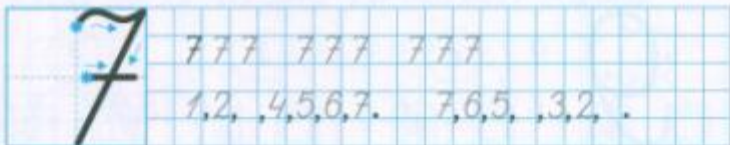
1 2 3 4 5 6 7

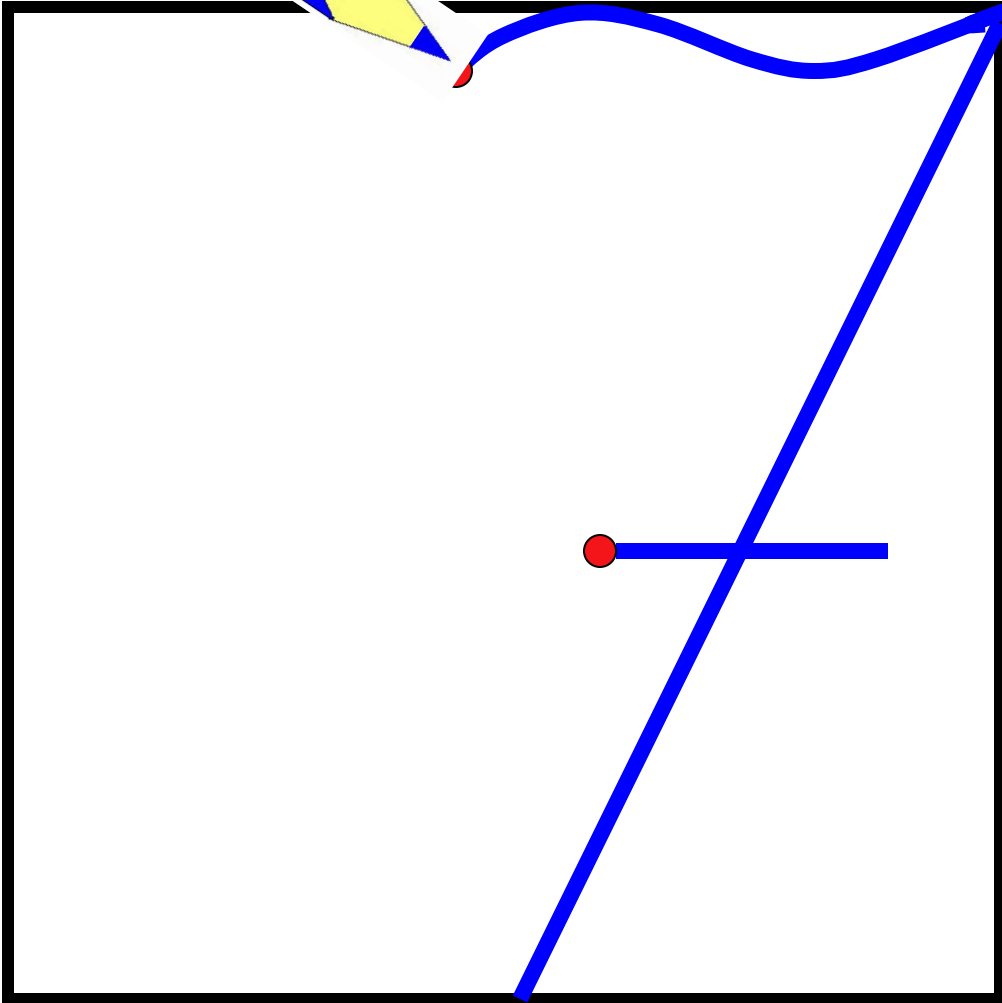
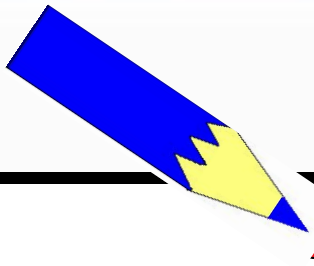


1 2 3 4 5 6



Раскрась рисунок так, чтобы он подходил к записи.







777 777 777

1,2,4,5,6,7. 7,6,5,3,2.





I






1 2 3 4 5 6 7



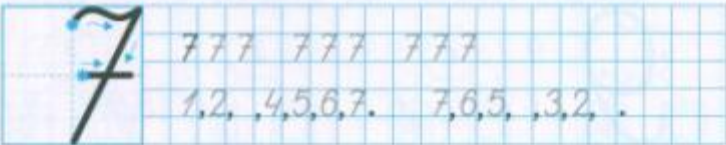
1 2 3 4 5 6



Раскрась рисунок так, чтобы он подходил к записи.



5 - = 4      - 1 = 2      2 + 3 =  
4 - = 3      - 1 = 1      5 + 2 =



Д/з

