

Числа 6 и 7.

Письмо
цифры 6



Разминка

Назови 5 имён девочек.




Разминка

Как называется время приёма пищи в середине дня?



Разминка

Назови крупное домашнее животное, которое даёт молоко.



КОРОВА



Разминка

Назови первый месяц года.



ЯНВАРЬ



Разминка

Кто от дедушки ушёл? Кто от бабушки ушёл?



Разминка



Какие карточки первёрнуты?

$$4 - \boxed{1} = 3 \quad 5 - 2 = 2 \quad \boxed{>}$$

$$\boxed{2} - 1 = 1 \quad 4 + 1 = 3 \quad \boxed{>}$$

$$5 - \boxed{2} = 3 \quad 5 - 3 = 4 \quad \boxed{<}$$



Какие карточки первёрнуты?


$$4 - \boxed{2} = 2 \quad 3 + \boxed{2} = 5$$

$$\boxed{1} + 2 = 3 \quad 4 + \boxed{1} = 5$$

$$3 + \boxed{1} = 4 \quad 5 - \boxed{2} = 3$$





Физкультминутка



Ср тихо клён
начает,
Вправо, влево
наклоняет.
Раз – наклон,
Два – наклон,
Зашумел
листвою клён.










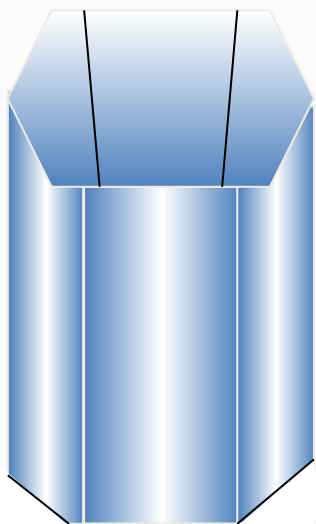
Цифра **Шесть** таинственная,
как замок






Шесть ног у таракана.

Шесть граней у стакана.




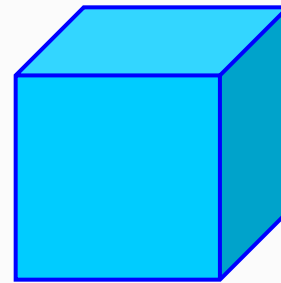
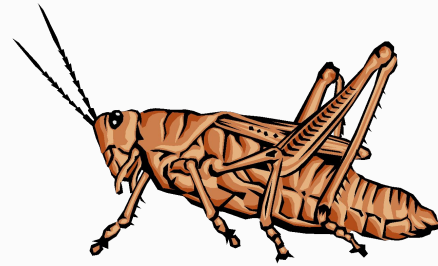
ШЕШТЬ



У Алёны платья есть.
Сколько этих платьев? **ШЕШТЬ!**
Ах, приятное занятие –
Примерять все эти платья!



6

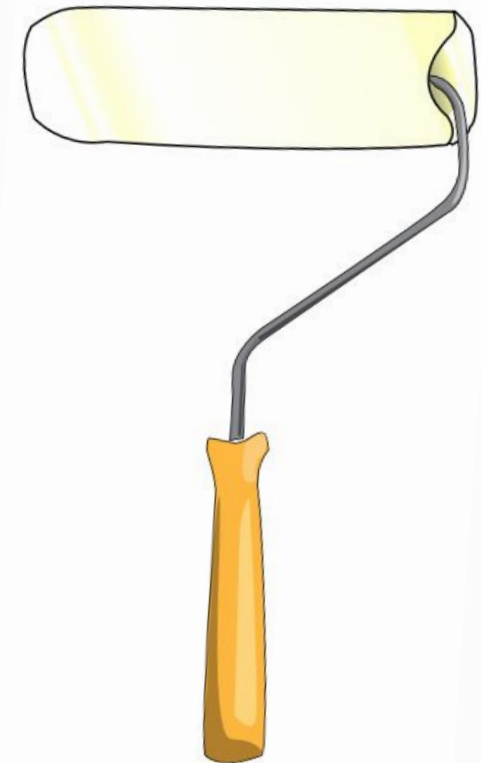


Шесть ног у насекомого.

Шесть граней у куба.

В шесть лет детки идут в первый класс.





Цифра **Семь** трудолюбивая, как валик


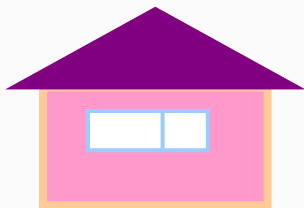





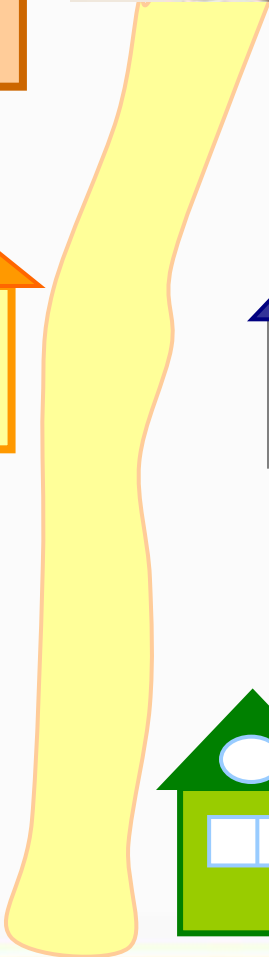


С



НОМИКОВ
Х ДОМИКОВ!
ЛУЧКУ,
ЛУЧКУ!

otvetin.ru



7

с

е


м

Держи подарок, Светик!
Цветик-семицветик!





7



Семь дней в неделе.
Семь цветов у радуги.
Семь континентов на Земле.





1
2
3
4
5
6
7

СРАВНИ: ▶ Как можно получить число 6? число 7?

▲
●
◆
◆
●
▼

▲
◆
●
●
◆
▼

$5 + 1 = 6$
 $6 + 1 = 7$

$6 - 1 = 5$
 $7 - 1 = 6$

▲▲▲▲▲▲ 6

■■■■■■ 5

●●●●●● 7

●●●● 4

6
 6666 6666
 123456

52





Какое время показывают каждые часы?






Которым по счёту будет красный квадрат, если считать справа налево? синий квадрат?

Сколько всего квадратов?

Которым по счёту будет зелёный кружок, если считать слева направо?





В лесной школе белочка и заяц начертили по одной фигуре каждый. Эти фигуры были разными.



не стал чертить



не стала

чертить



и



. Кто какую фигуру на-

чертил?



КАКОЕ
НЕРАВЕНСТВО
ПРОПУЩЕНО?

$$6 > 5$$

$$5 > 4$$

$$4 > 3$$

$$2 > 1$$

$$3 > 2$$



1 2 3 4 5 6 7



1

2

3

4


5

6


• 2

2 •

• 3



• Раскрась рисунок так, чтобы он подходил к записи.



$2 < 4$



$4 > 3$



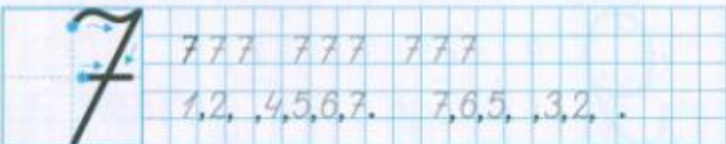
$3 < 5$



$4 = 4$



$5 - = 4$	$- 1 = 2$	$2 + 3 =$
$4 - = 3$	$- 1 = 1$	$5 + 2 =$



М.И. Моро С.И. Волкова

Математика

Рабочая тетрадь



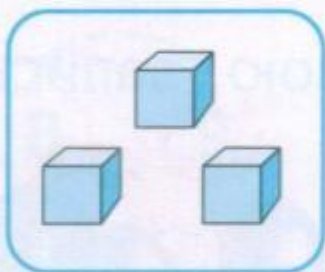


1

Часть 1



1 2 3 4 5 6 7



1

2

3

4

5

6



• 2

2 •

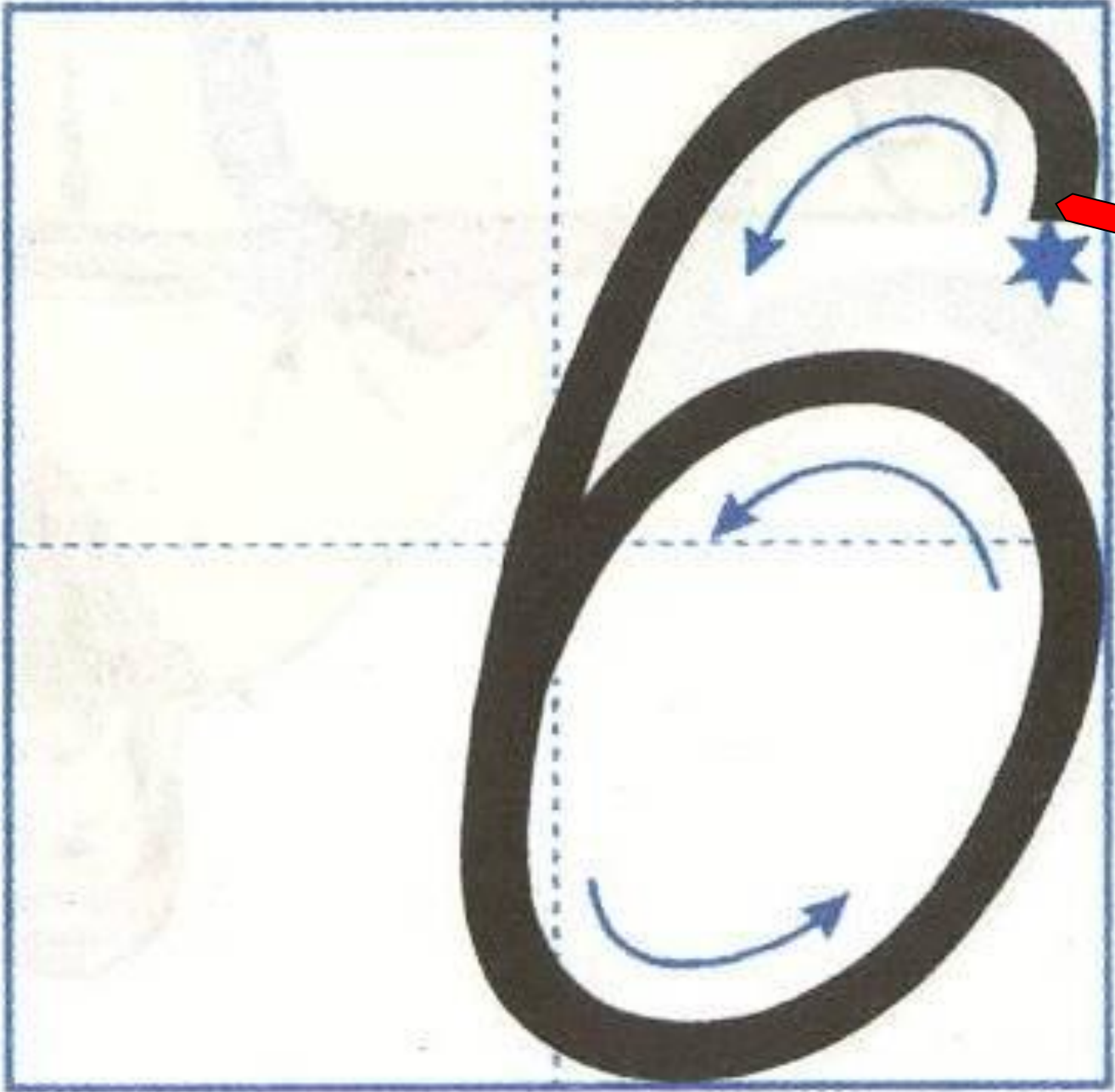
• 3

1 ————— 3

1 ————— 4



6





6 6 6

6 6 6


6 6 6





I





Молодцы!

