

Интегрированный урок  
по математике и  
окружающему миру  
во 2 классе  
на тему: « Что такое  
экономика? »



Учитель начальных классов  
МОУ СОШ №4 г.Нурлат РТ  
Галдина Ирина  
Владимировна

Тут затеи и задачи,  
Игры, шутки – всё для вас!  
Я желаю всем удачи –  
За работу, в добрый час!

5	15	2	11	8	9	12	7	17

$16 - 8 = \text{О}$

$4 + 8 = \text{И}$

$6 + 5 = \text{Н}$

$8 + 9 = \text{А}$

$12 - 7 = \text{Э}$

$15 - 6 = \text{М}$

$14 - 7 = \text{К}$

$11 - 9 = \text{О}$

$7 + 8 = \text{К}$

# Проверим:

5	15	2	11	8	9	12	7	17
Э	К	О	Н	О	М	И	К	А

$16 - 8 = 8$  **О**

$4 + 8 = 12$  **И**

$6 + 5 = 11$  **Н**

$8 + 9 = 17$  **А**

$12 - 7 = 5$  **Э**

$15 - 6 = 9$  **М**

$14 - 7 = 7$  **К**

$11 - 9 = 2$  **О**

$7 + 8 = 15$  **К**

**Экономика** – это отношения между людьми, которые у них складываются, когда одни создают товар, продают или покупают.

**Банк** – это место, где хранятся деньги, банкноты, где с ними происходят всякие банковские операции.

$$12 - (4 + 5)$$

$$8 + (15 - 8)$$

$$(10 + 6) - 7$$

$$5\text{м} * 5\text{дм}$$

$$6\text{дм} * 60\text{см}$$

$$1\text{дм} 8\text{см} * 20\text{см}$$

**К разности чисел 16 и 9  
прибавить 4.**

$$(16 - 9) + 4$$

**От суммы чисел 5 и 8 отнять 6.**

$$(5 + 8) - 6$$

**От 18 отнять сумму чисел 5 и 4.**

$$18 - (5 + 4)$$

У вас 15 рублей, что можно купить на

эти деньги. И сколько вы получите

– 50 коп.

КОМПОТ

– 1

чай

сдачи?

руб.



пицца

– 10 руб.

шокола

– 7

руб.



пирожок

– 4 руб.

чупа-чуп

– 2

руб.



ватрушка

– 5 руб.

булочка

– 3

руб.



За год **один житель** города Нурлат  
**сэкономит – 100 капель**



Получится – **небольшое озеро**





Сравните:

$$39 + 1 = \text{circle}$$

$$\text{circle} + 5 = \text{square}$$

$$\text{square} - 1 = \text{triangle}$$

$$\text{triangle} - 4 = ?$$





В древности вместо денег за товар расплачивались животными.

За 1кг соли покупатель должен был принести шкуру 2 животных.



=



А сколько кг соли можно было получить, если принести 8



?  
=



Жабы приносят большую пользу. Учёные подсчитали, что ежегодно прибыль фермерскому хозяйству **от 1 жабы** составляет **30 долларов**.



=



какую прибыль принесут **3 жабы**, живущие на фермерском участке?



= ?



Составьте и решите задачу:

Было – 15м ткани

Израсходовали – 6м и

4м

Осталось - ?



Составьте и решите задачи,  
обратные данной:

В одном – 10 машин

В другом – 9 машин

?

$$10 + 9 = 19 \text{ (м.)}$$

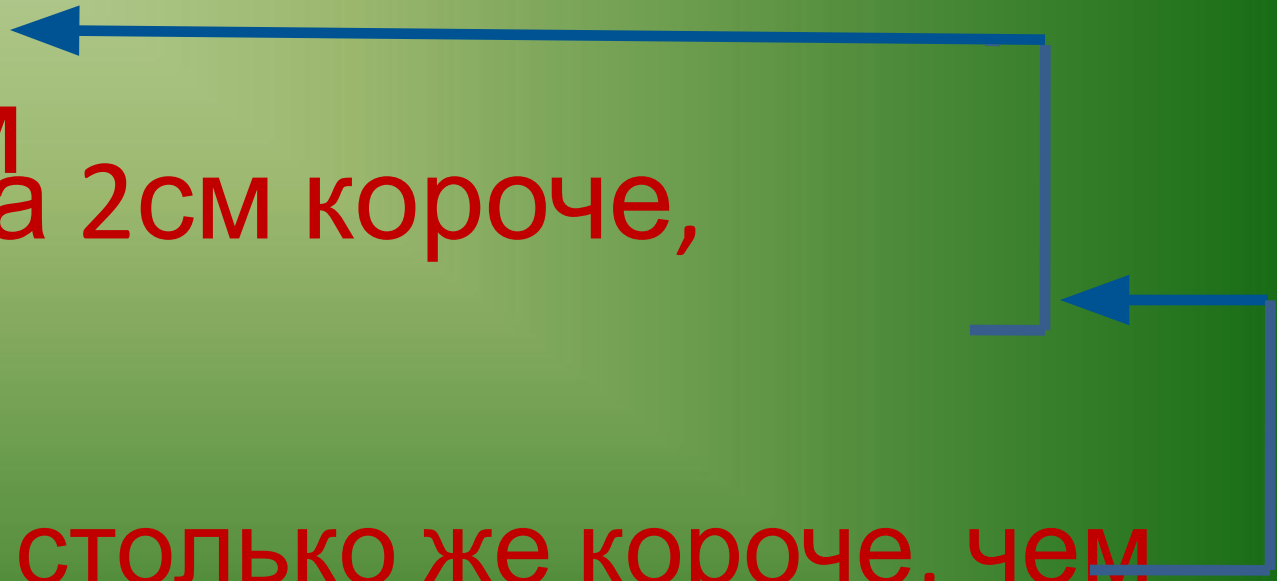


Ответ: всего 19 машин.

Какой путь самый короткий?

1 путь – 9 м  
2 путь - ?, на 2 см короче,  
чем

3 путь - ?, на столько же короче, чем



Домашнее задание:



Составить задачу на тему:  
«Экономика»

