



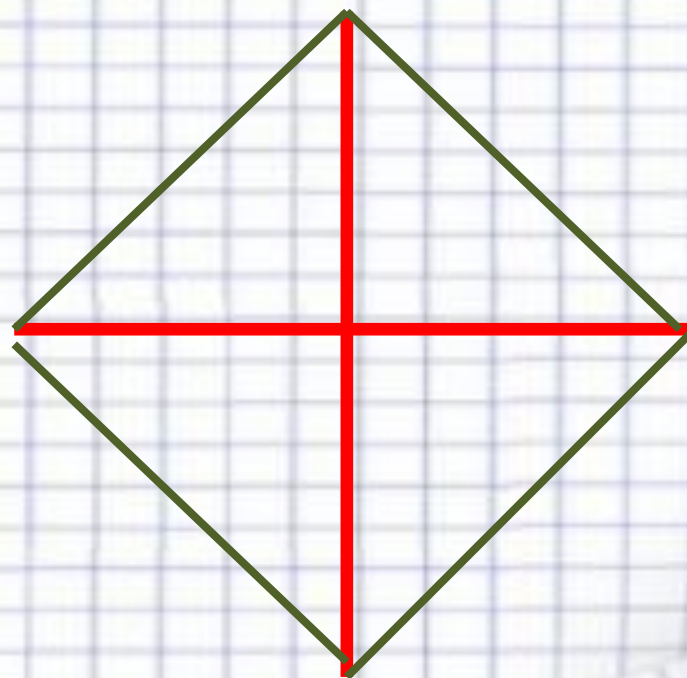
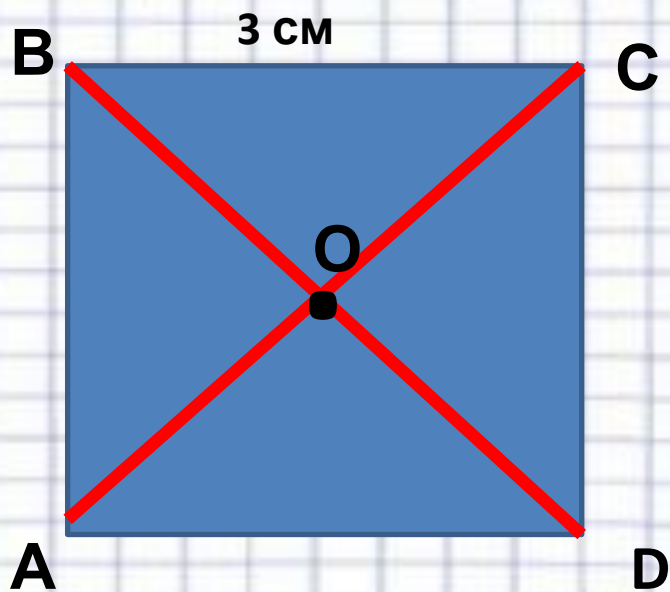
Диагонали квадрата

Королёва Ирина Николаевна
учитель начальных классов
МКОУ СОШ №2
г.Нефтекумск



Начерти квадрат со сторонами 3

CM





Стороны прямоугольника 7 см и 5 см. Найди площадь квадрата, если его периметр равен периметру данного прямоугольника.

?


7 см



5
см

$$P_{\text{пр}} = P_{\text{кв}}$$

S - ?



$$P_{\text{пр}} = (5+7) \cdot 2 = 24$$

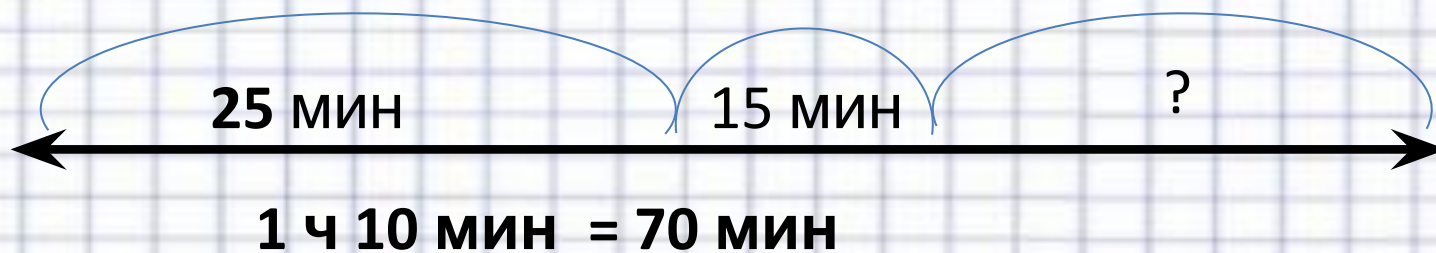
$$a_{\text{кв}} = 24 : 4 = 6 \text{ (см)}$$

$$S_{\text{кв}} = 6 \cdot 6 = 36 \text{ см}$$

2



С 17 №82



1) $25 + 15 = 40$ (МИН)

2) $70 - 40 = 30$ (МИН)

**Ответ: 30 минут он
возвращался.**



Из 100 метров сшили 10 палаток. Сколько палаток
сшьют из 150 м?

100 м



150 м



?



Самостоятельная работа в столбик

1-в

$693 : 3$

$217 \cdot 3$

$846 : 2$

$321 \cdot 3$

$324 : 9$

$536 + 184$

$632 : 8$

$832 - 675$

2-в

$824 : 4$

$323 \cdot 2$

$896 : 4$

$248 \cdot 2$

$434 : 7$

$409 - 271$

$816 : 2$

$340 + 284$