



# Дорожная безопасность

Материалы к занятиям по ПДД  
для учащихся 3 класса




# Почему дети попадают в дорожные аварии


Посмотри внимательно на картинки. Скажи, можно так делать, как мальчики и девочки, или нельзя. Как ты думаешь, в чём опасность их неправильного поведения?




1




2




3




4




5




6



7



8



9



10


# История появления автомобиля и правил дорожного движения




Конная повозка




Водитель.  
По-другому его называют шофёр, что в переводе с французского языка означает «кочегар»



Первый автомобиль с паровым двигателем



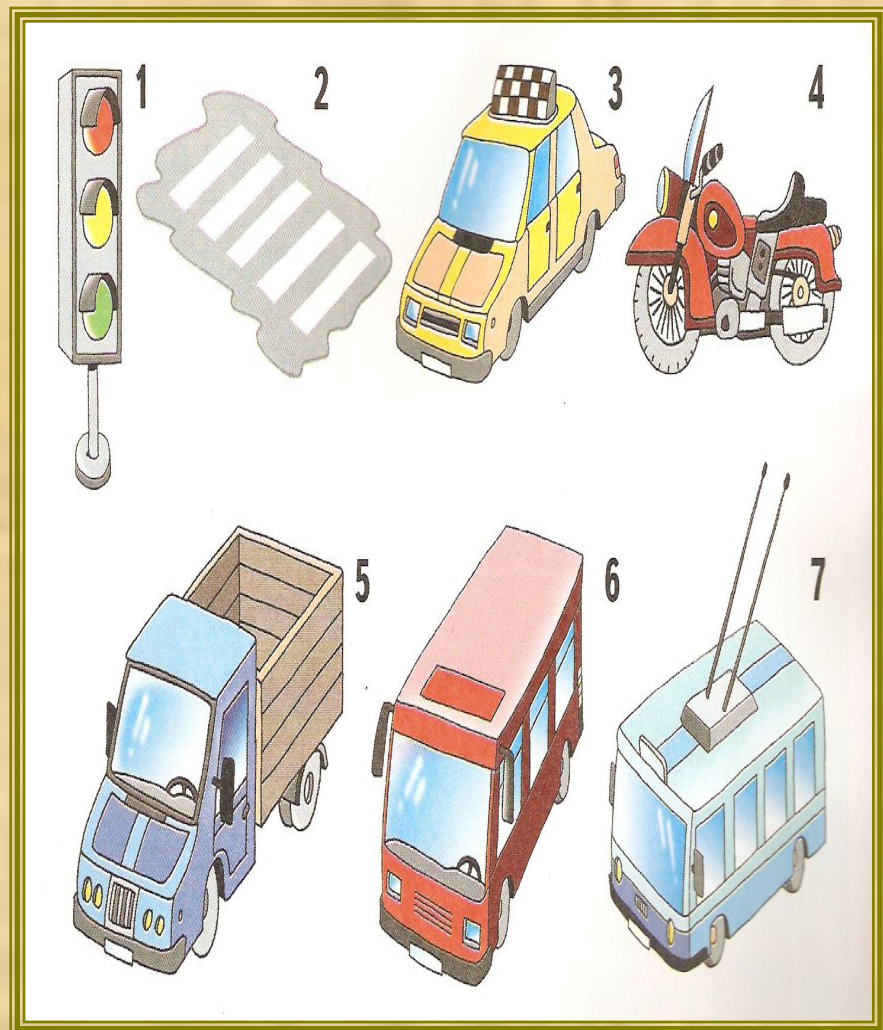
Первый автомобиль с бензиновым двигателем



Современный автомобиль



# Кроссворд




# Что такое ГИБДД и кто такой инспектор ДПС

**ГИБДД** — Государственная инспекция безопасности дорожного движения.

**ДПС** — дорожно-патрульная служба. Она входит в состав ГИБДД.

Это — инспектор ДПС. Жезлом и свистком он управляет движением транспорта и пешеходов.



А это патрульный автомобиль. На нём ездят работники ГИБДД и следят за порядком на дороге.




# Задание .Придумай рассказ по картинке.



**Инспектор ДПС — милиционер, друг и помощник детей.**

**Задание. Расскажи по картинкам, как мальчику и девочке правильно и безопасно перейти проезжую часть дороги. Как ты думаешь, куда надо смотреть при переходе дороги?**



- 1. Как надо переходить проезжую часть дороги по пешеходному переходу, если есть светофор?**
- 2. Как надо переходить проезжую часть дороги, если нет светофора?**
- 3. Как надо перейти проезжую часть дороги, если поблизости нет светофора и пешеходного перехода?**




**Задание. Найди на картинке нарушителей  
Правил дорожного движения. Расскажи,  
что дети-пешеходы делают неправильно.**






# НОВОЕ О СВЕТОФОРЕ



Первый светофор в России был в форме круга.  
Регулировщик поворачивал стрелку на нужный цвет






Светофор для пешеходов



Транспортный светофор

**Задание. Каким из этих машин разрешён проезд на красный сигнал светофора и навстречу движению транспорта?**




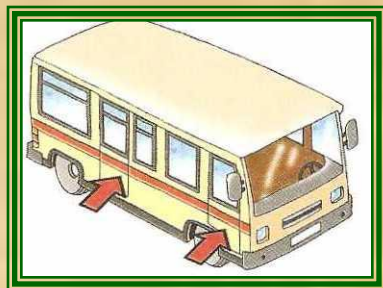

## **Контрольные вопросы**

1. Зачем нужен светофор?
2. Что означает жёлтый сигнал светофора?
3. Что означают «красный стоящий человечек» и «зелёный шагающий человечек» на светофорах для пешеходов?

# ПРАВИЛА БЕЗОПАСНОГО ПЕРЕХОДА УЛИЦ И ДОРОГ




Это правостороннее движение транспорта и пешеходов.




Стрелками показано, что у транспорта двери для пассажиров находятся с правой стороны.



**Задание. Как ты думаешь, какая опасность подстерегает мальчиков и девочек? Расскажи, как бы ты поступил на их месте.**



1




2



3




4



5

**Задание. Покажи на картинке стрелками, как мальчику с папой попасть в магазин, как они должны идти по краю проезжей части загородной дороги, если нет тротуара, пешеходной дорожки и обочины.**



**Задание. Подумай, как девочка должна перейти на другую сторону дороги, чтобы сесть в автобус. Куда она должна смотреть? Как она пойдёт: прямо или наискосок?**





**Задание. Как ты думаешь, почему у мальчика и водителей такие удивлённые лица? Что здесь происходит? Можно или нельзя таким образом переходить дорогу? Как бы ты перешёл эту дорогу?**





# Новое об улицах, дорогах и дорожных знаках



**Двустороннее движение —**  
когда одни машины едут в одном направлении, а другие — в противоположном.



**Одностороннее движение —**  
когда транспорт едет только в одном направлении.



Задание .Вспомни, как называется часть дороги, по которой движется транспорт.

## **Задание 2**

где дети младше 14 лет могут ездить на велосипеде.

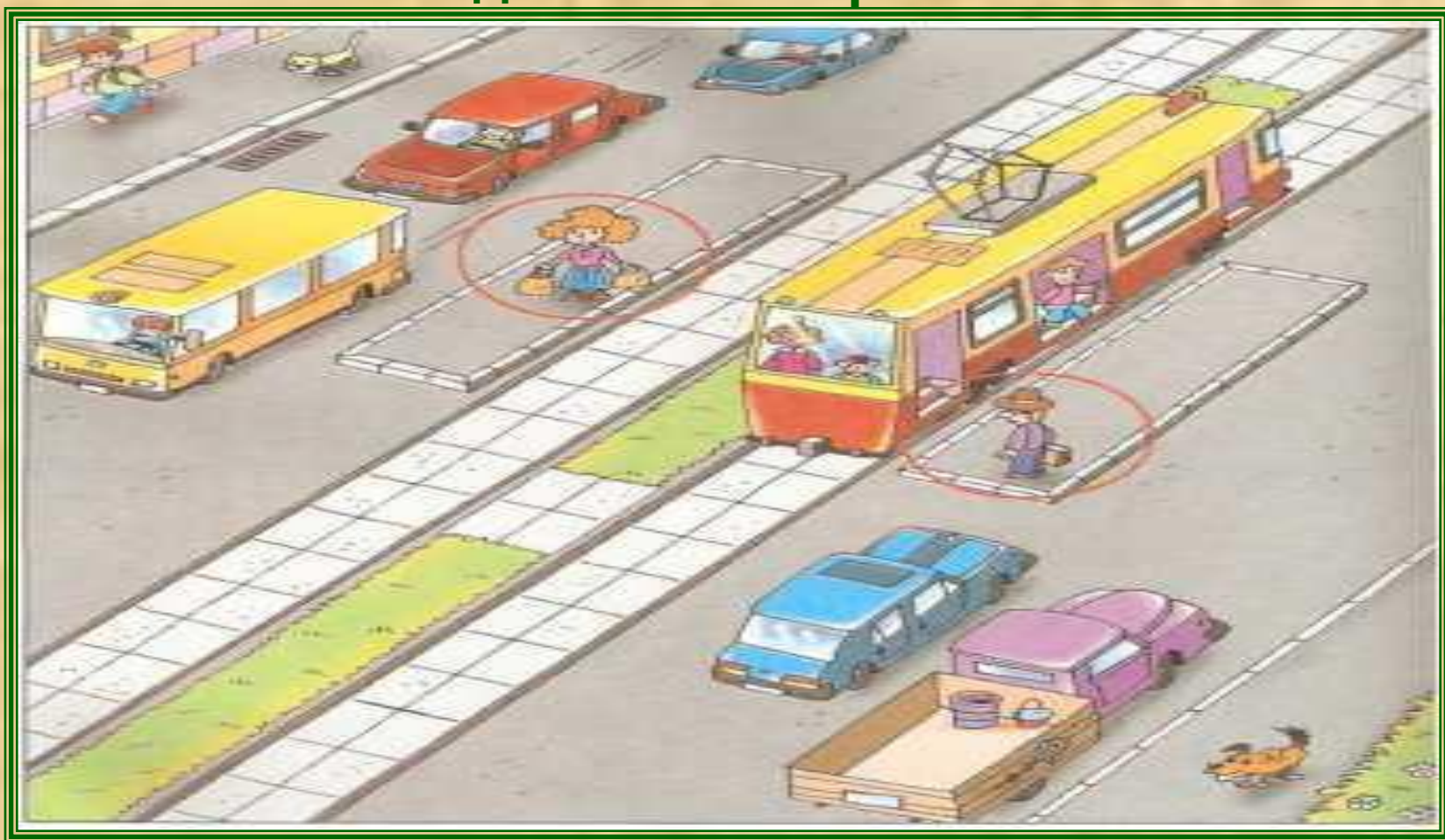
1.

2.

3.

4.

**Задание .Пешеходы вышли из трамвая, стоят на посадочных площадках и думают как перейти на противоположную сторону дороги с двусторонним движением и трамвайными путями. Расскажи, как это сделать и куда он должны смотреть?**






# Задание. Изучи новые дорожные знаки и повтори те, которые ты уже знаешь.



**Движение  
пешеходов  
запрещено**



**Движение  
на велосипеде  
запрещено**



**Въезд  
запрещен**



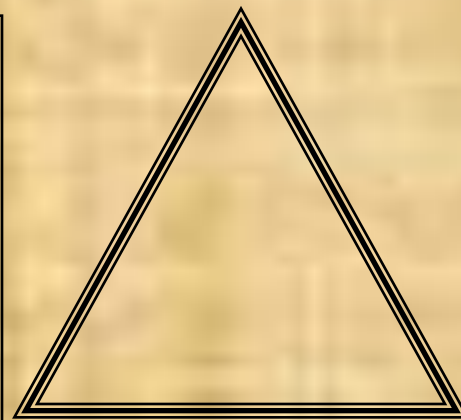
**Дети**

На рисунках изображены три запрещающих знака и один предупреждающий «Дети». Посмотри внимательно на знаки и найди в них общее.

## Контрольные вопросы

1. Зачем нужны дорожные знаки?
2. Какого цвета ободок на запрещающих дорожных знаках?

# Задание. Нарисуй и раскрась дорожные знаки, которые ты знаешь.



**Пешеходный  
переход  
(знак для  
пешеходов)**

**Надземный  
пешеходный  
переход**


**Подземный  
пешеходный  
переход**

**Пешеходный  
переход (знак  
для водителей)**



# ПРАВИЛА ПЕРЕХОДА ПЕРЕКРЁСТКА

**Перекрёсток** — это место (участок дороги), где пересекаются пути транспорта и пешеходов.



А это нерегулируемый перекрёсток.

Движением на нём никто не управляет. Поэтому надо быть очень осторожным.


Это регулируемый, то есть управляемый, перекрёсток.

Движением пешеходов и транспорта управляют светофоры.






Задание. Расскажи, как мальчик с папой должны перейти дорогу на регулируемом перекрёстке.






Расскажи, чем отличается эта картинка от первой. В чём опасность перехода нерегулируемого перекрёстка?

Как девочка с мамой должны перейти дорогу?



# Мы — пассажиры

Это – общественный транспорт.





Это салон автомобиля. Определи где не должен сидеть ребенок младше 12 лет, а где он может сидеть?





**Задание. Представь, что мальчик оказался один без взрослых на посадочной площадке. Ему нужно перейти дорогу и выйти к своему дому (указан внизу красной стрелкой). Помоги ему, обозначь стрелками наиболее безопасный путь.**



### **Контрольные вопросы**

- 1. Какой транспорт называется общественным?**
- 2. Как надо себя вести в общественном транспорте?**
- 3. Как правильно переходить дорогу после высадки из общественного транспорта?**

# Контрольные вопросы

1. Можно ли выходить на улицу и дорогу между машинами, стоят у дороги?
  2. На какой сигнал светофора можно переходить дорогу?
  3. Что такое ГИБДД и ДПС?
  4. Как выглядят светофоры для пешеходов и транспортные светофоры?
  5. Чем двустороннее движение транспорта отличается от одностороннего?
  6. Как правильно переходить дорогу по пешеходному переходу?
  7. Как называется часть дороги, по которой движется транспорт?
  8. Зачем нужны дорожные знаки?
  9. Что такое перекрёсток?
  0. Как правильно переходить регулируемый и нерегулируемый перекрёстки?
- 
1. Что такое общественный транспорт?
  2. Как правильно идти со взрослыми по краю проезжей части до если нет тротуара, пешеходной дорожки или обочины?