

СВОЯ ИГРА

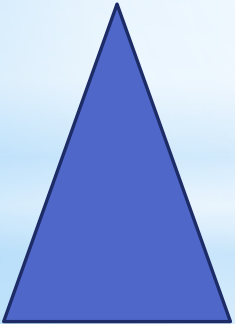
Игра по математике для 1 класса
Рус Юнна Stanisлавовна, учитель MAOY Гимназия
г. Чайковский, Пермский край

ЗАДАЧИ	<u>1</u>	<u>2</u>	<u>3</u>	<u>4</u>	<u>5</u>
ПРИМЕРЫ	<u>1</u>	<u>2</u>	<u>3</u>	<u>4</u>	<u>5</u>
РЕБУСЫ	<u>1</u>	<u>2</u>	<u>3</u>	<u>4</u>	<u>5</u>
ЛОГИКА	<u>1</u>	<u>2</u>	<u>3</u>	<u>4</u>	<u>5</u>
СОСТАВ ЧИСЛА	<u>1</u>	<u>2</u>	<u>3</u>	<u>4</u>	<u>5</u>
ФИЗКУЛЬТ - МИНУТКА	<u>1</u>	<u>2</u>	<u>3</u>	<u>4</u>	<u>5</u>


* Ване сейчас 12 лет.
Сколько лет ему будет
через 5 лет?



* На площадке играло 6 мальчиков и 10 девочек. Сколько всего детей играло на площадке?




* Стол накрыли к празднику на 12 персон, а пришли 10 человек. Сколько на столе лишних приборов, которые необходимо убрать?




* В гараже стояло 18 машин. Из них 12 легковых, а остальные - грузовые. Сколько грузовых машин стояло в гараже?




* После того как мальчик истратил на покупку конфет 9 рублей, у него осталось еще 11 рублей. Сколько денег было у мальчика первоначально?



$$*4 - 3 =$$




$$*1 + 4 =$$



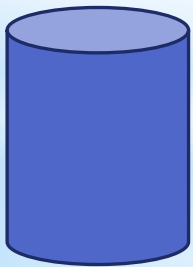
$$*6 + 5 =$$



$$*3 + 5 =$$



$$*19 + 8 =$$






H = B

7

R



k

Б = М



”

~~КОСТЬ~~ ,
И



И=а

*Бабушка связала Нине две пары носков. Сколько носков связала бабушка Нине?



* Какое число самое
маленькое?



* У Толи 2 пары варежек.
Сколько варежек на левую
руку?



* На кусте утром было 8
бутонов. К середине дня
все бутоны распустились и
стали красивыми розами.
Сколько бутонов осталось
на этом кусте
нераскрытыми?



* На кусте утром было 8
бутонов. К середине дня
все бутоны распустились и
стали красивыми розами.
Сколько бутонов осталось
на этом кусте
нераскрытыми?



* Вставь пропущенное
число:

* $4 = 3 +$

* 1

* 2

* 3




* Вставь пропущенное
число:

* $6 = 3 +$

* 2

* 3

* 4




* Вставь пропущенное
число:

* $7 = 3 +$

* 3

* 4

* 5




* Вставь пропущенные
числа:

* $7 = 2 +$

* 2

* 3

* 5



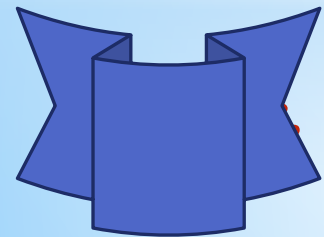
* Вставь пропущенные
числа:

* $8 = 3 +$

* 2

* 4

5




КОТ В
МЕШКЕ



СМЕШАРИКИ

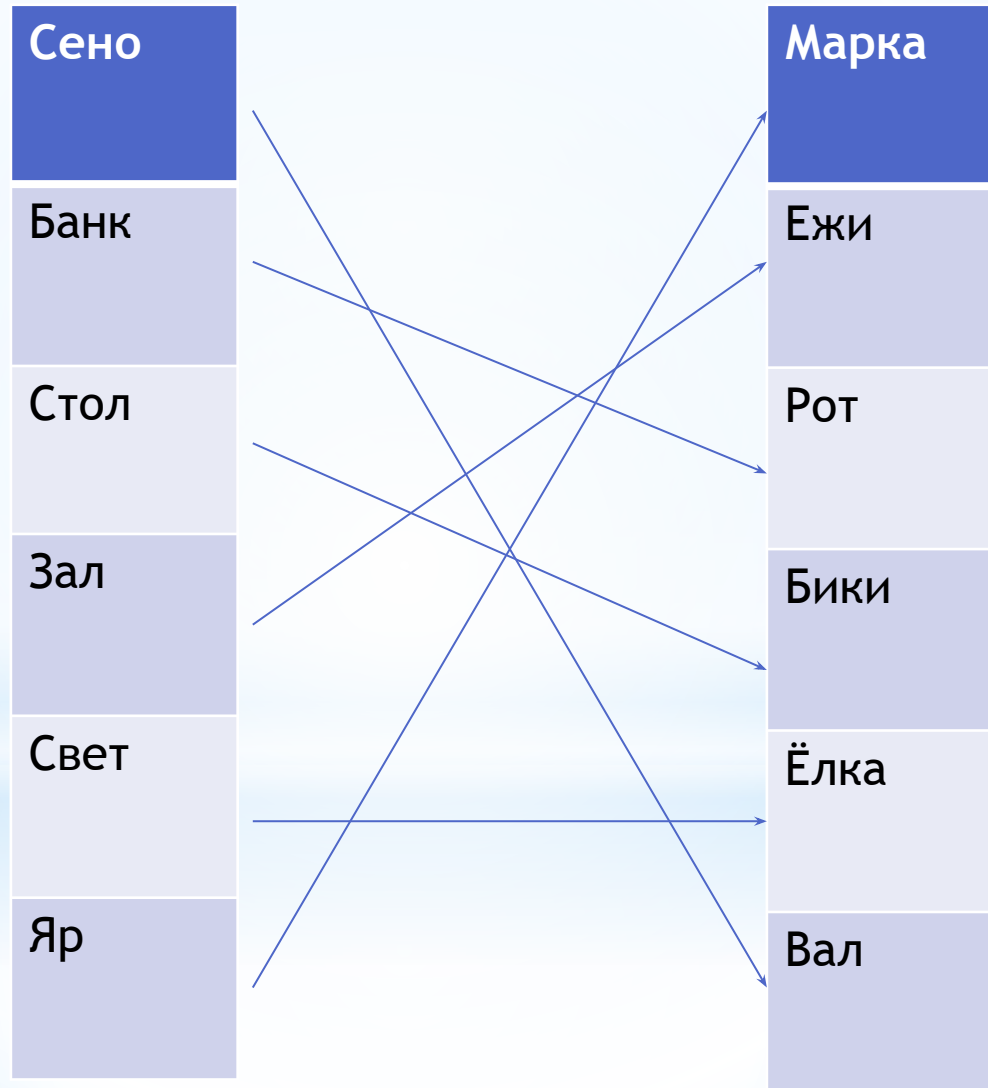
www.smesharki.ru







Соедини слова правого и левого столбиков так, чтобы получились новые слова.



* Мы сейчас выдадим каждой команде по, вы должны составить :

* 3 круга

* 1 треугольнику

* 3 квадрата

* 5 прямоугольников



* **Труд**

* Непоседа, который укатился от бабушки и дедушки:

а) колобок

б) мяч

в) клубок

г) колесо



* Источники:

- * http://pixelbrush.ru/uploads/posts/2013-09/1378281047_05.jpg
- * http://st03.kakprosto.ru//images/article/2014/4/14/1_53649a6251bfa53649a6251c33.jpg
- * <http://luntiki.ru/uploads/images/9/c/9/b/5/01eb5b7252.jpg>
- * http://thumb7.shutterstock.com/photos/thumb_large/1069403/169857359.jpg
- * http://www.8lap.ru/upload/resize_cache/iblock/663/341_341_2/663cca962459cc288a6ffbe588e306.jpg
- * http://www.neimanmarcus.com/ca/10/product_assets/D/0/Y/G/V/NMD0YGV_bk.jpg
- * <http://www.websmi.by/wp-content/uploads/2011/12/kinopoisk.ru-Snow-White-and-the-Seven-Dwarfs-9922656-300x225.jpg>
- * <http://cartoons.kartinki-i-oboι.ru/user-content/uploads/wall/thumb/59/184357.jpg>
- * <http://wallpaperforcomputer.net/uploads/posts/20130904/movies/madagascar-hd-wallpapers.jpg>



 СПАСИБО ЗА
ВНИМАНИЕ!!!