


Математика 1 класс  
Сложение чисел с переходом  
через десяток в пределах 20



# Игра-тренажёр «Собери бананы»



Анатольева Эльвира Васильевна  
учитель начальных классов  
МБОУ «Среднекибечская СОШ»  
Канашского района ЧР



Правила  
а  
игры

# Правила игры



$7+4$



$9+2$



$6+5$




$8+3$

- Реши пример.
- Выбери правильный ответ.
- Если ты ошибся, то банан исчезнет.
- Если ответил верно, то банан достанется обезьяне.
- Кнопка для перехода к следующему заданию



Начать  
игру



Найди бананы  
с ответом 11



$$7+4$$




$$6+5$$



$$8+6$$





Найди бананы  
с ответом 11



$$9+2$$




$$6+6$$




$$7+4$$





Найди бананы  
с ответом 12



$$7+5$$




$$6+6$$




$$9+2$$





Найди бананы  
с ответом 12



$$9+3$$




$$7+6$$




$$8+4$$





Найди бананы  
с ответом 13



$$9+3$$




$$9+4$$




$$8+5$$





Найди бананы  
с ответом 13



$$7+6$$




$$8+4$$




$$9+4$$







Найди бананы  
с ответом 14



$$9+5$$




$$8+6$$




$$7+6$$





Найди бананы  
с ответом 14



$$7+7$$




$$9+4$$




$$8+6$$





Найди бананы  
с ответом 15



$$7+6$$




$$9+6$$




$$8+7$$





Найди бананы  
с ответом 16



$$9+7$$




$$7+8$$




$$8+8$$





Найди бананы  
с ответом 17



$$9+8$$




$$7+8$$




$$8+9$$





Найди бананы  
с ответом 18



$$7+8$$




$$9+9$$



$$8+10$$





Спасибо!



# ИСТОЧНИКИ

[http://img-fotki.yandex.ru/get/5504/svetlera.3e/0\\_506ef\\_b5ef876\\_S](http://img-fotki.yandex.ru/get/5504/svetlera.3e/0_506ef_b5ef876_S) обезьяна

<http://antalpiti.ru/files/99604/fruits.png>  
банан

<http://www.lenagold.ru/fon/clipart/sh/shar/raz/krug28.jpg> кнопка