

Работа выполнена в рамках Мастер-класса
«Интерактивная раскраска в программе Microsoft
Office Power Point» на сайте [«Копилочка»](#).
Зачётная работа № 3

Нюшины задачи

Математика, 2 класс



Автор работы:
заместитель директора по УВР
МБОУ СОШ № 2
г. Гагарина Смоленской области
Наталья Николаевна Покровка



Друзья!

Предлагаю Вам вместе со мной решить задачи.

Если Вы ответите правильно, картинка раскрасится.

Удачи!





Бурёнку холили, поили -
Два раза за день подоили.
Вместились еле в три
горшка
Шестнадцать литров
молока.

Было на два литра
в первый раз
Удой весомее у нас.
Теперь скажите вы, какой
У нас вечерний был удой?



5

6

7

8

9



На скамейке ели груши.

Наш Андрюша, будь
здоров!

Съел он сразу пять
плодов.

А его сестричка Стелла
Лишь три груши одолела.

А Андрюша, с Таней
разом,

Съели больше их в три
раза,

Чем малюсенькая Стелла.

Сколько груш Танюша
съела?



4

5

6

7

8



Играли мальчики в футбол.

Забил сначала Петя гол,
Два гола забил Серёжа,
Дима отличился тоже:
Вдвое больше он забил,
Чем Петя и Серёжа.
А Стасик в воротах стоял.
Сколько мячей он не поймал?




5

6

7

8

9



На катке катались дети:
Маша, Ира, Юля, Петя.
К ним спешат ещё ребята-
Вова с Игорем - два брата.
Чтобы в танце
закружиться,
Надо в пары становиться.
Сосчитай-ка всех скорей
И на пары их разбей!




1

2

3

4

5



В лес за грибами папа
ходил,
Еле корзинку домой
притащил:
Шестнадцать лисичек,
восемь маслят,
Три сыроежки,
двадцать опят,
Один боровик да десять
груздей. Сколько грибов?
Посчитайте скорей!



50

52

53

58

59



У Андрюши были груши,
Поделиться он с Танюшей-
Разделил их пополам:
Сам съел две и Тане дал.
Сколько груш было у
Андрюши?



4

5

6

7

8



За ночь, в разных
закоулках,
Шесть мышей поймала
Мурка.
А ленивый Васька-кот -
Вполовину меньше.
Вот.
А добыча у котенка -
Два малюсеньких
мышонка.
Посчитайте поскорей
Ими пойманных мышей.



10

11

12

13

14



Было утром у Иринки
Двадцать персиков в
корзинке.

Но потом пришли друзья:
Таня, Света и Илья.
На скамейке посидели -
Вместе персики все
съели.

Я услышать бы хотел -
Сколько фруктов каждый
съел?



1

2

3

4

5

Достался было двум
мышам

Кусочек сыра на сто
грамм.

За сколько дней,
скажи, дружок,
Норушки съели тот
кусочек?

Когда одна, известно нам,
Съедала за день по шесть
грамм. Второй,- не много и
не мало,-

И четырех всегда хватало.



10

11

12

13

14



Много шариков
прекрасных
Есть у Вити:
Четверть красных,
Половина голубых,
Пять зеленых -
Остальных.
Посчитайте и скажите,
Сколько шариков у Вити?



15

16

17

19

20



Пригласила наша Тая
Трех подруг отведать чая.
Чая выпили подружки,
Вместе с Таей, по две
кружки.

С кружкой чая, как одна,-
Съели все по два блина.
Сколько, кто сказать готов,
Съели всех они блинов?




15

16

17

19

20



До чего вкусны блины!
По три штуки съели мы:
Папа, мама, брат, сестра,
Наша бабушка и я.
Сколько съели
мы блинов?




15

16

17

18

19



Пров Петров да Комаров
Со дворов из Хуторов
Меж паров да клеверов,
Через луг, здоровый ров
Провели к реке коров.

Сколько,
Кто сказать готов,
В тексте спряталось
Всех ровов?



10

11

12

13

14



За неделю плотник Фока
Сделал три оконных
блока.

Если б только захотел -
Больше б сделать не
успел.

Сколько,
Кто ответит мне,
Сделал он их
В феврале?



10

11

12

13

14



Дарит бабушка лисица
Трёх внучатам рукавицы:
"Это вам на зиму, внуки,
рукавичек по две штуки.
Берегите, не теряйте,
Сколько всех,
пересчитайте!"



5

6

7

8

9

Источники:



Фон
Корова
Стрелка
Кошки
Мышки
Шары
Блины
Нюша
Лисята
Футбол

Дети на катке
Звуковые файлы
записаны и
обработаны в
программе Audacity

Рисунок на 4 слайде
Рисунок на 7 слайде
Рисунок на 8 слайде
Рисунок на 10 слайде
Рисунок на 13 слайде
Рисунок на 15 слайде
Рисунок на 16 слайде
Математические
задачи в стихах
Математические
задачи в стихах
Задачи в стихах

