



Итоговый тест по математике за 2 класс (УМК «Школа России»)



Стрельцова Ирина Михайловна
учитель МКОУ «СШ №1»
г. Ефремов
Тульская область

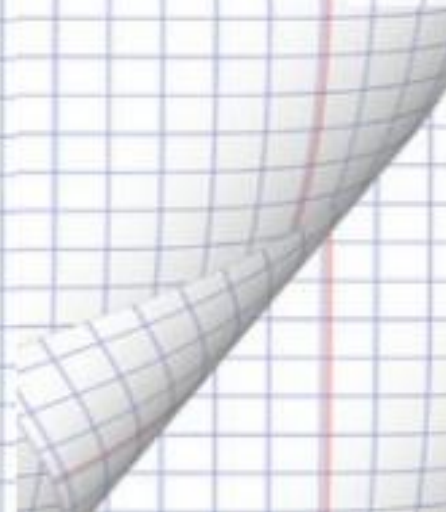


Найди значение выражения
 $95 - (32 - 17)$

1) 46

2) 70

3) 80





**Решением какого выражения
является число 88?**

1) $74 - (29 + 15)$

2) $(74 - 29) - 15$

3) $74 + (29 - 15)$





**В какой паре выражений значения
одинаковые?**

1) $3 \cdot 7$ и $2 \cdot 8$

2) $2 \cdot 9$ и $6 \cdot 3$

3) $8 \cdot 3$ и $3 \cdot 7$






Реши задачу.

В детский сад привезли 3 коробки печенья по 9 кг в каждой. Сколько килограммов печенья привезли в детский сад?

1) $9 \cdot 3 = 27$ (кг)

2) $9 + 3 = 12$ (кг)

3) $9 : 3 = 3$ (кг)





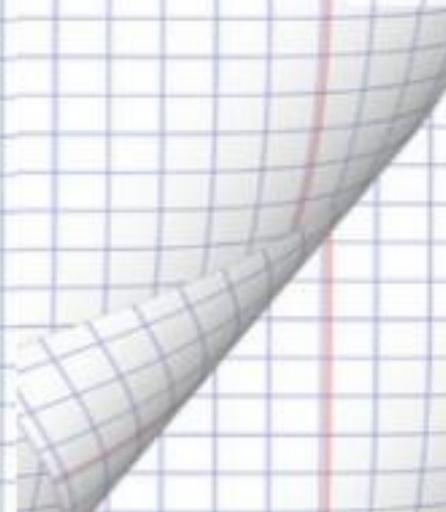
Реши задачу.

При сборе урожая 10 кг картофеля разложили в 2 мешка поровну. Сколько килограммов картофеля в каждом мешке?

1) $10 - 2 = 8$ (кг)

2) $10 : 2 = 5$ (кг)

3) $10 \cdot 2 = 20$ (кг)





Найди периметр прямоугольника со сторонами 3 см и 2 см.

1) 6 см

2) 5 см

3) 8 см






**Решением какого уравнения
является число 18?**

1) $X - 18 = 35$

2) $17 + X = 36$

3) $24 + X = 42$





Найди значение выражения.

Разность чисел 61 и 37 разделить на 3.



- 1) 6
- 2) 8
- 3) 7




**В какой паре выражений
значения одинаковые?**

1) $(51 - 33) : 6$ и $(90 - 87) \cdot 0$

2) $21 : 7 \cdot 4$ и $18 : 6 \cdot 3$

3) $71 - (4 \cdot 3)$ и $47 + 6 \cdot 2$





Выбери решение задачи.

Папа купил 3 пакета картофеля по 5 кг в каждом и 1 кг соли. Сколько килограммов продуктов купил папа?

1) $5 \cdot 3 + 1$

2) $3 + 5 + 1$

3) $3 \cdot 5 + 5$






**В каком неравенстве должен
стоять знак «<>»?**

1) $37 \text{ дм} \dots 3 \text{ дм } 7 \text{ см}$

2) $8 \text{ дм} \dots 73 \text{ см}$

3) $7 \text{ см } 9 \text{ мм} \dots 1 \text{ дм}$





**Найди периметр квадрата
со стороной 2 см.**

1) $2 + 4 = 6$ (см)

2) $2 \cdot 4 = 8$ (см)

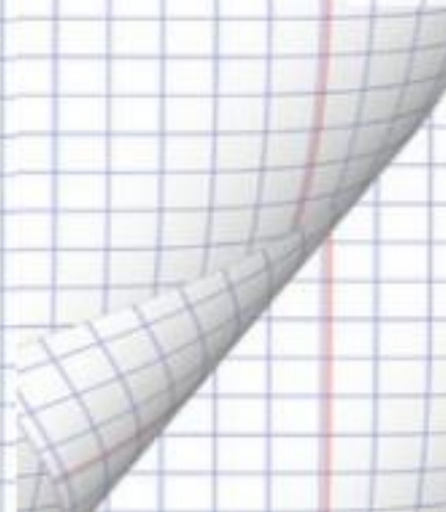
3) $(2 + 2) \cdot 4 = 16$ (см)





Проверь себя:

- 1) 3
- 2) 3
- 3) 2
- 4) 1
- 5) 2
- 6) 1
- 7) 3
- 8) 2
- 9) 3
- 10) 1
- 11) 3
- 12) 2





Источники:

- Шаблон: Стрельцова Ирина Михайловна, учитель начальных классов МКОУ «СОШ №1»
- Фон: <http://need4soft.ru/kartinki-dlya-prezentacij.html>
- Колокольчик: <http://www.pics-land.ru/picture.php?id=20138>

Котенок: <http://allforchildren.ru/pictures/school21.php>

Математика: 2 класс/Сост. Т.Н.Ситникова. – 3-е изд., перераб. – М.: ВАКО, 2012. – 96 с. – (Контрольно-измерительные материалы).

