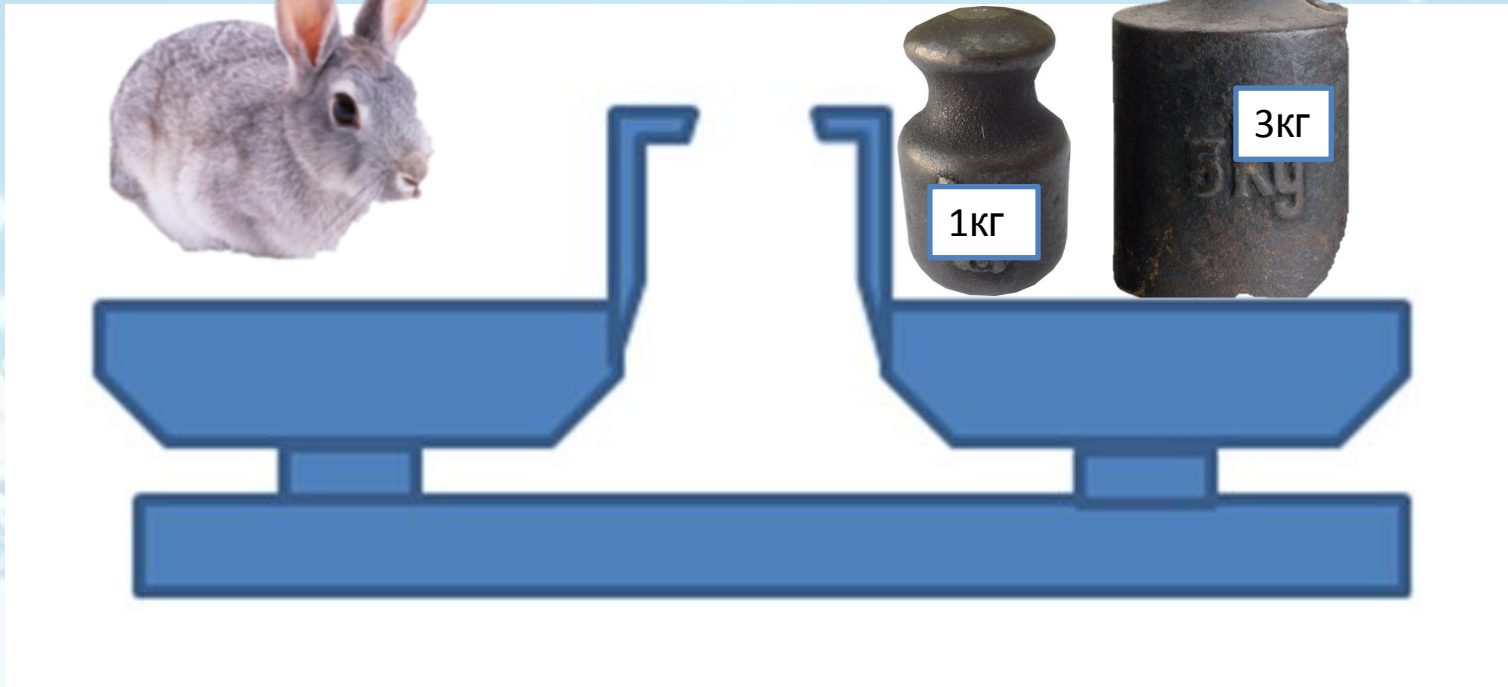




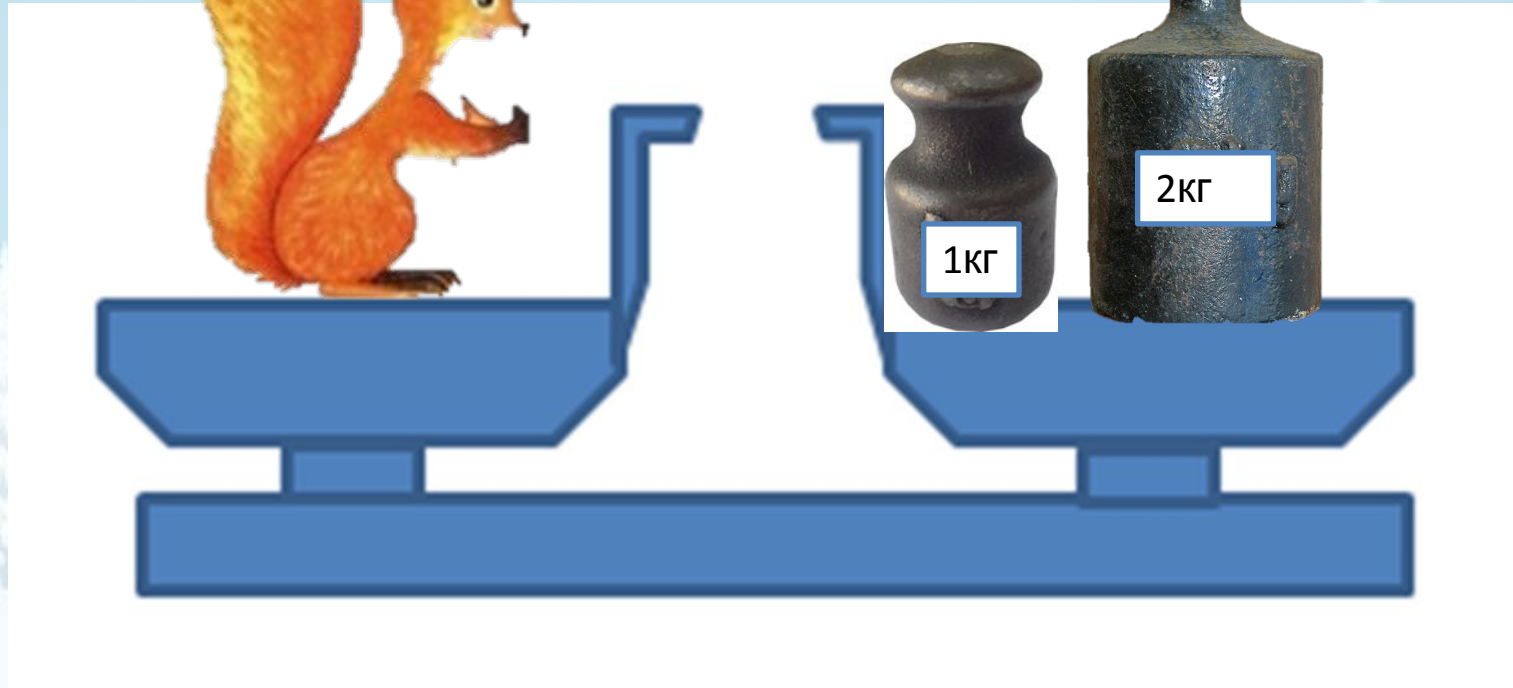
Масса предметов. 1 класс

«Гармония»

Учитель начальных классов
МБОУ СОШ №14 г. Бaley
Забайкальский край
Чередниченко Валентина
Ивановна

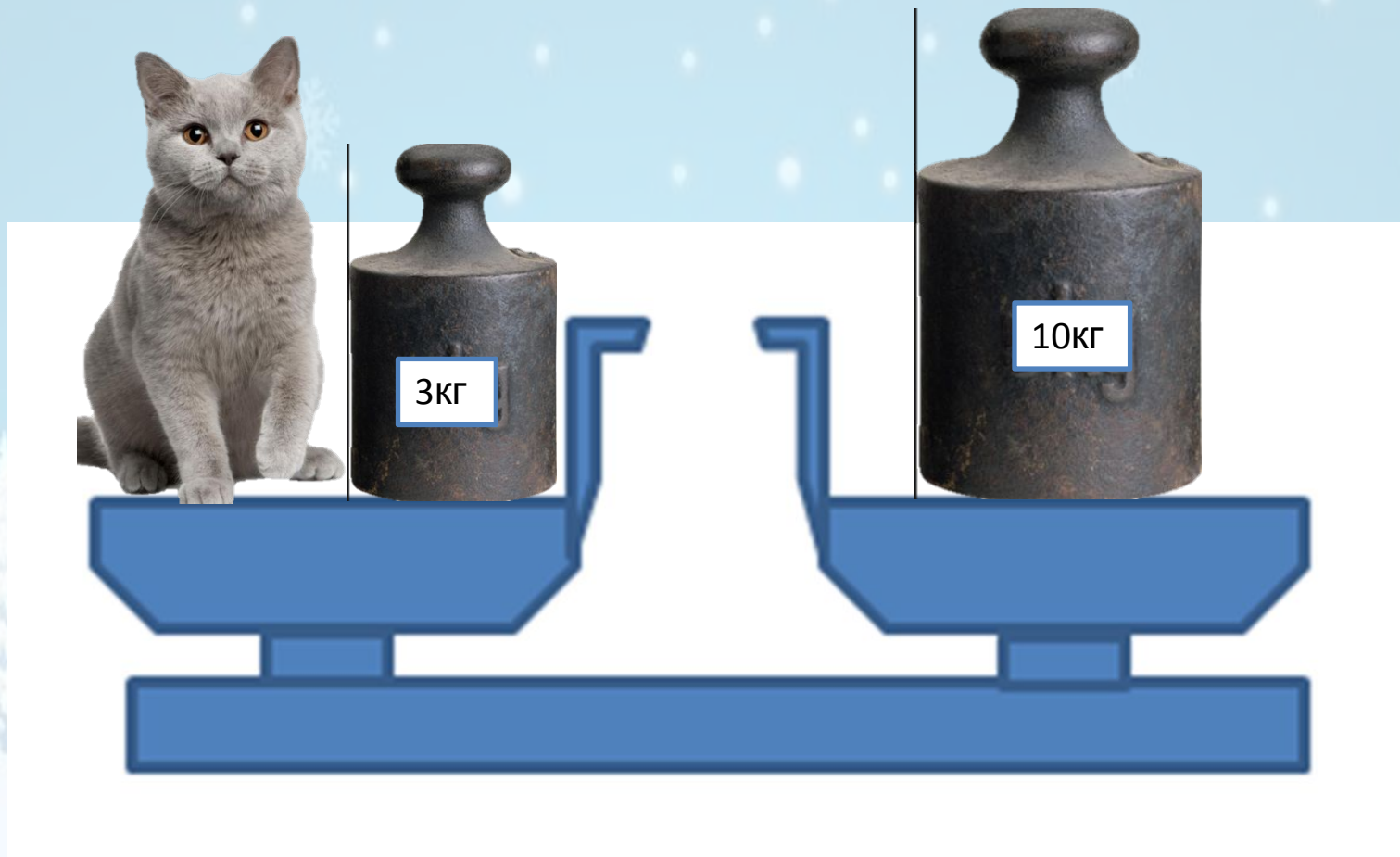


Какова масса кролика?



Какова масса белки?

Кто тяжелее заяц или белка?




Какова масса кота?



Какова масса собаки?

У кого масса меньше: у собаки или у кота?



У кого масса больше: у зайца или у белки?


10кг

A

M

Какую массу обозначает отрезок
AM ?

Какова масса арбуза?







Задание 280. Какова масса каждого мешка с мукой?



1) _____ 2) _____ 3) _____

Рефлексия урока



1

У меня всё
получилось!



2

Не всё получилось,
но я старался.



Не старался, **3**

Много не получилось

Использованы ресурсы:

- http://nnm.ru/blogs/tigerrr/zimnie_vektornye_fony/
- <http://900igr.net/fotografii/pedagogika/Nachalnaja-shkola-Garmonija/023-Obuchenie-gramote.html>
- <http://fotohomka.ru/images/Jan/09/ed18208bcaeb7ef2760854701c939080/1.jpg> - картинка зайца
- <http://krasivye-zhivotnye.ru/images2/zhivotnye105.png> - картинка собаки
- <http://www.vetagri.pl/public/assets/produkty/kot1.jpg> - картинка кота
- http://womanadvice.ru/sites/default/files/kak_narisovat_belku_2.jpg - картинка белки
- <http://www.coollady.ru/pic/0004/016/14.jpg> - картинка гири для весов
- http://www.profan.su/pic/001/011/24_1.jpg - картинка арбуз
- http://obodrenie.info/wp-content/uploads/2014/06/dd34e32172fe0202ef287e574244e1d2_L.jpg - весы
- http://cor.edu.27.ru/dlrstore/519fbf62-f8fe-4037-8256-29538178978a/ur24/z24_1_files/arbuзу3.jfif - арбуз на весах

Автор шаблона
Коровина Ирина Николаевна
учитель начальных классов
МБОУ «СОШ №9» г.Сафоново Смоленской области