

# Математический

КВН



# Команды и девизы

Круг



Квадрат





# Обращение к жюри!



# Разминка «Круг»

- \* Назовите последний месяц года?
- \* Сколько дней в недели? Назови их?
- \* Назовите соседей числа 9 ?
- \* На дереве сидели воробьи. После того, как к ним ещё прилетели 2, их стало 4. Сколько воробьёв стал на дереве?







**Декабрь**



**СРЕДА**

**ЧЕТВЕРГ**

**ПЯТНИЦА**

**ВТОРНИК**


**СУББОТА**

**ПОНЕДЕЛЬНИК**

**ВОСКРЕСЕНЬЕ**



Назови соседей числа 9.










# Разминка «Квадрат»

- \* Сколько месяцев в году? Назовите их?
- \* Какие части суток вы знаете?
- \* Назовите соседей числа 7?
- \* Пять ворон на крышу сели, 2 ещё к ним прилетели. Ответьте быстро, смело: сколько всех их прилетело?








утро



день




ночь



вечер

Назовите соседей числа **7**.









**« НЕ  
ОШИБИСЬ»**

<b>5</b>	<b>8</b>
<b>3</b>	<b>5</b>
<b>6</b>	<b>6</b>
<b>7</b>	<b>4</b>
<b>4</b>	<b>0</b>
<b>1</b>	<b>7</b>
<b>9</b>	<b>6</b>
<b>4</b>	<b>4</b>
<b>2</b>	<b>3</b>
<b>10</b>	<b>9</b>
<b>4</b>	<b>2</b>
<b>0</b>	<b>1</b>
<b>1</b>	<b>3</b>

**« НЕ ОШИБИСЬ»**

<b>5</b>	<b>6</b>
<b>3</b>	<b>1</b>
<b>6</b>	<b>8</b>
<b>7</b>	<b>1</b>
<b>6</b>	<b>0</b>
<b>2</b>	<b>2</b>
<b>9</b>	<b>6</b>
<b>8</b>	<b>8</b>
<b>1</b>	<b>5</b>
<b>10</b>	<b>9</b>
<b>9</b>	<b>2</b>
<b>0</b>	<b>2</b>
<b>7</b>	<b>3</b>



# « НЕ ОШИБИСЬ »

5 < 8  
3 < 5  
6 = 6  
7 > 4  
4 > 0  
1 < 7  
9 > 6  
4 = 4  
2 < 3  
10 > 9  
4 > 2  
0 < 1  
1 < 3

# « НЕ ОШИБИСЬ »

5 < 6  
3 > 1  
6 < 8  
7 > 1  
6 > 0  
2 = 2  
9 > 6  
8 = 8  
1 < 5  
10 > 9  
9 > 2  
0 < 2  
7 > 3



## Конкурс « Смекалистых» команда «круг»

- \* Сколько ушей у двух ежей?
- \* Сколько хвостов у четырёх котов?
- \* Сколько звёзд на небе днём?
- \* Сколько углов у круга?
- \* Сколько орехов в пустом стакане?
















**НЕТ!**







# Конкурс « Смекалистых» команда «квадрат»

- \* Если линейка длиннее карандаша, то карандаш?
- \* Если канат толще нитки, то нитка?
- \* Если дерево выше куста, то куст?
- \* Если сестра старше брата, то брат?
- \* Сколько лап у двух медвежат?



CLIPARTO

CLIPARTO

CLIPARTO



CLIPARTO

CLIPARTO

CLIPARTO






Дерево



Кустарник









# Слово жюри





\*Почтальон Печкин



от Царицы Математике  
Страна Математических  
наук.



**662660**



Классу \_\_\_\_\_ Подготовительная к школе  
группа «Незабудка» \_\_\_\_\_

Классу \_\_\_\_\_ с.Краснотуранск \_\_\_\_\_  
Улица Юности 34 «а» \_\_\_\_\_  
\_\_\_\_\_  
\_\_\_\_\_



**«Проверка силы»**



$$6 + \square = 7$$

$$7 + \square = 8$$

$$4 - \square = 3$$

$$5 - \square = 4$$

$$5 + 2 = \square$$

$$4 + 2 = \square$$

$$1 + 3 = \square$$

$$6 - 1 = \square$$





$$6 + 1 = 7$$

$$4 - 1 = 3$$

$$5 + 2 = 7$$

$$1 + 3 = 4$$



$$7 + 1 = 8$$

$$5 - 1 = 4$$

$$4 + 2 = 6$$

$$6 - 1 = 5$$





$$4 - \square = 3$$

$$\square - 1 = 1$$

$$5 - \square = 4$$



$$4 - \square = 2$$

$$\square + 2 = 3$$

$$3 + \square = 4$$



$$3 + \square = 5$$

$$4 + \square = 5$$

$$5 - \square = 3$$



$$4 - 1 = 3$$

$$4 - 2 = 2$$

$$3 + 2 = 5$$

$$2 - 1 = 1$$

$$1 + 2 = 3$$

$$4 + 1 = 5$$

$$5 - 1 = 4$$

$$3 + 1 = 4$$

$$5 - 2 = 3$$



# Задания для гостей!





# физминутка



PR: АИМЕВ



9

8

7

5

3

9

5

0

1

2

3

1

7

7

1

5

3

2

8

8

7

6

5

4

6

5

4

3

2

1

10

8

7

5

4

9



9

1

8

7

2

4

5

3

6

0

9

5

0

5

4

1

2

3

2

3

1

4

7

7

0

6

1

5

2

4

3

2

5

8

0 8

7 1

2 6

5 3

4 4

6

1 5

4 2

3 3

2 4

5 1

10

2 8

7 3

5 5

4 6

1 9

# Музыкальная пауза







*Подведение*

*Итогов*

*Слово жюри*







Долгожданная  
посылка



10

9

8

7

6

5

4

3

2

1



КВН

СПАСИБО!!!

