

Школа лицей имени Махмуд Кашгари

Открытый урок
Тема: $\square + 7, \square - 7$
Математика
1 – «Г» класс

Учительница начальных классов : С. Камбарбекова

Психологическая подготовка



Золотая
коллекция

Русские Сказки





Проверка домашнего задания

3 – пример.

$$5 - 5 = 0$$

$$5 - 1 = 4$$

$$5 - 2 = 3$$

$$5 - 3 = 2$$



Математический ДИКТАНТ






Физминутка



Сказка «Теремок»



Пустите в теремок

Теремок



линия сгиба

линия сгиба



Загадка.

Приказало солнце: стой,
Семицветный мост крутой!
Тучка скрыла солнца свет —
Рухнул мост, и щепок нет.

Ответ: Радуга

Сколько цветов у радуги ? (7)



Семь раз
омерь,
один раз
отрежь

В одной
неделе есть 7
дней

Радуга
состоит из
7 цветов

В праздник
Наурыз
готовят еду из
7 блюд

7

Находится
между
цифрами 6 и 8

В музыке
есть 7 нот

Семь бед,
один ответ







1 – пример. Заполни таблицу.

\square	0	1	2	3
$\square + 7$				

$$0 + 7 = 7$$

$$2 + 7 = 9$$

$$1 + 7 = 8$$

$$3 + 7 = 10$$



Физминутка





2 – пример. Игра на скорость : “ Кто быстрее ? ”

$$7 - 0 = 0$$

$$7 - 4 = 3$$

$$7 - 1 = 6$$

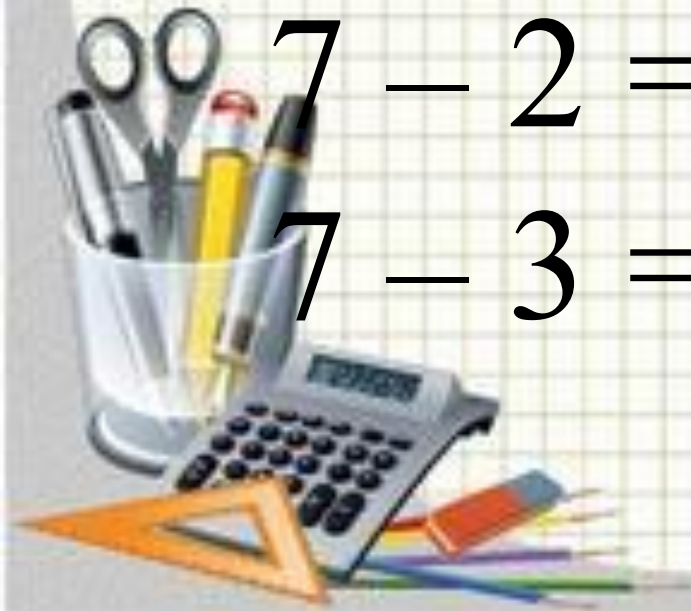
$$7 - 5 = 2$$

$$7 - 2 = 5$$

$$7 - 6 = 1$$

$$7 - 3 = 4$$

$$7 - 7 = 0$$






Идет мимо лисичка-сестричка.
Постучала в окошко и спрашивает:
— Терем-теремок! Кто в тереме живет?
— Я, мышка-норушка.
— Я, лягушка-квакушка.
— Я, зайчик-побегайчик.
— А ты кто?
— А я лисичка-сестричка.
— Иди к нам жить! Забралась лисичка
в теремок. Стали они вчетвером жить.



Самостоятельная работа. 3 – пример.





$$10 \text{ cm} - 7 \text{ cm} < 7 \text{ cm} + 3 \text{ cm}$$

$$3 \text{ cm} < 10 \text{ cm}$$





Физминутка





4 – пример. Составь задачу по рисункам.



4 – пример.

Решение : $10 - 7 = 3$

**Ответ : больших ложек
больше на 3**





Вдруг идет медведь косолапый.
Увидел медведь теремок, услышал
песни, остановился





Игра « Самый быстрый »

1. Может ли страус назвать себя птицей ?
2. На небе летели 7 птиц. Одного выстрелили, сколько птиц осталось?
3. Курица весит 3 кг на одной ноге, сколько будет весить курица если она стоит на двух ногах?
4. В какой дереве будет сидеть птица когда идет дождь?
5. Я , ты, он, она ? Сколько нас всего ?





Домашнее задание :
5 – пример (90 – стр)



