




ПРОСТОКВАШИНО





СЖД	АСУ „ЭКСПРЕСС“	ПРОЕЗДНОЙ ДОКУМЕНТ				ЮБ 848131
-----	-------------------	--------------------	--	--	--	-----------

ПОЕЗД		ОТПРАВЛЕНИЕ время московское				ВАГОН		ЦЕНА		КОЛИЧ. человек	СРОК ГОДНОСТИ	ВИД ДОКУМЕНТА
№	шифр	число	месяц	часы	мин.	№	тип	руб.	коп.			

$8 - 7 = 1$	$8 - 5 = 3$
$8 - 4 = 4$	$8 - 6 = 2$

005 ПА
МОСКВА
МЕСТА
131-11
Н-3555=ТАР 3550+СТР 5
<ПЕТРОВ>






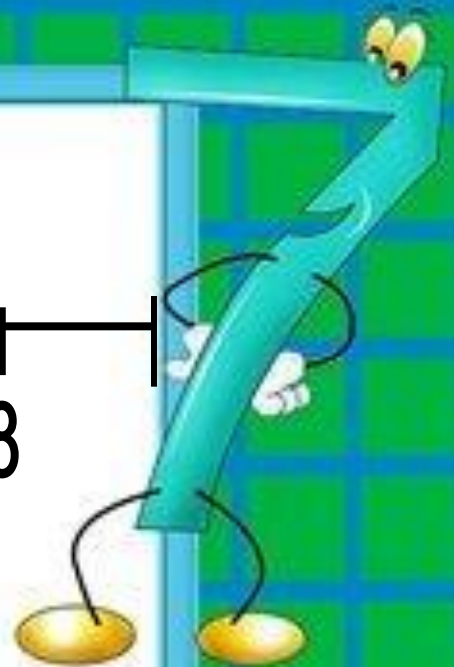
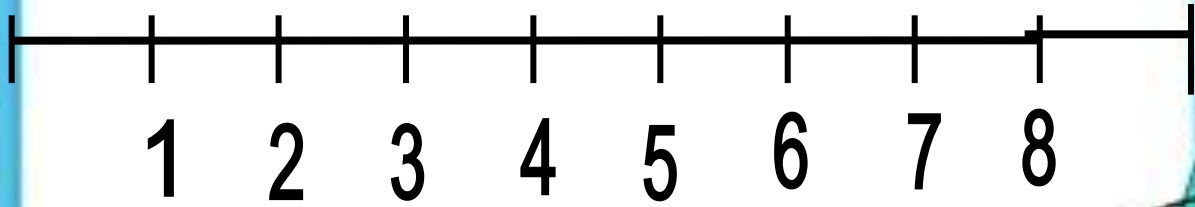
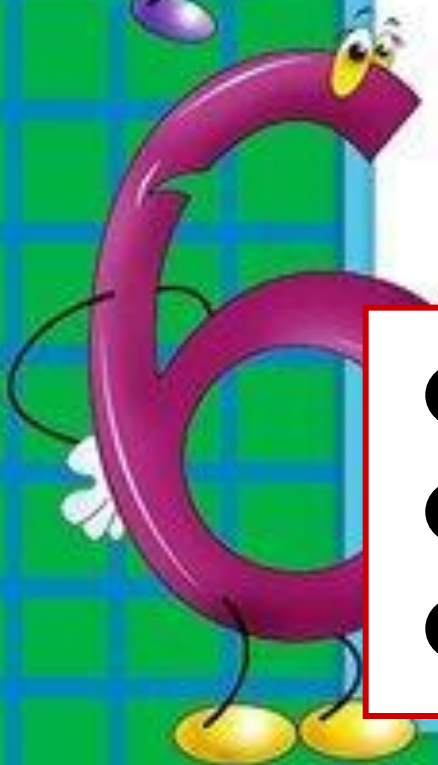
?

4

5

Число 9.
Цифра 9.








$$8 + 1$$


$$6 + 3$$

$$4 + 5$$

$$2 + 7$$


$$7 + 2$$


$$5 + 4$$

$$3 + 6$$

$$1 + 8$$



Дайте мне,
пожалуйста,
молоко!

Хорошо,
но ты должен
решить пример и
выбрать кувшин
с правильным
ответом.

▶ **Дальше**

9

8

7



Ребята, помогите
мне, пожалуйста!

▶ **назад**

9

8

7



9-2

3

4

7

Умница!

Таня Шува



9-1



Молодец !





9-6



Правильно!





9-3



Молодец !

Панель



9-8



Умница!





9-7



Правильно!





9-4

7

6

5

Умница!





9-5



Молодец !

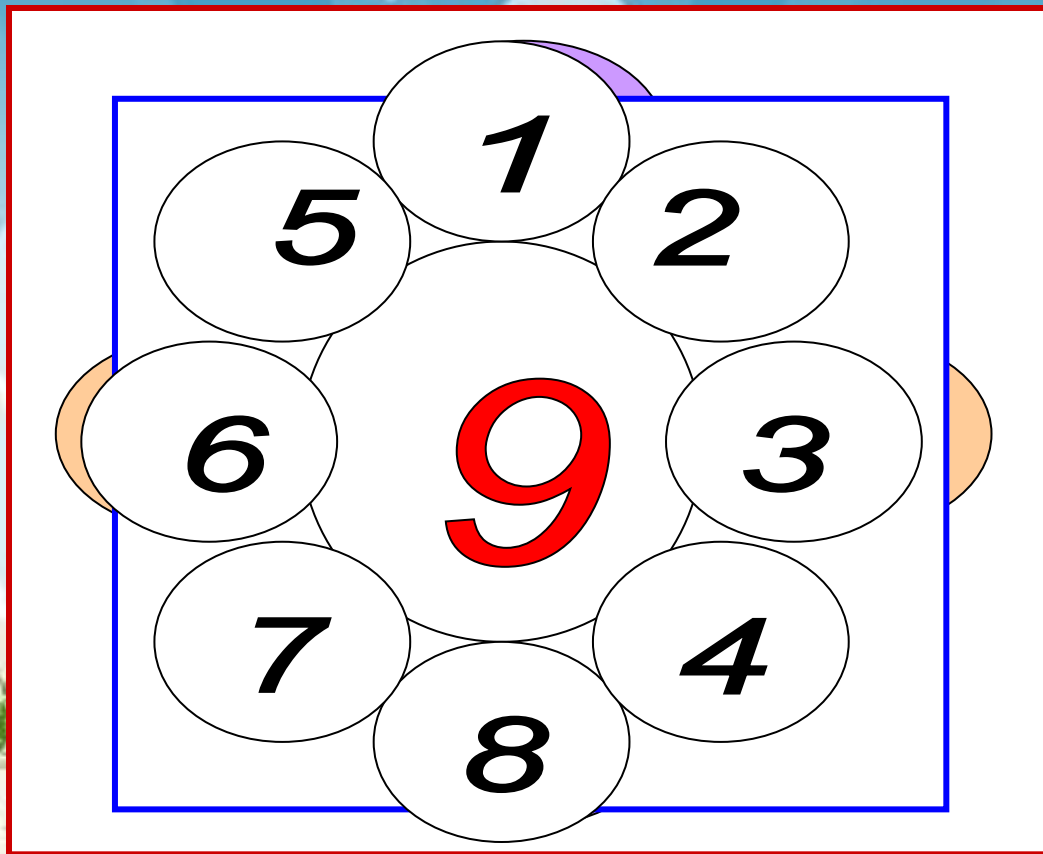





Всегда пейте
молоко,
будете
здоровы!

Спасибо!







② $8 + 1 = 9$ $7 + 2 = 9$ $6 + 3 = 9$ $5 + 4 = 9$
 $1 + 8 = 9$ $2 + 7 = 9$ $3 + 6 = 9$ $4 + 5 = 9$
 $9 - 1 = 8$ $9 - 2 = 7$ $9 - 3 = 6$ $9 - 5 = 4$
 $9 - 8 = 1$ $9 - 7 = 2$ $9 - 6 = 3$ $9 - 4 = 5$

3 Игра: "Доктор Айболит".
Кому из зверюшек нужна помощь?

$1 + 8 - 5 = \square$

$9 - 5 + 3 = \square$

$8 - 1 - 2 = \square$

$4 + 2 + 2 + 1 = \square$

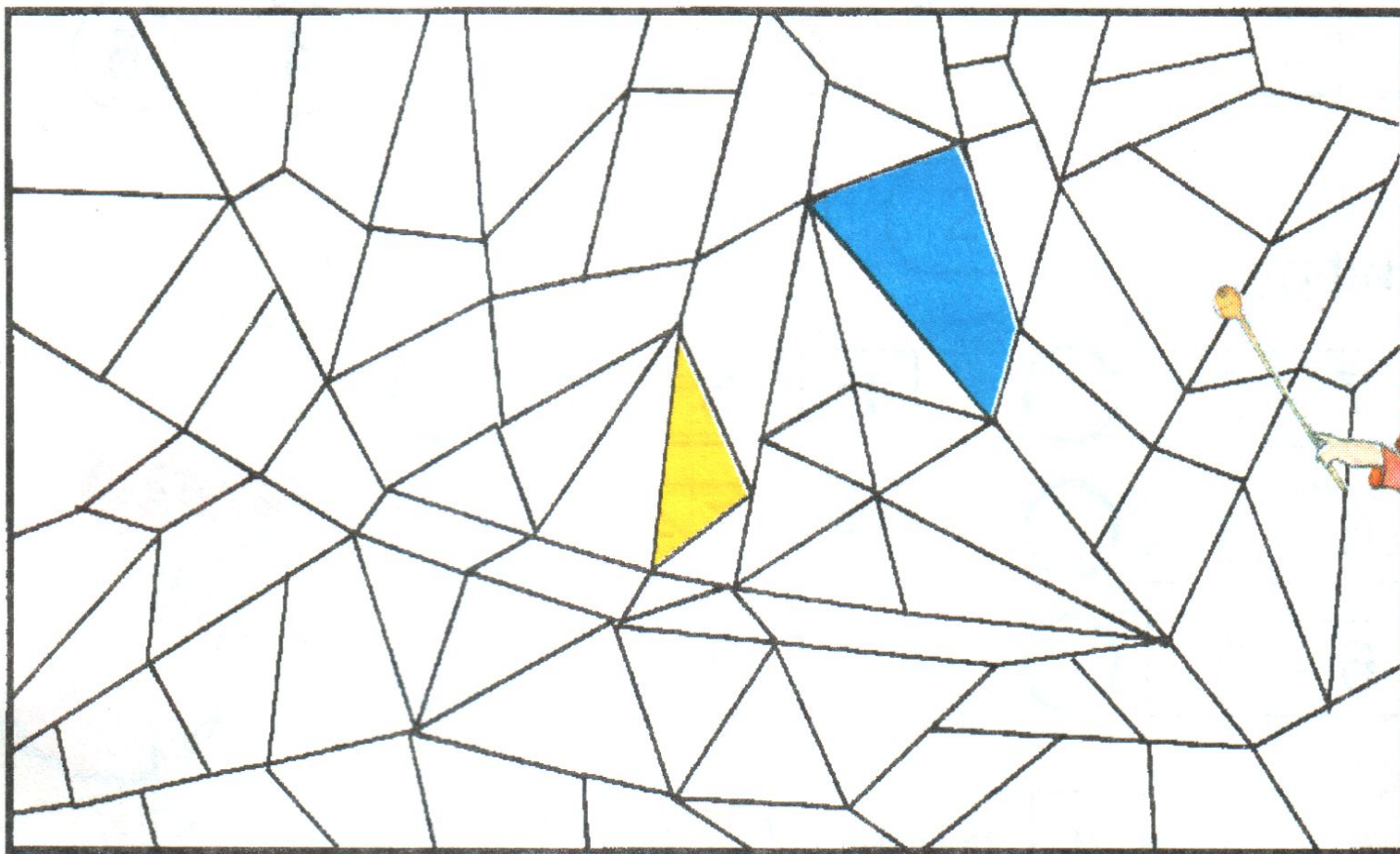
$2 + 7 - 6 = \square$

$8 - 4 + 5 - 7 = \square$



- 1
- 2
- 3
- 4
- 5
- 6
- 7
- 8
- 9

- 4 Все треугольники раскрась жёлтым карандашом, а четырёхугольники – синим. Что получилось?



4 Все треугольники раскрась жёлтым карандашом, а четырёхугольники – синим. Что получилось?

