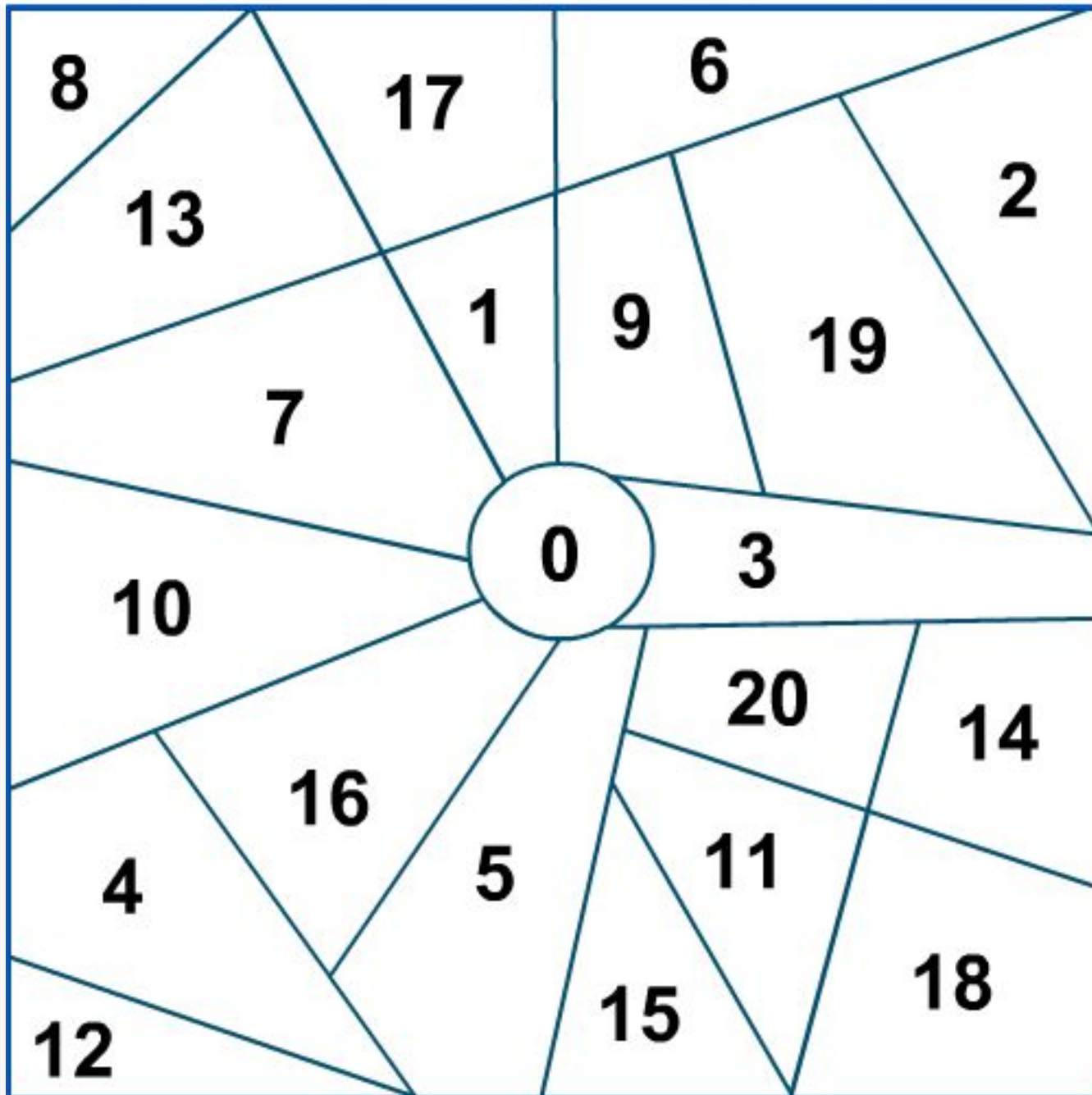


Образование чисел второго десятка





ДЕСЯТКИ

ЕДИНИЦЫ



24 марта

Классная работа



Составные части задачи



6. 1) Петя сделал из шишек 7 поделок, а Миша — на 3 больше. Сколько поделок сделал Миша?

2) У Миши 10 поделок из шишек. Он отдал на школьную выставку 6 из них. Сколько поделок осталось у Миши?



7. У Олега в наборе 5 инструментов, у Игоря 4 инструмента, а у Глеба столько, сколько у Олега и Игоря вместе. Сколько инструментов у Глеба?





М.И. Моро С.И. Волкова



Математика

Рабочая тетрадь

$8 + 4$

Blank writing area with horizontal lines.



1

Часть 2

ПРОВЕЩЕНИЕ
ИЗДАТЕЛЬСТВО



- 1 На стоянке было 10 машин. Две машины уехали. Сколько ... ?

Blank grid for the answer. *Ответ:*

- 2 Соедини числа в порядке их увеличения:



- 3

9	
8	<input type="checkbox"/>
<input type="checkbox"/>	6
7	<input type="checkbox"/>
<input type="checkbox"/>	5

$9 - 8 =$
$9 - 6 =$
$9 - 7 =$
$9 - 5 =$


8	
1	<input type="checkbox"/>
2	<input type="checkbox"/>
3	<input type="checkbox"/>

$8 - 5 =$
$8 - 6 =$
$8 - 7 =$

- 1 Было 8 голубей. Улетели 3 голубя. Сколько голубей осталось?

Blank grid for the answer. *Ответ:*

- 2

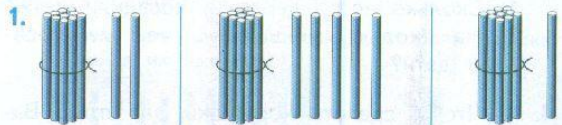


- 3

$4 + 4 - 2 =$	$10 - 7 - 3 =$
$2 + 6 - 5 =$	$10 - 8 + 0 =$

Домашняя работа

Продолжим учиться называть и сравнивать числа от *одиннадцати* до *двадцати*.



Сколько палочек на каждом рисунке?

2. (Устно.) Мама купила 2 десятка яиц, но 1 яйцо разбилось. Сколько яиц осталось?

3. (Устно.) В городе было 10 кинотеатров. Построили ещё 1. Сколько кинотеатров стало в городе?

4. 1) Отсчитывай по одному, начиная с числа *двадцать*, до числа *одиннадцать*.

2) Назови число, следующее при счёте за числом *двенадцать*, идущее при счёте перед числом *двадцать*.

5. У Вани 6 значков, а у Кати на 2 значка меньше. Сколько значков у Кати?



6. 1) Петя сделал из шишек 7 поделок, а Миша — на 3 больше. Сколько поделок сделал Миша?

2) У Миши 10 поделок из шишек. Он отдал на школьную выставку 6 из них. Сколько поделок осталось у Миши?

7. У Олега в наборе 5 инструментов, у Игоря 4 инструмента, а у Глеба столько, сколько у Олега и Игоря вместе. Сколько инструментов у Глеба?




ИНСТРУМЕНТЫ

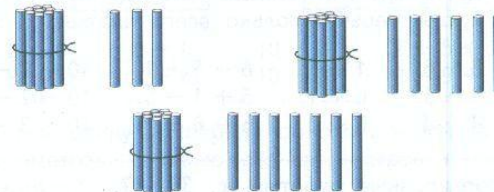
8. Сравни примеры в каждом столбике. Определи, по какому правилу они составлены. Запиши ещё по одному примеру и вычисли.

$9 - 6$	$3 + 6$	$8 - 3 + 4$	$6 + 4 - 7$
$9 - 5$	$3 + 5$	$8 - 2 + 3$	$6 + 3 - 7$
$9 - 4$	$3 + 4$	$8 - 1 + 2$	$6 + 2 - 7$
...

9. Как можно разложить 10 кубиков разными способами в две коробки?



Сколько палочек на каждом рисунке?



НАЙДИ ЛИШНЮЮ ФИГУРУ:

