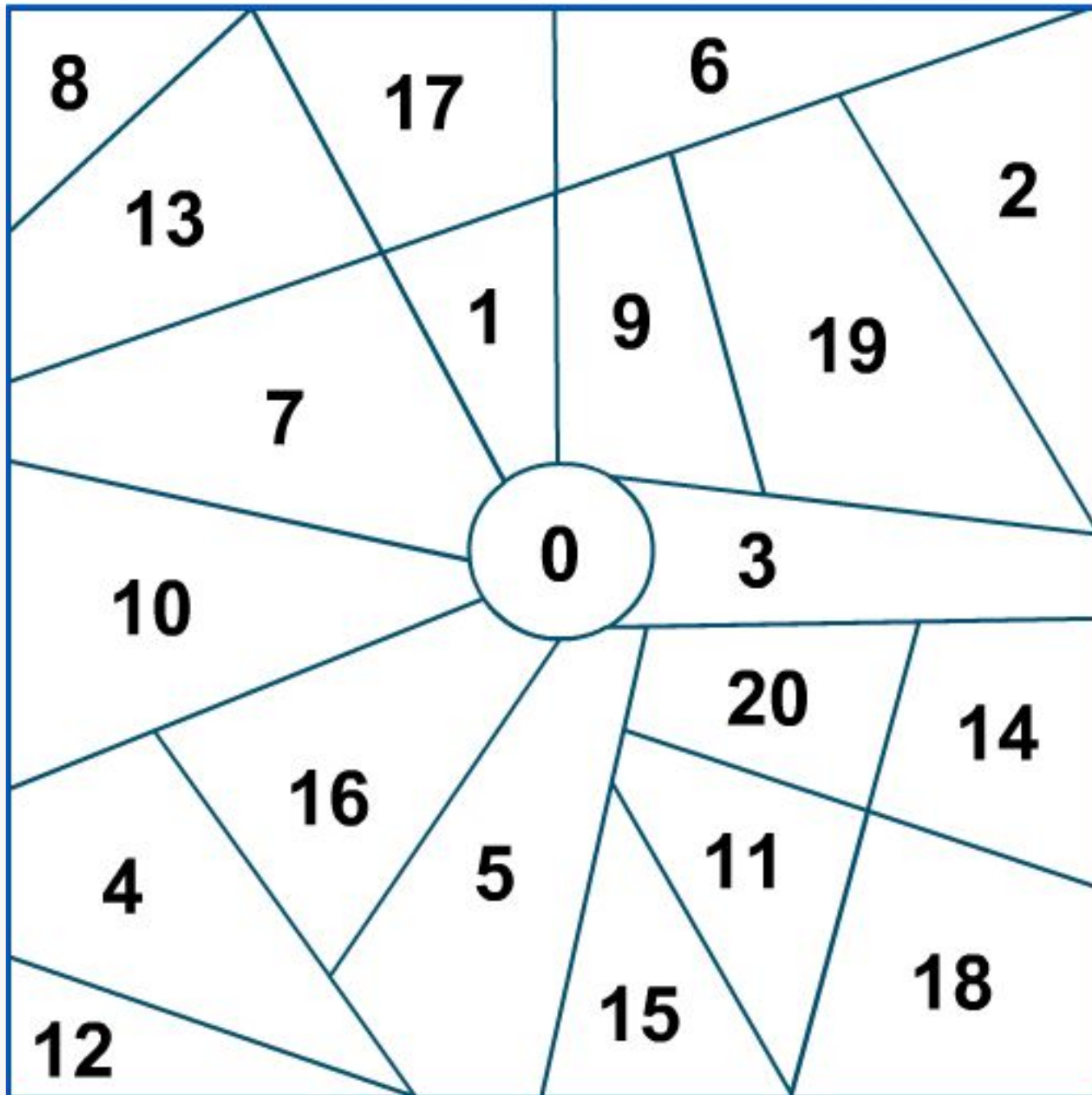


# Образование чисел второго десятка





Образование и название чисел второго десятка.



**10** ДЕСЯТЬ



**11** ОДИННАДЦАТЬ



**12** ДВЕНАДЦАТЬ



**13** ТРИНАДЦАТЬ



**14** ЧЕТЫРНАДЦАТЬ



**15** ПЯТНАДЦАТЬ



**16** ШЕСТНАДЦАТЬ



**17** СЕМНАДЦАТЬ



**18** ВОСЕМНАДЦАТЬ



**19** ДЕВЯТНАДЦАТЬ



**20** ДВАДЦАТЬ



# Запись чисел второго

## десятка

- Единицы пишутся справа на 1-ом месте;
- Десятки пишутся справа на 2-ом месте;

14

*10; 19; 15;*

4 - число единиц

*13; 16; 18;*

1 - число десятков

*12; 17; 15.*



**ДЕСЯТКИ**

**ЕДИНИЦЫ**





М.И. Моро С.И. Волкова

# Математика

Рабочая тетрадь

$$8 + 4$$

Blank writing area with three horizontal lines.



# 1

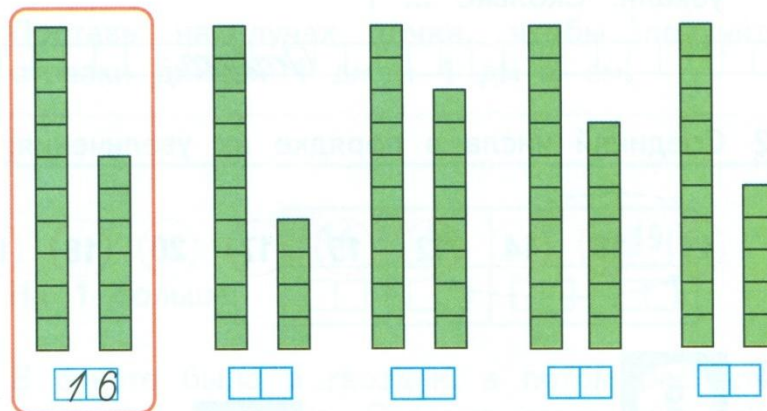
Часть 2

ПРОСВЕЩЕНИЕ  
ИЗДАТЕЛЬСТВО



## ЧИСЛА ОТ 11 ДО 20

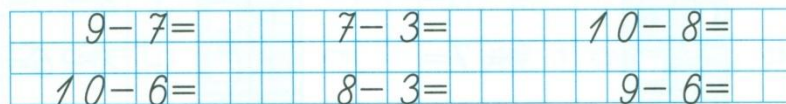
1




2




3



4



5



6



7

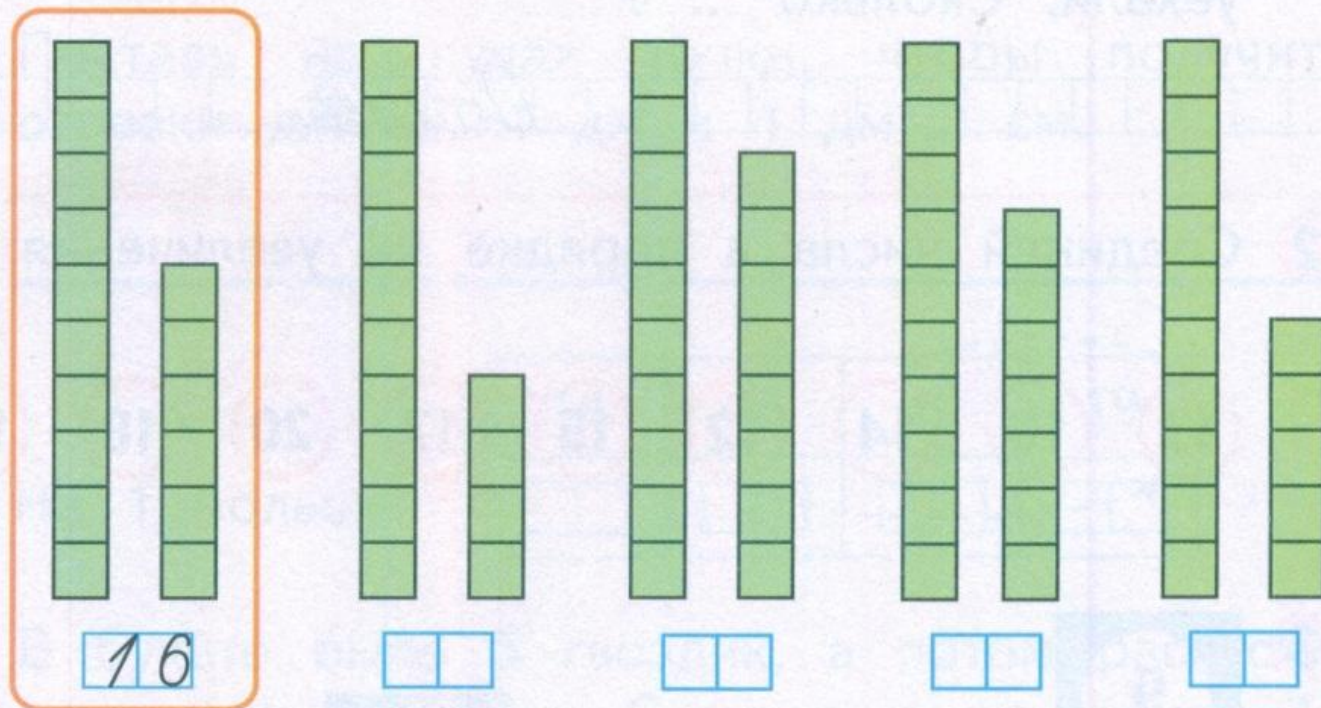


Первый отрезок на  см \_\_\_\_\_ второго.



# ЧИСЛА ОТ 1 ДО 20

1



2

11, 12, , , 15, , , 18, , , .

3


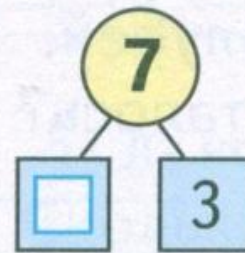


9 - 7 =	7 - 3 =	10 - 8 =
10 - 6 =	8 - 3 =	9 - 6 =

4

20, 19, , , , 15, , , 12, , .



5



6

8	-	6	+	7	=					10	-	8	+	6	=				
9	-	4	+	3	=					10	-	7	-	0	=				

7



Первый отрезок на  см \_\_\_\_\_ второго.





# 23 марта

# Классная работа



# Составные части задачи



с. 47 № 3

