


Равенство. Неравенство

3. РАВЕHCTBA


МАТЕМАТИКА
1 класс

РАВЕHCTBA


$2+3=1+4$




$12=10+2$



$9+3=14-2$



$3=3$




МАТЕМАТИКА
1 класс

4. НЕРАВЕHCTBA


МАТЕМАТИКА
1 класс

НЕРАВЕHCTBA


$3+1<6$



$4+2<8-1$



$6>5$



МАТЕМАТИКА
1 класс



Разминка



- Какое число следует за числом **3**?

5?

- Какое число стоит между числами **1**

и **3**? **3** и **5**?

- Какое число предшествует числу **4**?

5? **2**?



Игра «Считаю, отвечаю»

$4 + 1 =$

5

$5 - 3 =$

2

$2 + 1 =$

3

$4 - 2 =$

2

$4 - 1 =$

3

$5 - 1 =$

4

$3 + 1 =$

4

$2 + 3 =$

5



Какие карточки первёрнуты?

$4 + = 5$

1

$4 - = 3$

1

$4 - = 2$

2

2

$1 = 3$

+

$2 3 = 5$


+

5

$1 = 4$

-





$$4 + 1 = 5$$

$$5 > 4 \quad 4 < 5$$



РАВЕИИСТВА

$$3 + 2 = 5$$

$$5 = 5$$



НЕРАВЕНСТВА

$$5 > 4$$

$$3 - 2 < 5$$



Прочитай сначала равенства, а затем
неравенства.

$$3 - 1 = 2$$

$$4 + 1 = 5$$

$$4 - 1 > 1$$

$$3 + 1 > 2$$

$$5 - 1 < 5$$

$$1 + 1 = 2$$



|| ^ v

4 >

3 > 3

3 >

4 > 4

5 >

>

1 + 2 =

3 = 3

5 - 3 =

2 = 2



Найди неверные равенства и неравенства.

$$4 + 1 = 5$$

$$=$$

$$=$$

$$2 + 1 = 3$$

$$=$$

$$=$$





М.И. Моро С.И. Волкова С.В. Степанова



Математика



1

Часть
1

ПРОСВЕЩЕНИЕ
ИЗДАТЕЛЬСТВО



У Миши такая монета:



У Коли такие монеты:



У кого из них больше монет?
У кого из них больше рублей?

У Лены



У Веры



Сколько всего кукол у Лены и у Веры?

Выбери для каждого рисунка подходящую запись.



- 4 + 1
- 4 - 1
- 5 - 1
- 3 + 1
- 3 + 2



Расскажи, какие числа надо записать в окошки домов.

ЗАСЕЛЯЕМ
ДОМА



У Миши такая монета:



У Коли такие монеты:



У кого из них больше монет?

У кого из них больше рублей?



У Лены




У Веры



Сколько всего кукол у Лены и у Веры?



Выбери для каждого рисунка подходящую запись.



$$4 + 1$$

$$4 - 1$$

$$5 - 1$$

$$3 + 1$$

$$3 + 2$$



Равенство. Неравенство

- Сосчитай, сколько яблок на каждом рисунке, и сравни результаты. Запиши два неравенства.



- Сколько бусинок закрыто на каждой нитке? Нарисуй их в рамках.



- ☹



$3 < 4$	2 1	1+1 3	4+1 5
$5 > 4$	2 3	4-1 5	3-1 1

- Саша выше Толи, но ниже Вани. Подпиши под каждым отрезком первую букву имени мальчика.

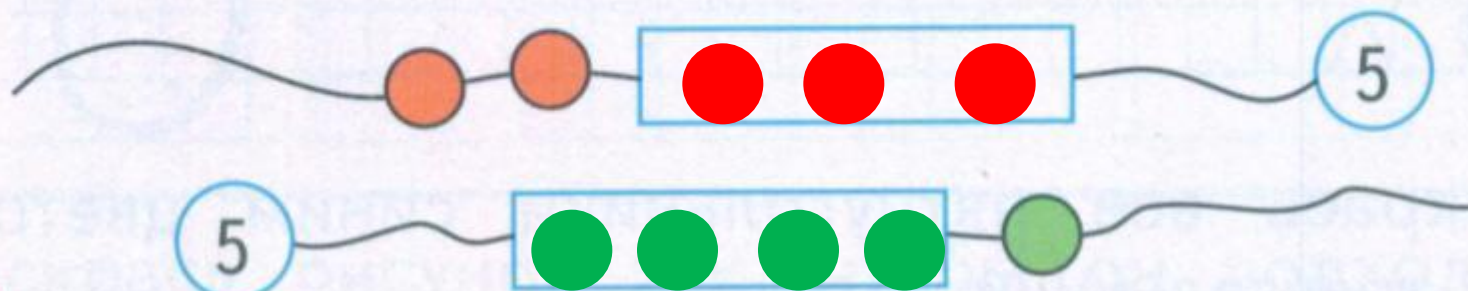


Равенство. Неравенство

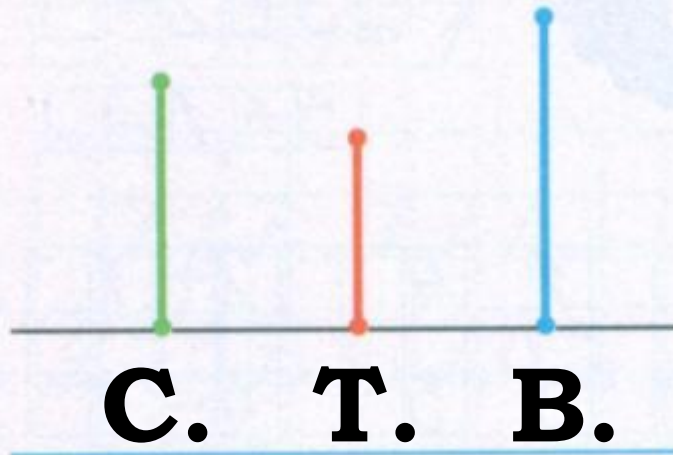
- Сосчитай, сколько яблок на каждом рисунке, и сравни результаты. Запиши два неравенства.



Сколько бусинок закрыто на каждой нитке?
Нарисуй их в рамках.



- Саша выше Толи, но ниже Вани. Подпиши под каждым отрезком первую букву имени мальчика.



Самостоятельная работа

$3 < 4$

2

1

$1 + 1$

3

$4 + 1$

5

$5 > 4$

2

3

$4 - 1$

5

$3 - 1$

1






I



Домашнее задание

3+	1	4	4	3	5	1	1	4
5-	1	4	2	4	3	2	5	3



С. 48

