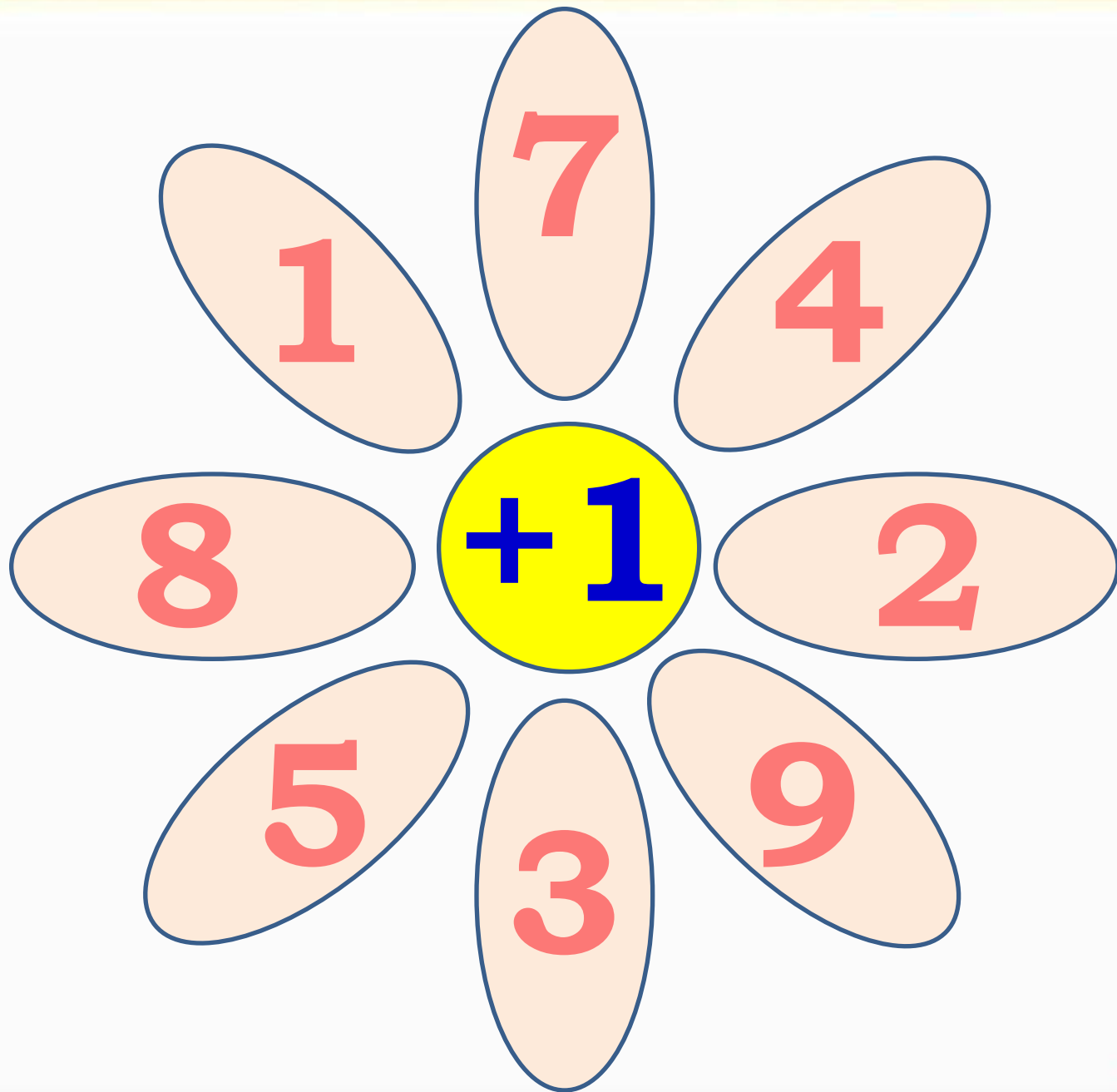
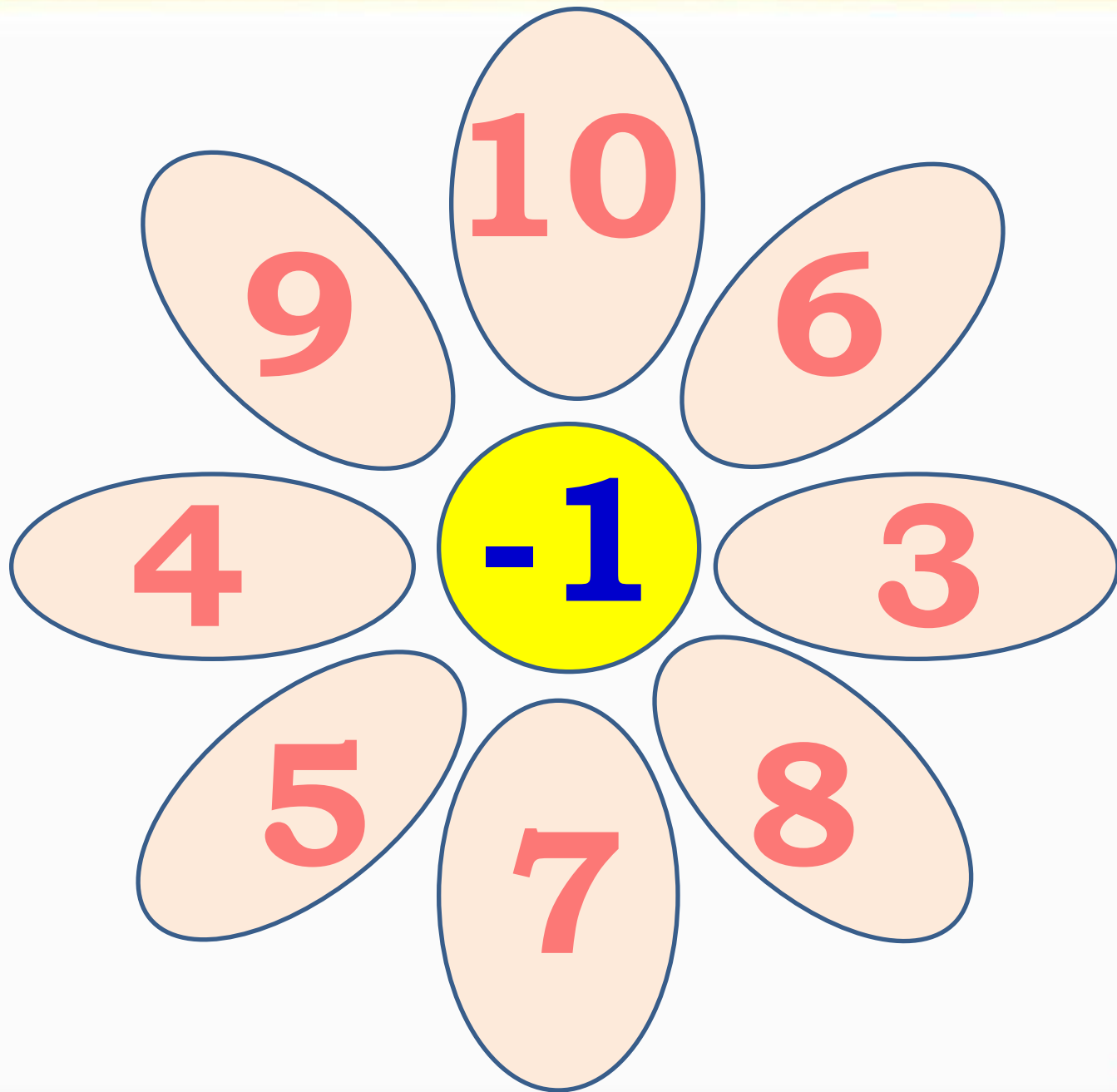


Слагаемые. Сумма







Заполни пропус

$3 - \square = 1$

$\square + 2 = 10$

$7 - \square = 5$

$10 - \square = 9$

$6 - \square = 4$

$8 - \square = 6$

Супер!



Вычисли

$$3 \text{ --- } +2 \text{ --- } +2 \text{ --- } -1 \text{ --- } 6$$


$$6 \text{ --- } -1 \text{ --- } +2 \text{ --- } +1 \text{ --- } 8$$

$$8 \text{ --- } +1 \text{ --- } +1 \text{ --- } -0 \text{ --- } 10$$

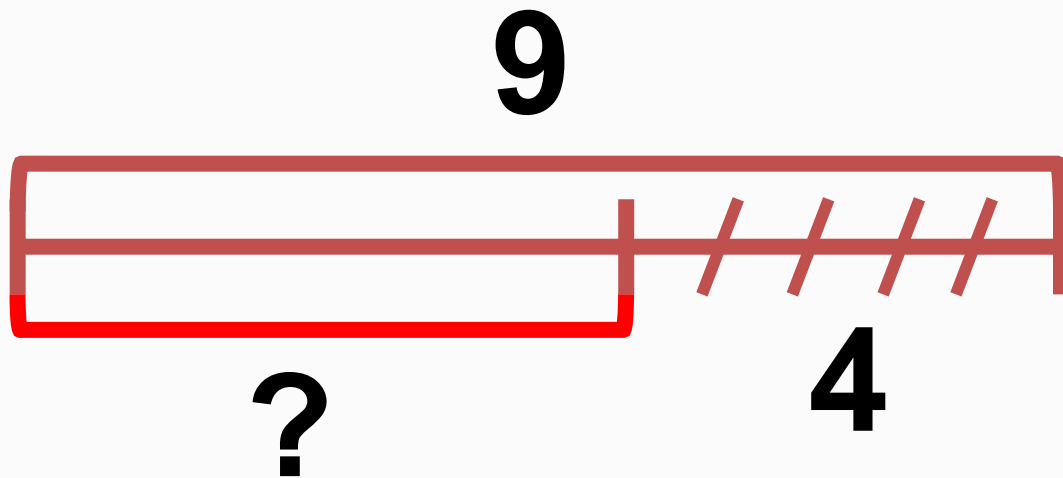
Молодцы!



Составь по схеме задачу



Составь по схеме задачу




Сколько мишек всего?

$$4 + 2 = 6$$

Каких мишек больше
и на сколько?

$$4 - 2 = 2$$




Сколько кукол всего?


$$3 + 2 = 5$$

Каких кукол больше и на сколько?

$$3 - 2 = 1$$



Сколько машин и самолетов всего?




$$2 + 4 = 6$$

На сколько самолетов больше, чем машин?

$$4 - 2 = 2$$



Сколько корабликов и лодок
всего?




$$3 + 2 = 5$$

На сколько корабликов
больше лодок?

$$3 - 2 = 1$$



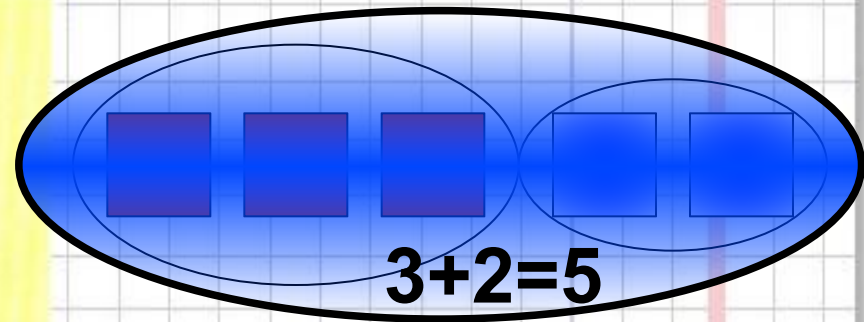
ЗАДАНИЕ
НА
СМЕКАЛКУ



ЗАДАНИЕ
НА
СМЕКАЛКУ



Бабушка испекла такие печенья, как на картинках. Есть ли среди них 2 одинаковых? Назовите их номера.



3-

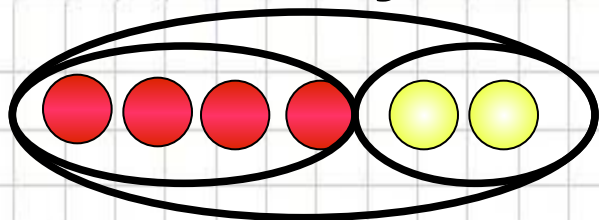
слагаемое

2-слагаемое

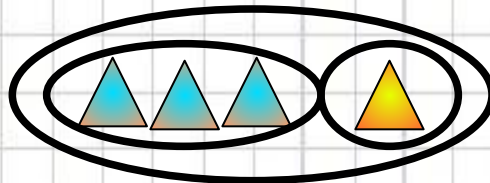
5-сумма

3+2-сумма

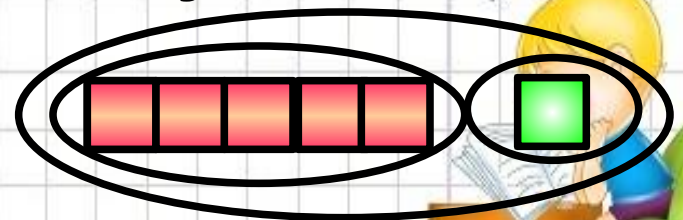
Сумма чисел 3 и 2 равна 5
 Назовите первое и второе слагаемые в
 каждой сумме и вычислите эти суммы



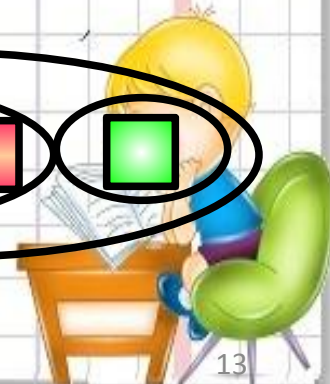
$4+2=$





$3+1=$



$5+1=$





$$3 + 2 = 5$$



3 - слагаемое

2 - слагаемое

5 - сумма


$3 + 2$ - сумма




Самостоятельная работа



$$2 + 2$$



$$4 + 2$$



$$9 -$$



$$10 - \square$$

$$= 8$$

$$1 + 1$$


$$2 + 1$$

$$2 + 2$$


$$3 + 1$$

$$3 + 2$$

$$4 + 1$$



$$0 + 2 =$$



$$6 -$$



$$7 -$$



$$\square - 2$$

$$= 6$$



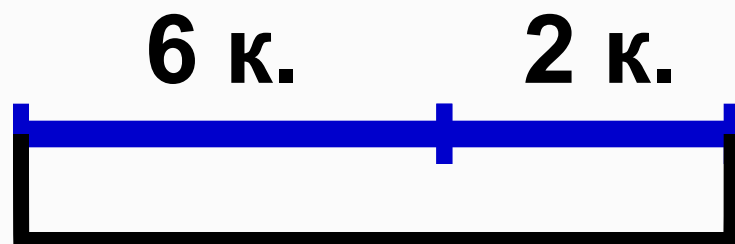
Мы ногами топ-топ,
Мы руками хлоп-хлоп,
А потом прыг-скок
А потом вприсядку,
И опять вприсядку,
Побежим мы по дорожке
Раз, два, три!
И похлопаем в ладошки
Раз, два, три!
И покрутим головами
Раз, два, три!
Все танцуйте вместе с нами
Раз, два, три!



3. У Васи было 6 книг:



Ему подарили ещё 2 книги. Сколько книг стало у Васи?



? к.

$$6 + 2 = 8 \text{ (к.)}$$

**Ответ: 8
КНИГ.**




4. У Лены было



Она подарила подруге 1 собачку. Сколько собачек осталось у Лены?

3 с.



? с.

$$3 - 1 = 2 \text{ (с.)}$$

Ответ: 2 собачки.





I



Домашнее задание



Слагаемые. Сумма

- Подчеркни равенства, в которых пропущены слагаемые. Вычисли.

<input type="checkbox"/>	$6 + \square = 7$	$8 = \square + 1$	$3 + 2 = \square$
	$5 + 1 = \square$	$6 = 5 + \square$	$3 + 1 = \square$
	$\square + 2 = 6$	$7 = 5 + \square$	$7 + \square = 9$

- Запиши для каждого рисунка своё равенство.




=



=

- Раскрась карандаши так, чтобы красный карандаш был длиннее синего, но короче зелёного.



Измерь и запиши длину
самого короткого карандаша: см;
самого длинного карандаша: см.

<input type="checkbox"/>	$5 + 1$	5	$5 - 1$	5	$6 - 1$	5
<input type="checkbox"/>	$3 + 2$	5	$3 - 2$	3	$3 + 2$	3

