

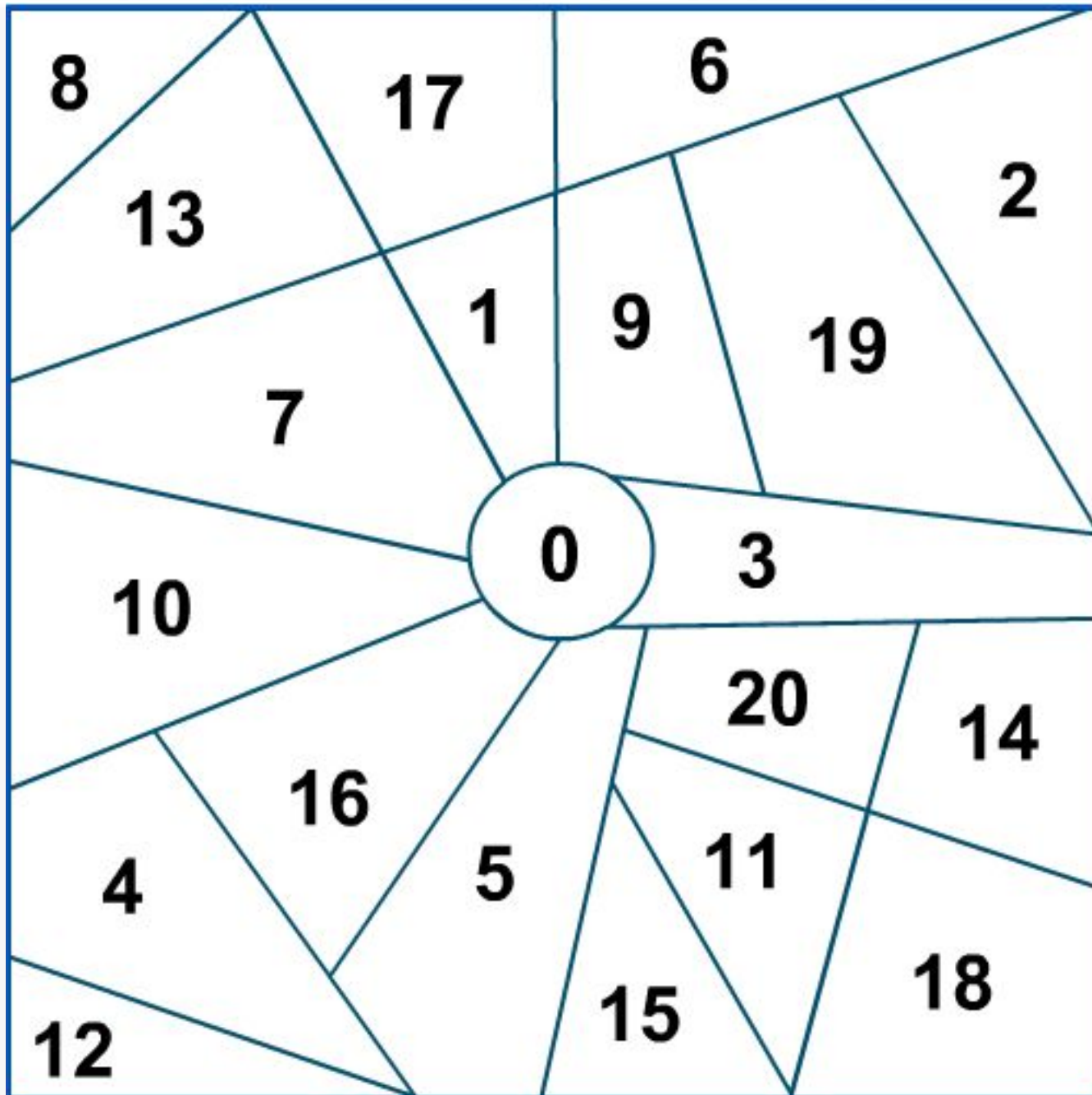
МАТЕМАТИКА

Сложение и

вычитание вида

$10 + 7, 17 - 7, 17 - 10$





ДЕСЯТКИ


ЕДИНИЦЫ



31 марта

Классная работа






$$10 + 3 = 13$$

$$13 - 10 = 3$$


$$13 - 3 = 10$$



$$10 + 6 = 16$$

$$16 - 10 = 6$$

$$16 - 6 = 10$$



$$10 + 9 = 19$$

$$19 - 10 = 9$$

$$19 - 9 = 10$$



Рассмотри каждый рисунок и запись под ним.
Объясни, сколько всего прибавили к числу,
сколько всего вычли.



$$7 + 3 + 5$$

$$15 - 5 - 3$$

$$6 + 4 + 2$$

$$12 - 2 - 4$$



1. Вычисли, каждый раз объясняя, сколько всего прибавили к числу или сколько всего вычли из него.

$$8 + 2 + 1$$

$$6 + 4 + 3$$

$$18 - 8 - 1$$

$$14 - 4 - 5$$


$$17 - 7 - 1$$

$$1 + 9 + 1$$



2. 1) В букете 8 васильков, а ромашек на 2 больше. Сколько ромашек в букете?
2) В букете 8 васильков и 10 ромашек. Сколько всего цветов в букете?

3. В банку входит 10 стаканов воды. Сколько стаканов воды можно долить в каждую банку?



10 ст.

8 ст.

3 ст.

6 ст.

7 ст.



4. Найди сумму чисел:
6 и 4, 4 и 5, 7 и 10.
Найди разность чисел:
10 и 6, 16 и 6, 7 и 7.

$$17 - 7 - 2$$

$$15 - 5 - 3$$

$$8 + 2 + 3$$

$$7 + 3 + 4$$

$$13 - 3 - 1$$

$$16 - 6 - 2$$



НАБЕРИ 10





М.И. Моро С.И. Волкова



Математика

Рабочая тетрадь

$8 + 4$

Blank writing area with horizontal lines.

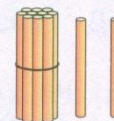



1

Часть
2

ПРОСВЕЩЕНИЕ
ИЗДАТЕЛЬСТВО

1



$10 + 7 =$

$10 + 2 =$

$17 - 7 =$

$12 - 2 =$

$17 - 10 =$

$12 - 10 =$

2



1

У Тани 2 синих шарика и 4 красных.
Сколько всего ... ?

Answer line: *Ответ:*

2

$12 \quad 20 \quad 14 \quad 12 \quad 15 \quad 17$

3

$13 - 3 - 2 =$

$8 + 2 + 5 =$

$19 - 9 - 4 =$

$4 + 6 - 3 =$

$16 - 6 - 3 =$

$7 + 3 + 4 =$

4

Бабушка взяла несколько морковок и все их отдала кроликам: 3 белому и столько же серому. Сколько всего ... взяла ... ?

Answer line: *Ответ:*



Итог урока:

- Что нового узнали на уроке?
- Что повторили на уроке?




Домашняя работа

- 1 Оле 8 лет, а Вова на 2 года старше Оли. Сколько ... ?

Ответ:

- 2 Васе 6 лет, а Пете 9 лет. На сколько ... ?

Ответ:



4

$8 - 6 =$	$8 - 8 =$	$10 - 6 =$
$8 - 7 =$	$9 - 8 =$	$10 - 7 =$
$6 + 3 =$	$2 + 7 =$	$4 + 6 =$

- 5 Блокнот стоит 7 р., а ручка на 4 р. дешевле. Сколько стоит ручка?

Ответ:

Сколько стоят блокнот и ручка вместе?

Ответ:

6

$18 - 8 - 3 =$	$4 + 6 + 8 =$
$19 - 9 - 2 =$	$1 + 9 + 4 =$

7

$18 - 1 = 17$	$9 - 1 - 3 = 13$
---------------	------------------

±

$18 - 1 = 19$	$3 - 7 - 4 = 6$
---------------	-----------------

