

МАТЕМАТИКА

урок №1

КАК Я ПРОВЁЛ ЛЕТО

5 класс

Автор: Урбанович
Наталья Анатольевна





2168



9.23



72.13



2483



183.6



155.3




2168





2.147




3.42


а) $28:7 + 9 =$ 


в) $49:7 + 19 =$ 


б) $7 \times 3 + 13 =$ 


г) $6 \times 4 + 28 =$ 



д) $42 : 6 + 38 =$ 

е) $36 : 4 + 25 : 5 =$ 

ж) $12 : 4 + 81 : 9 =$ 

з) $(31 - 4) : 9 + 48 =$ 

№1

В первый день похода ребята прошли 19 км, а во второй день – на 5 км больше, чем в первый. Сколько километров прошли ребята во второй день?

№2

Сергей нашёл 23 гриба, это оказалось на 9 грибов меньше, чем нашёл дедушка. Сколько грибов нашёл дедушка?

№3

За билет на аттракцион заплатили 40 рублей, а за билет в кино – в 3 раза больше. Сколько рублей заплатили за билет в кино?

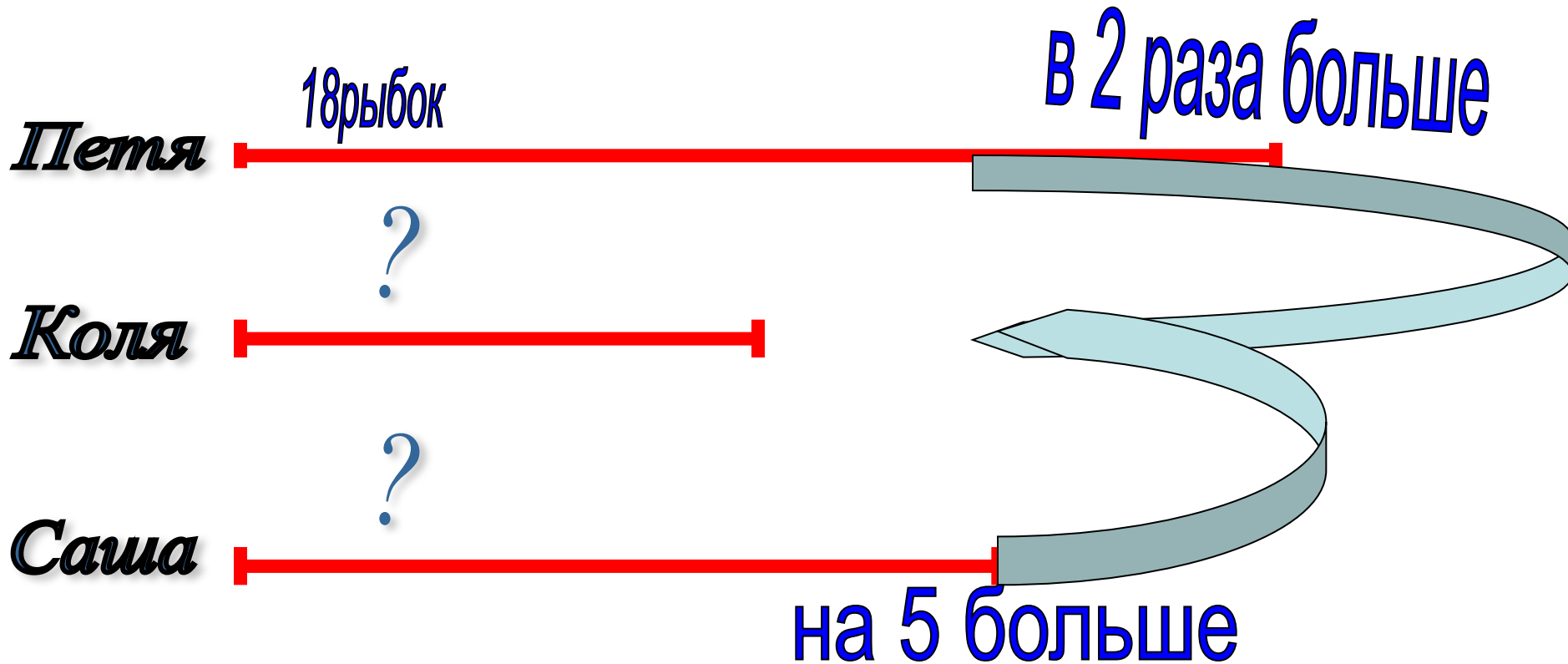


В летний денёк Петя, Коля и Саша ловили рыбу. Петя поймал 18 рыбок, что в 2 раза больше, чем Коля. А Саша поймал на 5 рыбок больше, чем Коля. Сколько рыбок поймал Саша?



В летний денёк Петя, Коля и Саша ловили рыбу. Петя поймал 18 рыбок, что в 2 раза больше, чем Коля. А Саша поймал на 5 рыбок больше, чем Коля.

Сколько рыбок поймал Саша?



ФИЗКУЛЬТ

МИНУТКА



1.шаги на месте

2.махи руками



3.приседания





Мама для зимних заготовок принесла с огорода 3 кг овощей. Витя съел 300г этих овощей. Сколько овощей осталось для заготовок?

3 кг



300 г





Алёна была на прогулке 3ч. С собакой в парке она играла 1ч15мин. Остальное время – болтала с подружками во дворе. Сколько времени Алёна болтала с подружками во дворе?





*А как тебе помогала
математика?*



**Расскажи свои
летние истории.**

