




*Презентация  
Трафарет  
На тему  
"Математика"*

Подготовила: ученица 7 класса Б  
Кузьмина Екатерина  
Проверила: Поспелова Г.В.  
МБОУ «СОШ №20»  
г. Новомосковск



В презентации вам будут предложены  
вопросы на тему  
«Математика»

В таблице под вопросом будут представлены варианты  
ответов, их будет не менее 2 и не более 7 на один  
вопрос.

Вам нужно подобрать правильные ответы, а затем,  
нажав на кнопку «Ответ» проверить себя.

После того, как вы это сделаете появится стрелка  
перехода на следующий вопрос.


Удачи!

Начать

В результате каких примеров не получится 4?

$61-58=...$	$24:3=...$	$52-47=...$


Ответ



Найдите примеры, в которых результат будет таким же как и в выражении  $96:8=...$ ?

$24:2=...$		
	$72:6=...$	
		$60:5=...$


Ответ



Найдите примеры, в которых результат будет таким же как и в выражении  $84-69=...$ ?

	$45:3=...$	
	$75:5=...$	
	$30-15=...$	

Ответ



В результате каких примеров получится 8?

$64:8=...$


$32-24=...$

$16:2=...$

$56:7=...$

$2 \times 4=...$


Ответ



Найдите примеры, в которых результат будет таким же как и в выражении  $70-52=...$ ?

	$96-78=...$	
$48-30=...$	$60-42=...$	$36:2=...$
	$10+8=...$	


Ответ



В результате каких примеров получится 13?

	$26:2=...$	
$39:3=...$	$52-29=...$	$46-33=...$

Ответ





В результате каких примеров не получится 6?

$42:6=...$

$32:4=...$

$32-24=...$


$22-8=...$

$80-78=...$

$67-43=...$

$2 \times 2=...$


Ответ



В результате каких примеров получится 9?

	$18:2=...$	
$90:10=...$	$27:3=...$	$36:4=...$
$72:8=...$	$81:9=...$	$54:6=...$

Ответ



Молодцы!



# Источники информации

Шарики

Звездочки

