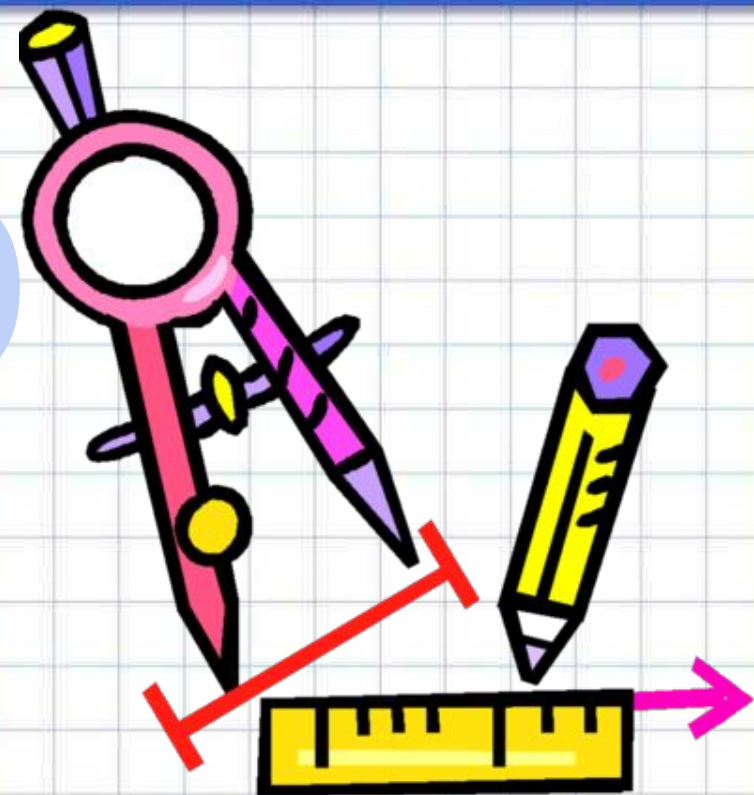


Метр



Королева Ирина Николаевна
Учитель начальных классов
МКОУ СОШ №2
г.Нефтекумск



УСТНЫЙ

СЧЁТ

- Назови самое маленькое двузначное число.
- Назови самое маленькое трёхзначное число.
- На сколько трёхзначное число больше двухзначного?

Устный

счёт

$$90 - 20$$

$$25 - 5$$

$$81 - 1$$

$$60 - 1$$

$$29 + 1$$

$$45 + 1$$

УСТНЫЙ

100	
10	90
50	50
30	70
80	20
40	60

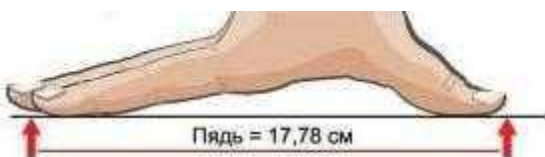
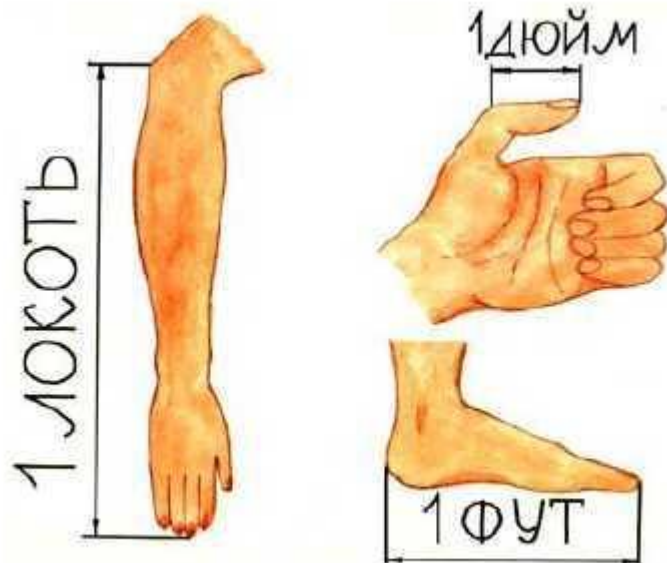
Какая единица
лишняя?

1 см, 30 мм, ~~51 кг,~~
10дм


**Единицы
длины**

Так измеряли

длину



Метр



Вспоминаем то что

№1 Вырази в см:

$$1 \text{ дм} = 10 \text{ см}$$

$$1 \text{ дм } 2 \text{ см} = 12 \text{ см}$$

$$2 \text{ дм} = 20 \text{ см}$$

$$1 \text{ дм } 5 \text{ см} = 15 \text{ см}$$

$$1 \text{ дм } 9 \text{ см} = 19 \text{ см}$$

Вырази:

$$57 \text{ см} = \quad \text{дм} \quad \text{см}$$

$$36 \text{ см} = \quad \text{дм} \quad \text{см}$$

$$2 \text{ дм} = \quad \text{см}$$

$$10 \text{ дм} = \quad \text{см}$$

1 м = 10 дм 1 м = 100 см

Знакомимся с основным вопросом урока

2 Назовите число дециметров / сантиметров от начала ломаной до конца каждого её звена.

1 дм = 10 см

2 дм = 20 см

3 дм = 30 см

4 дм = 40 см

5 дм = 50 см

Начало

6 дм = 60 см

7 дм = 70 см

8 дм = 80 см

9 дм = 90 см

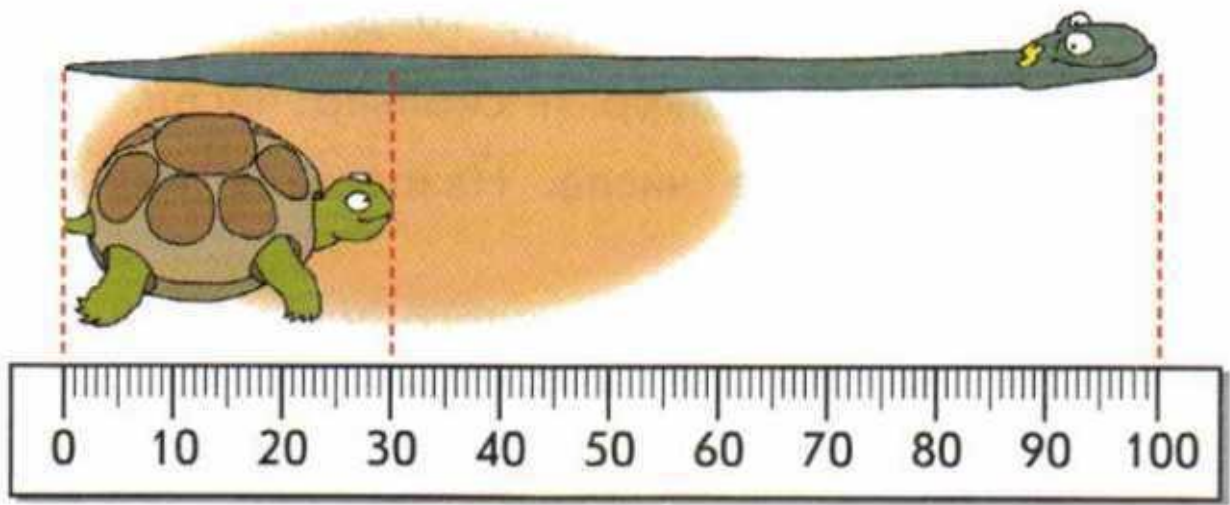
10 дм = 100 см

Длина ломаной – 1 м (один метр)

?! Сколько дециметров в одном метре? Сколько сантиметров в одном метре?



4 Назовите длину черепахи и ужа. Одно мелкое деление соответствует одному сантиметру. Найдите разность длин ужа и черепахи.



Выбираем задания и тренируемся

5 Сравните числа (>, <, =).

60 * 70
40 * 100

90 * 100
100 * 10

30 * 70
50 * 90

№6 Задача (а)

У Пети было 7 карандашей и 5 ручек, а у Кати 3 карандаша и 2 ручки. Сколько карандашей и сколько ручек осталось у Пети, если он отдал Кате 3 карандаша и 2 ручки? Сколько карандашей и ручек стало у Кати?



Сравн

$$13 \text{ см} * 2 \text{ дм}$$

$$2 \text{ м} * 20 \text{ дм}$$

$$46 \text{ дм} * 5 \text{ м}$$

$$40 \text{ дм} * 100 \text{ см}$$

$$3 \text{ дм} * 23 \text{ см}$$

$$6 \text{ м} * 73 \text{ дм}$$

ИСТОЧНИК

<http://korebo.74335s001.edusite.ru/p19aa1.html>

<http://www.sdelki.ru/p/565152-metr-skladnoy-metalliche-skiy-1-m>

<http://polytechnik21.ru/catalog.php?i=693007>

<http://www.moszipper.ru/index.php?productID=2801>