


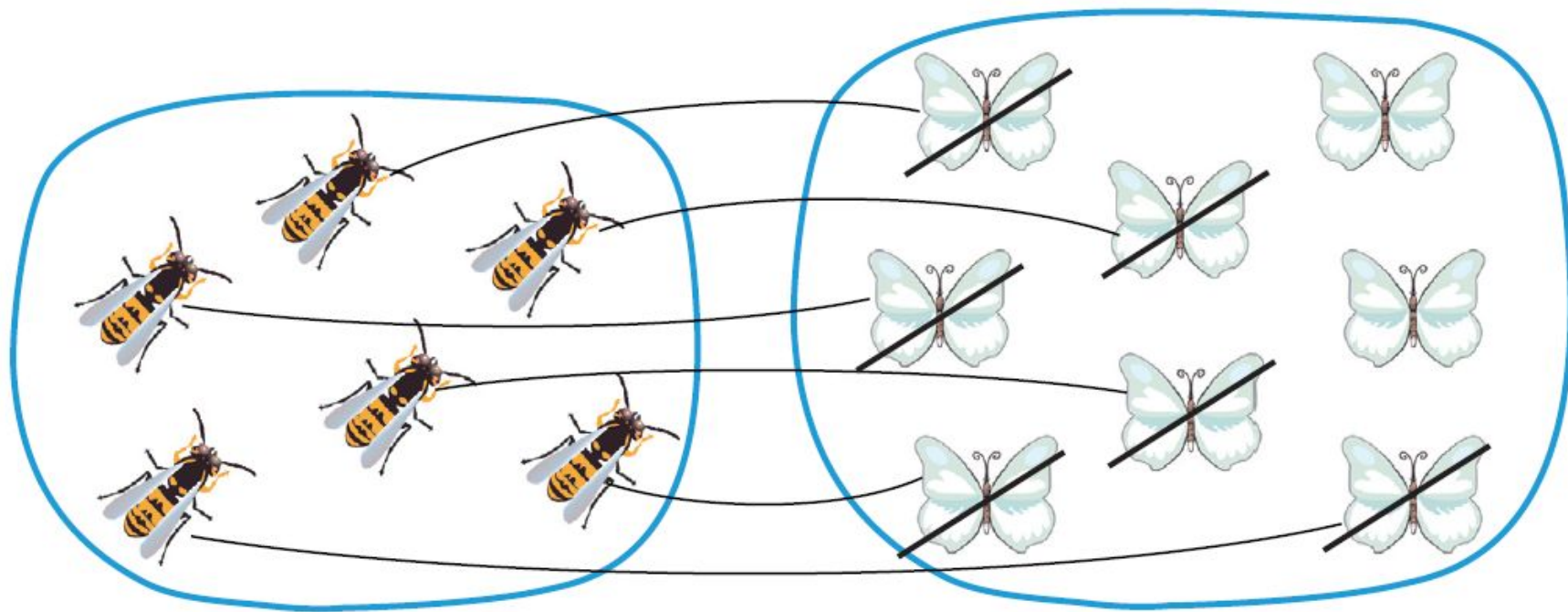


**«Отношения
(На сколько больше?
на сколько меньше?)»
1 класс Гармония**



**Учитель начальных классов
МБОУ СОШ №14 г. Балей
Забайкальский край
Чередниченко Валентина
Ивановна**

Задание 70. Объясни, что обозначает каждое число в равенстве под картинкой.



$$8 - 6 = 2$$

Из числа бабочек вычитаем столько бабочек, сколько было пчёл.

(права Маша).



Миша

число пчёл.

Я из 8 бабочек вычитаю 6 пчёл.

Получаю 2 бабочки.



Маша

**Разве можно из бабочек
вычитать пчёл?**

**6- это число бабочек, которых
столько же,**

Сколько пчёл.

< ИЛИ >

- 8 > 6 5 > 4 3 < 7 1 < 4 4 > 2
- 7 > 2 4 < 6 5 < 6 9 > 6 1 < 5

Запиши выражением, на сколько одно число больше или меньше другого.

$$8-6=2$$

$$7-3=4$$

$$4-2=2$$

$$7-2=5$$

$$6-5=1$$

$$5-1=4$$

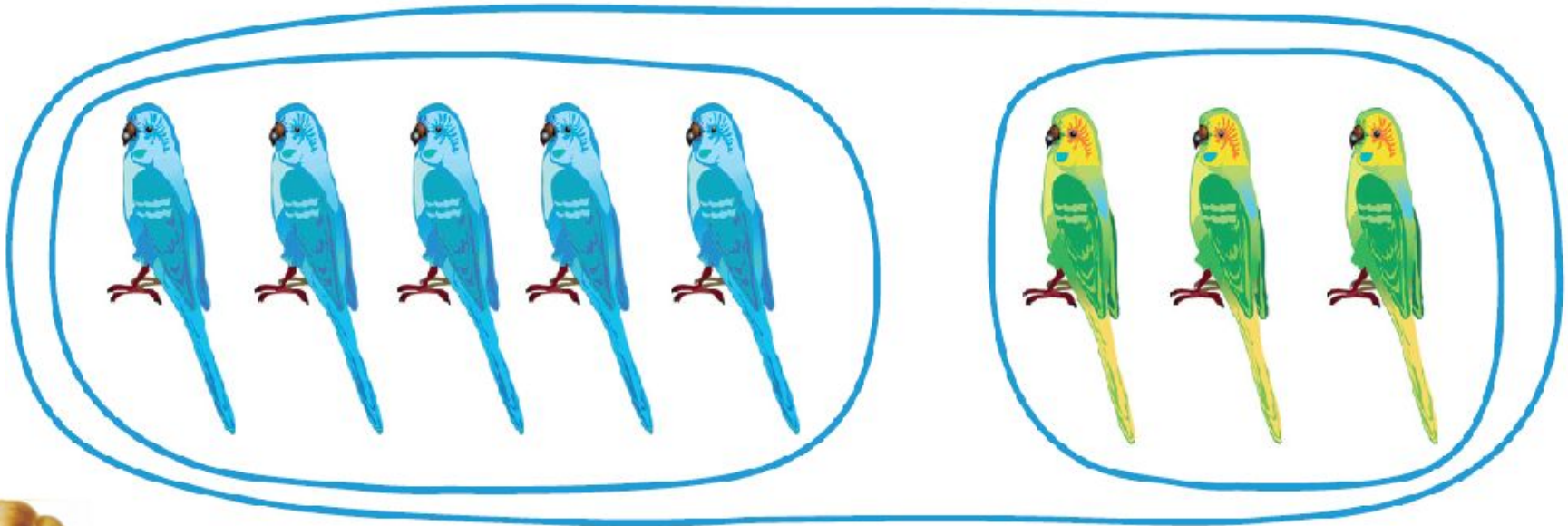
$$5-4=1$$

$$4-1=3$$

$$6-4=2$$

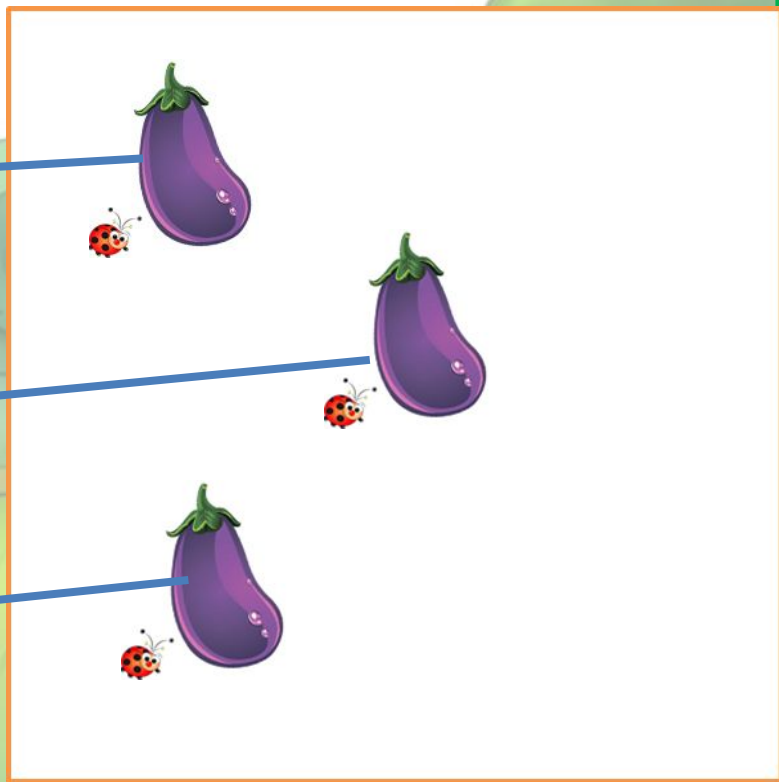

$$9-6=3$$

Задание 73. Покажи, на сколько голубых попугаев больше, чем зелёных, и запиши это равенством.



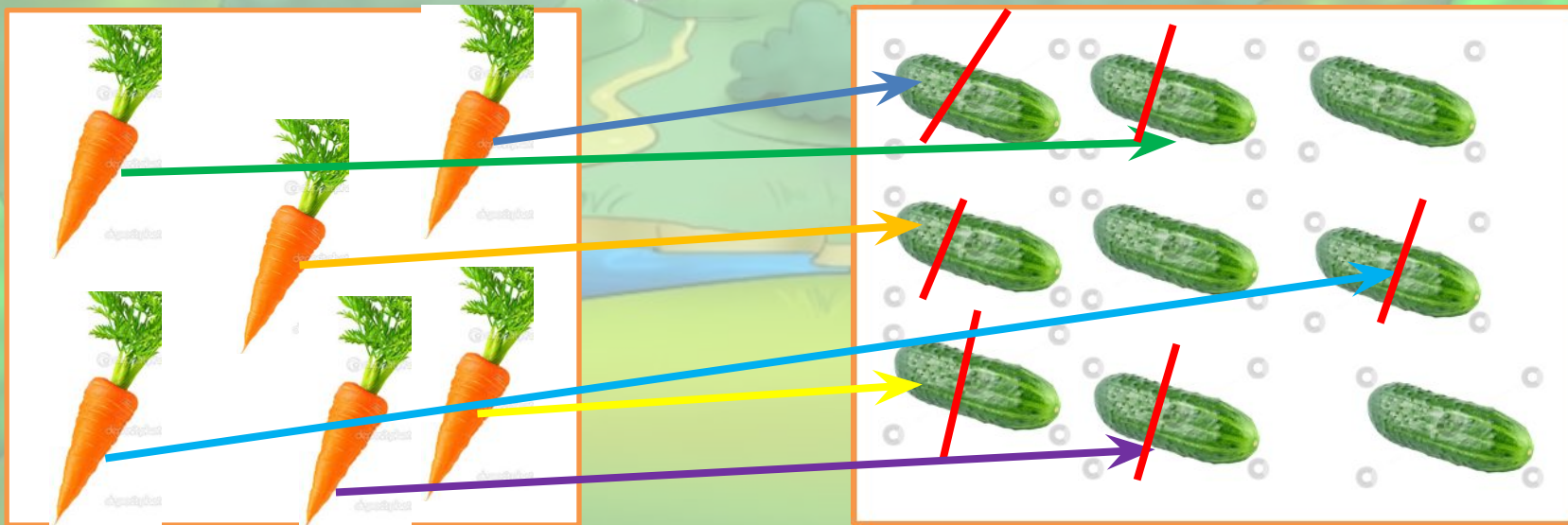
Можно ли записать по данному рисунку равенство $5 - 3 = 2$
Записать такое равенство можно. Из числа синих попугаев (5)
вычли столько, сколько зелёных птиц (3). Получили ответ на
вопросы: «На сколько синих попугаев больше, чем зелёных?» и «На
сколько зелёных попугаев меньше, чем синих?» (2).

--	--	--	--	--	--	--	--	--	--	--	--	--	--	--	--	--	--	--	--



Запиши равенства по рисунку.

Запиши равенства по рисунку.



В букете 4 жёлтых розы и 5 красных.

Объясни, что обозначают выражения.

$4+5$

$9-5$

$9-4$

Найди значения

выражений



Рефлексия содержания учебного материала

Сегодня на уроке я:

- научился...
- было интересно...
- было трудно...
- мои ощущения...
- этот урок дал мне для жизни...
- больше всего понравились задания...



Солнышко - http://antalpiti.ru/files/99604/solnyshko_4.png

Зайчик –

http://img-fotki.yandex.ru/get/4408/valenta-mog.1aa/0_78bd371e837aa_L.png

Мишка –

http://img-fotki.yandex.ru/get/5707/valenta-mog.1aa/0_78bda76d481fc_L.png

Страус –

http://img-fotki.yandex.ru/get/4406/valenta-mog.1aa/0_78bd75a44d954_L.png

Ёжик -

http://img-fotki.yandex.ru/get/5706/valenta-mog.1aa/0_78bdbeed425f7_L.png

Розы- http://img-fotki.yandex.ru/get/5706/valenta-mog.1aa/0_78bdb_eed425f7_L.png

Интернет-ресурсы

