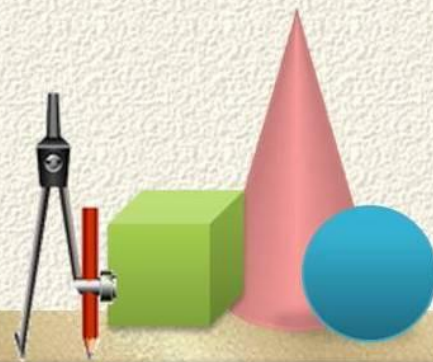


Урок математики во 2 классе



Устный счёт

$2+2+2+2$

$3+5$

$15-7$

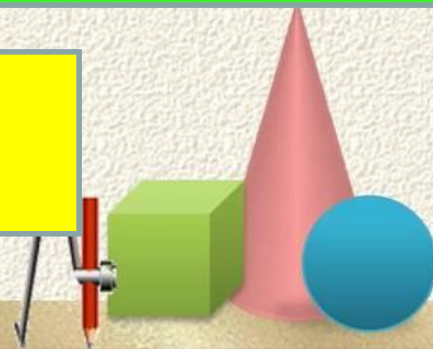
$50-42$

$4+4$

$1+1+1+1+1+1+1+1$

$28-20$

$5+3$



Устный счёт


Какое число спряталось под квадратом?

$$27 + 13 = 40$$

$$13 + 27 = 40$$




$$2 + 2 + 2 + 2 = 8$$

$$2 \cdot 4 = 8$$




Задача

Грачи летели с юга в родные края. Сначала они летели тремя рядами по 4 грача в каждом ряду. Сколько грачей летело в стае?







$$4+4+4=12$$

$$4 \cdot 3 = 12$$




После отдыха птицы полетели в четыре ряда , по 3 птицы в каждом ряду. Сколько грачей скоро прилетит к нам ?



$$3+3+3+3=12$$

$$3 \cdot 4 = 12$$



Переместительный закон умножения




**От перестановки
множителей произведение не
изменяется**

$$4 \bullet 3 = 12$$


$$3 \bullet 4 = 12$$






$$5 \cdot 2 = 10$$

$$5 + 5 = 10$$



$$2 \cdot 5 = 10$$

$$2 + 2 + 2 + 2 + 2 = 10$$



Молодцы !!!

