


Урок по математике в 1 классе с использованием русской народной сказки «Гуси-лебеди».

Учитель Ерденовской средней школы
Лаврухина Татьяна Ивановна



Тема урока: «Повторение пройденного материала»




Цели урока:


- закрепление знаний нумерации чисел от 1 до 10;
- закрепление знаний, умений и навыков сложения и вычитания в пределах 10;
- развитие внимания;
- развитие логического мышления.



Помните, гуси-лебеди унесли
братца...




Побежала девочка
искать его...



Карточка №1

Назовите число, которое меньше 4, но больше 2.





Карточка №2

Назовите число, которое больше 4, но меньше 6.

Карточка №3

Назовите числа от 1 до 10 через одно.





$$5 + \dots = 8$$

$$4 + \dots = 7$$


$$\dots + \dots = 5$$

$$9 - \dots = 7$$

$$6 - \dots = 2$$

$$\dots - \dots = 5$$


10, 9, 8, 7, 6, 5, 4



Увеличьте каждое число 1, 2, 3, 4, 6, 7, 8 на 2 и назови из них самое большое

Уменьшите каждое число 9, 7, 6, 4, 3, 2 на 1 и назовите из них самое маленькое








Вдруг видит – стоит избушка,
а в избушке...



...сидит Баба - Яга



Взяла девочка братца и
побежала домой





-Ответ на вопрос - спрячу

На какие два слагаемых можно разложить числа 8 и 7?

Назови число, следующее в ряду за числом 9

Назови число, идущее при счете перед числом 7





-Реши мою задачу,
тогда спрячу

Задача

Под яблоней лежало
3 яблока. С дерева упало
еще 4 яблока.


Сколько всего яблок лежит под яблоней?

- Ответ на вопросы - спрячу



Назови число, которое на 1 больше, чем 4

Назови число, которое на 1 меньше, чем 7



И жили они долго и
счастливно!

